

Je fais le bilan

1 Écris les réponses.



2 Complète les égalités. Tu peux utiliser le répertoire de ton cahier de maths.

$5 + 3 = \dots\dots$

$4 + \dots\dots = 9$

$\dots\dots + 3 = 9$

$3 + 6 = \dots\dots$

$4 + \dots\dots = 10$


$\dots\dots + 0 = 7$

$2 + 8 = \dots\dots$

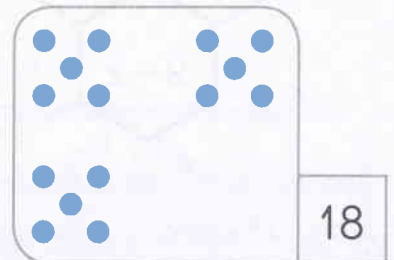

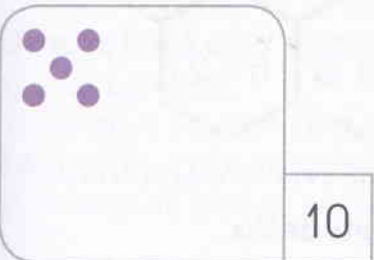
$3 + \dots\dots = 8$

$\dots\dots + 7 = 10$

3 Écris le nombre de points.



4 Dessine les points qui manquent.



5 Complète.

$10 + 6 = \dots\dots$

$10 + 2 = \dots\dots$

$10 + \dots\dots = 19$

6 Écris sur la file tous les nombres qui manquent.

