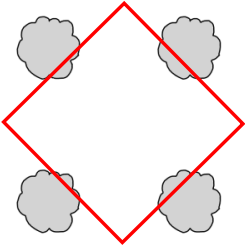










N°1	Les enfants ont 96 euros en tout.	.../1
N°2	Le clown a 9 manières différentes de s'habiller.	.../1
N°3	<i>Dessine le nouveau bassin.</i> 	.../1
N°4	 = 2  = 4  = 1  = 3  = 5	.../1
N°5	<i>Trace le tomahawk en respectant la consigne. Numérote tes traits pour montrer dans quel ordre tu les as tracés.</i>  Plusieurs solutions. Points de départ possibles ○	.../1