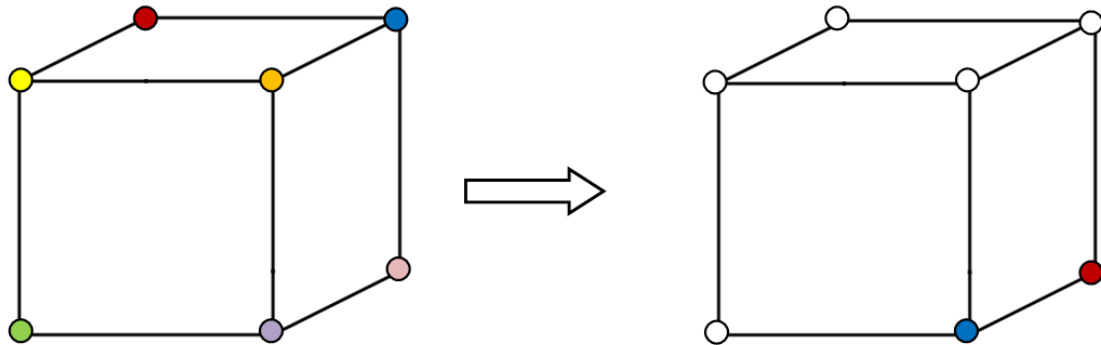
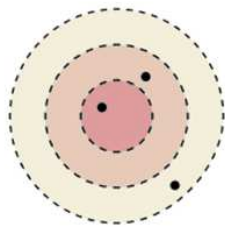


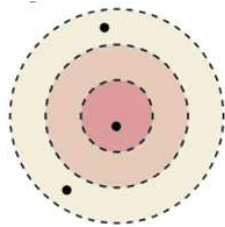
**N°1** On a fait tourner ce cube. Retrouve la couleur de chaque sommet.



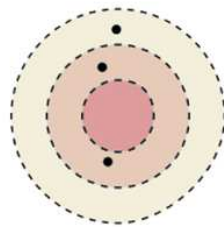
**N°2** Quel est le score de la dernière cible ?



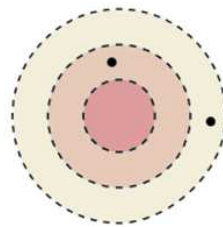
48 points



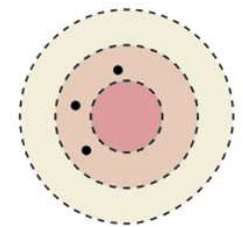
38 points



32 points



18 points

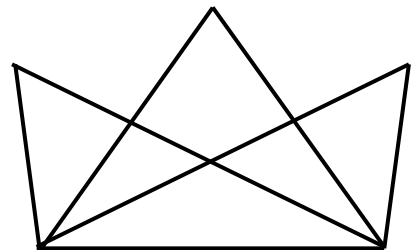



? points

**N°3** Écris en toutes lettres le chiffre manquant pour que la phrase soit juste.



**N°4** Combien y a-t-il de triangles dans cette figure ?



**N°5**  À la porte d'un manoir, un espion observe un garde. Un homme arrive. Le garde lui dit : « cinq », l'homme répond : « quatre » et le garde le laisse entrer. Un deuxième se présente. Le garde lui dit : « six », il répond : « trois » et entre. À un troisième homme, le garde dit : « quatre », l'homme répond : « six » et le garde le laisse aussi passer. L'espion veut entrer à son tour. Le garde lui dit : « sept ».

**Que doit-il répondre pour entrer ?**