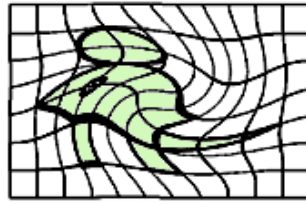
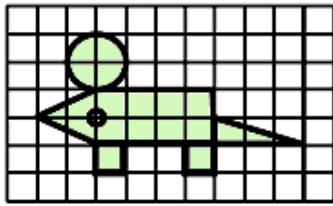
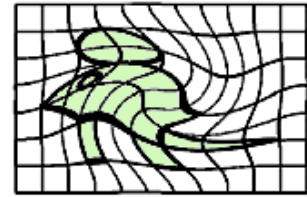


N°1 Retrouve l'image déformée de la souris.



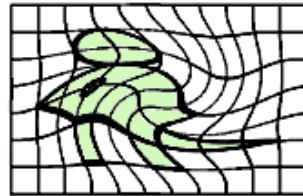
A




B



C



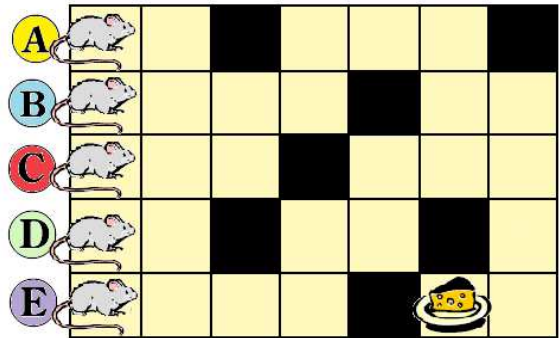
D



E

N°2 Cinq Souris veulent arriver au fromage. Mais elles ne savent pas se déplacer en diagonal.

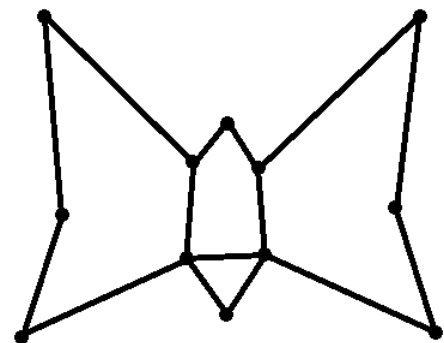
Quelle souris a le moins de distance à parcourir pour arriver au fromage ?



N°3 Observe la suite, trouve la règle et complète.



N°4 Comment tracer ce papillon sans lever le stylo et sans repasser par-dessus un trait déjà tracé ?



N°5 Quelle est la cible qui ne permet pas de marquer 25 points avec 3 flèches ?

