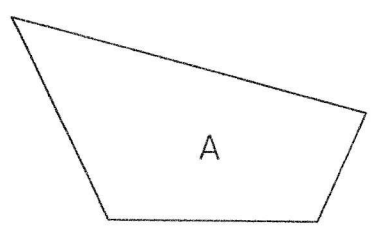


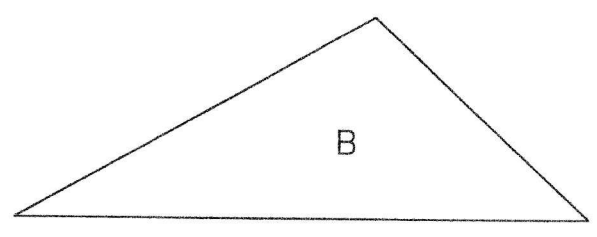
**Compétences :** Reconnaître des polygones et identifier leurs sommets et leurs côtés.

Prénom ..... Date .....

**1** Pour chaque polygone, **dessine** un point rouge sur chaque sommet et **repeste** ses côtés en bleu.  
**Complète** les phrases.



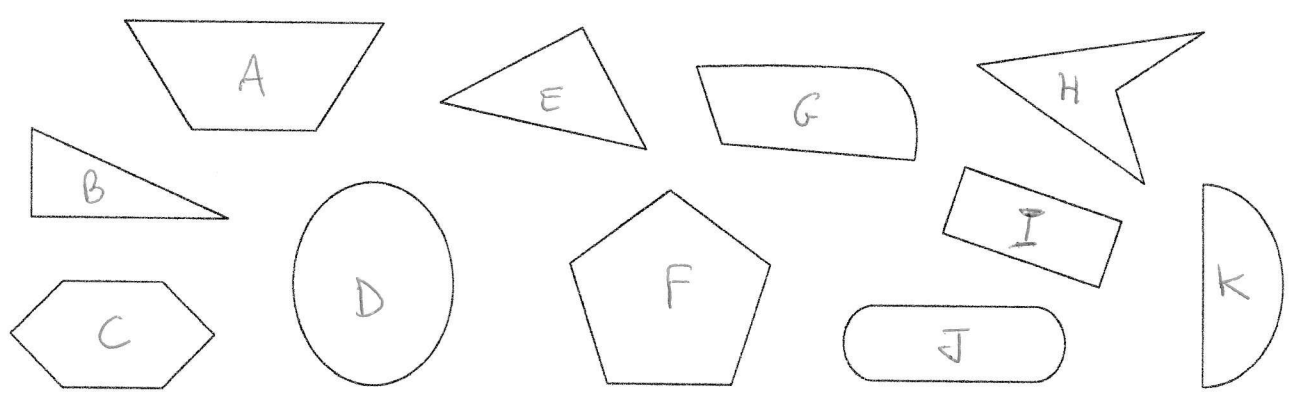
La figure A possède ..... sommets  
et ..... côtés.



La figure B possède ..... sommets  
et ..... côtés.

**Coche.** Un polygone possède autant de sommets que de côtés.  oui  non

**2** Colorie en jaune les polygones.



**3** Barre l'intrus dans cette collection de polygones.

