

Lecture compréhension et écriture

Ces deux exercices sont également des exercices de **copie** : effectue-les sur ton cahier en faisant bien attention à l'orthographe et au soin.

1°/ Lis les étiquettes, replace les et réécris la phrase dans le bon ordre.

volé

chat

Le

a

jambon.

du

Le chat a volé du jambon.

notre

Assen

chauffeur

est

bus.

de

Assen est notre chauffeur de bus.

courses

faire

Maman

va

ses

marché.

au

Maman va faire ses courses au marché.

grandes

juillet

les

En

c'est


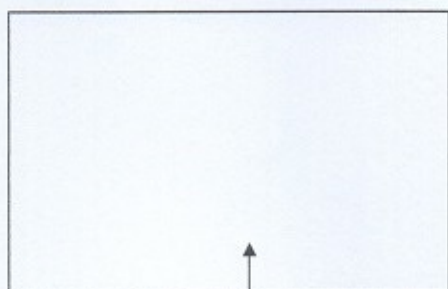
vacances

En juillet, c'est les grandes vacances.

2°/ Lis, recopie et dessine ce que tu as compris

1°/ Un taxi attend des clients devant l'aéroport.

2°/ Astérix est monté en haut d'un arbre il surveille les romains.



3°/ Un vaisseau spatial approche de la lune, il va se poser.

Rituels

Écrire des suites de nombres

Dans chaque suite, il manque un nombre. Trouve-le.

• 178 → 188 → 198 → 218 → 228 → 238 → 248 → 258 On avance de 10 en 10.

Le nombre manquant est 208.

• 296 → 297 → 298 → 299 → 301 → 302 → 303 → 304 On avance de 1 en 1.

Le nombre manquant est 300.

Lisa compte de 10 en 10 en partant de 305.

• Lisa dira-t-elle le nombre 405 ? oui

• Et le nombre 500 ? Non, car en comptant de 10 en 10, les unités ne changent pas. Les nombres se termineront tous par 5.

• Quel nombre plus grand que 520 dira-t-elle en premier ?

Elle dira 525.

• Quels nombres dira-t-elle entre 600 et 630 ?

605 – 615 – 625



La monnaie

Quelle somme d'argent représentent ces pièces et ces billets ?




On compte 25 € (3 x 5 € et 5 x 2 € → 15€ + 10 € = 25 €)

Trouve deux façons de réaliser 26 € en n'utilisant que des pièces de 2 € et des billets de 5 €.

26 € = 4 x 5 € et 3 x 2 € → 20 € + 6 €

26 € = 2 x 5 € et 8 x 2 € → 10 € + 16 €




Calcul : les compléments à la centaine

Lisa a les fléchettes jaunes et Alex les fléchettes bleues.

• Combien manque-t-il de points à Lisa pour obtenir 100 points ? 60 + 20 + 20 = 100

• Combien manque-t-il de points à Alex pour obtenir 100 points ? 30 + 20 + 20 + 30 = 100

• Alex et Lisa additionnent les points qu'ils ont obtenus. Combien leur en manque-t-il pour avoir 200 points ? 80 + 70 + 50 = 200




Problèmes multiplicatifs

Problème 3

Paul plante des salades.
Il va planter 5 rangées contenant chacune 8 salades.
Combien de salades Paul va-t-il planter ?



Nombre de salades
par rangée : ...8.....



Nombre de
rangées : ...5.....

Complète. ...5..... \times ...8..... = ...40.....

Paul va planter ...40..... salades.

Problème 4

Le maître a reçu 7 boîtes de 10 craies.
Combien de craies a-t-il reçues ?

10 craies, c'est une
dizaine de craies.



Complète. ...7..... \times ...10... = ...70.

Le maître a reçu ...70..... craies.

Rappelle-toi :

- Tu peux dessiner la situation pour t'aider à mieux la comprendre.
- Tu peux utiliser une addition répétée pour t'aider à calculer.

Lire l'heure

Retiens bien : Il y a deux façons de dire l'heure à partir de midi jusqu'à minuit.
Tu peux dire par exemple :

- 1 h de l'après-midi ou 13 h
- 4 h de l'après-midi ou 16 h
- 7 h du soir ou 19 h
- 10 h du soir ou 22 h

Pour passer de l'une à l'autre il faut rajouter 12h.

Découvrons

1 Observe et complète.



Demain, je prends le train à 7 h du soir.



Est-ce le train de 19 h ?



7..... h

+ 12 h



19..... h



Pour passer de l'heure du matin à l'heure du soir, on ajoute12. heures.

Je m'entraîne

2 Écris l'heure du matin et celle du soir.



matin
...8... h ...00...

soir
20... h ...00...



matin
...4... h ...30...

soir
16... h ...30...



matin
...10... h ...30...

soir
22... h ...30...

3 PROBLÈME



C'est samedi soir.



Quelle heure est-il ? Il est20.h.00.....

Quel film Mélissa peut-elle encore voir ce soir ? Elle peut voir le film numéro3.....

Films	Horaires
① Fantômes !	16 h 00
② Les Choupinettes	18 h 00
③ La Fée Zorzine	21 h 00

Mais il vaudrait mieux qu'elle aille se coucher car le film de 21 h 00 est programmé un peu trop tard pour les enfants

