

CALCUL MENTAL

<https://calculatice.ac-lille.fr/spip.php?rubrique2>

Tables x2 x3 x4 et x5

Quadricalc



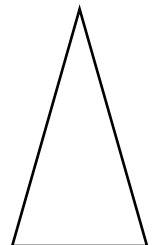
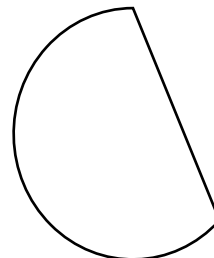
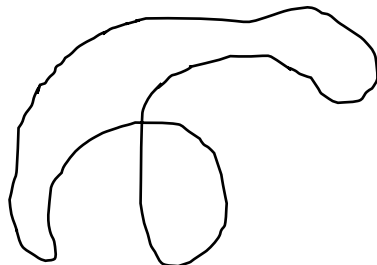

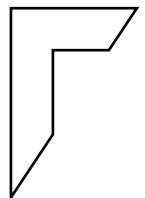
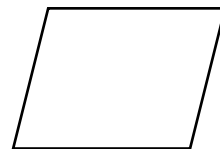
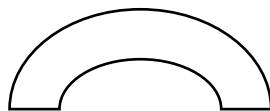
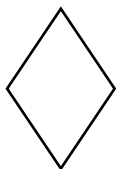
Opérations à trous

Exercices	Niveau	Score (... / 20)
« Quadricalc »
« Opération à trou »

ESPACE ET GEOMETRIE



Exercice 1 : colorie ou entoure les figures qui sont des polygones.



Exercice 2 : complète le tableau en donnant le nombre de côtés et de sommets.

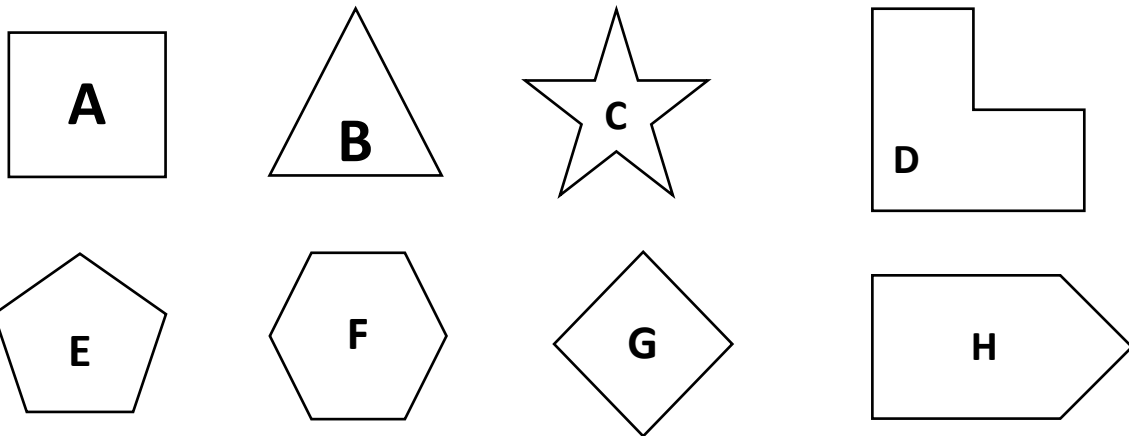


Figure	Nombres de côtés	Nombres de sommets
A		
B		
C		
D		
E		
F		
G		
H		

Exercice 3 : trace 5 polygones et 5 non-polygones. Tu peux les tracer à la main c'est-à-dire sur une feuille de papier ou grâce à l'ordinateur.