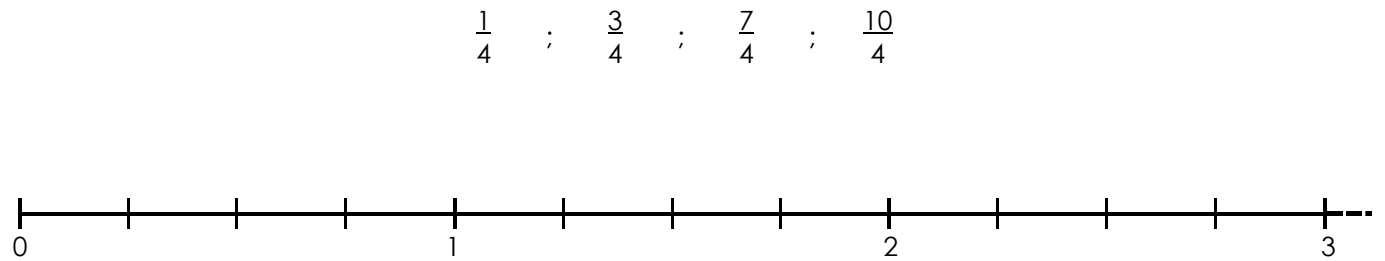
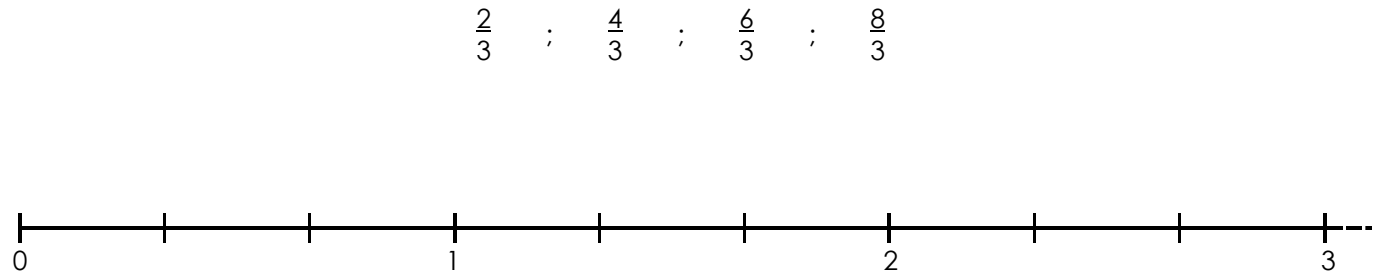
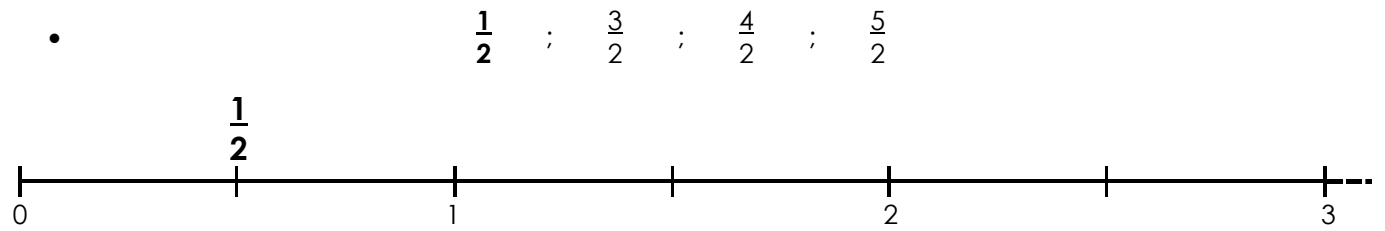


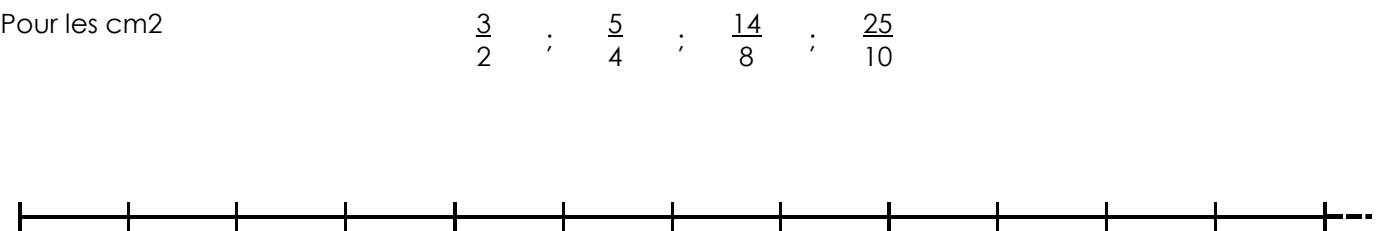
1./ Complète en chiffres ou en lettres les nombres suivants :

<b>trois quarts</b>	⇔	$\frac{3}{4}$		$\frac{5}{8}$	⇔	<b>cinq huitièmes</b>
.....	⇔	$\frac{8}{2}$		.....	⇔	six quarts
.....	⇔	$\frac{9}{6}$		.....	⇔	trente-cinq dixièmes
.....	⇔	$\frac{7}{10}$		.....	⇔	trente cinquantièmes
.....	⇔	$\frac{25}{3}$		.....	⇔	soixante-cinq centièmes
.....	⇔	$\frac{75}{100}$		.....	⇔	soixante cinq-centièmes
.....	⇔	$\frac{54}{2}$		.....	⇔	dix tiers

2./ Place sur les axes gradués les nombres donnés :



Pour les cm<sup>2</sup>



0

1

2

3