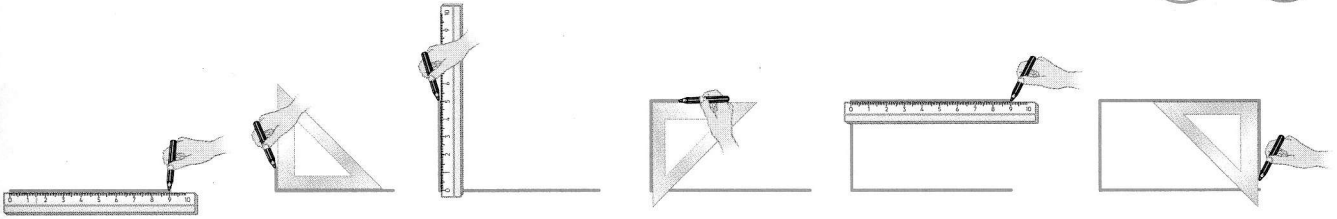



1 Observe comment Théo trace un rectangle de 5 cm et de 9 cm de côté :




À ton tour **trace** ce rectangle.

Un rectangle possède 4 angles droits et des côtés opposés de même longueur.



Je m'entraîne

2 **Trace** un rectangle.
Deux côtés sont déjà tracés.



3 **Trace** 2 carrés de 3 cm de côté.



Un carré possède 4 angles droits et 4 côtés de même longueur.

