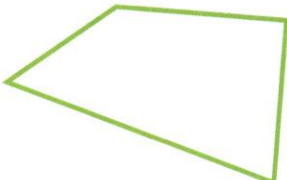


46 Les quadrilatères

Mémorise !

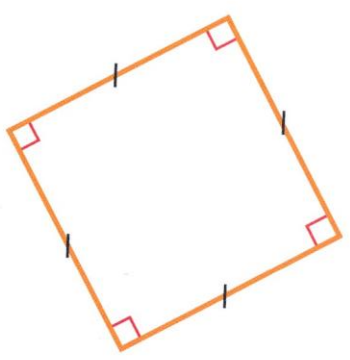
• Une figure qui a **quatre côtés** est un **quadrilatère**.



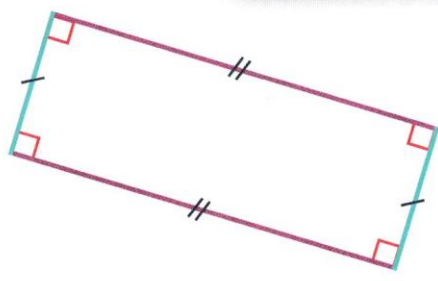
• Le carré et le rectangle sont des quadrilatères particuliers.



Pour indiquer que des côtés sont de même longueur, on y place le même symbole.



Le **carré** a :
• 4 angles droits
• 4 côtés de même longueur.



Le **rectangle** a :
• 4 angles droits
• ses côtés opposés de même longueur.

Vérifie !

► Colorie les carrés en **bleu** et les rectangles en **orange**.

