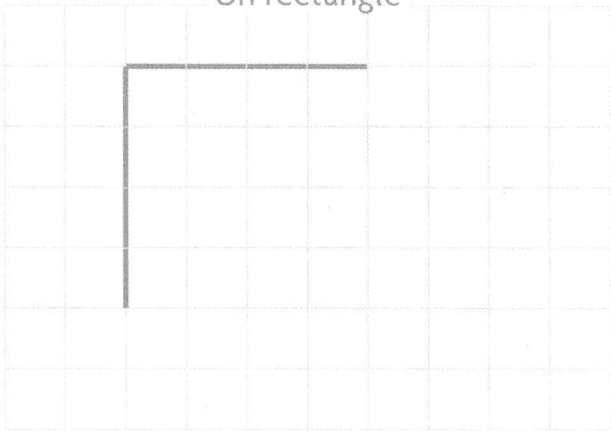



Construire des rectangles et des carrés

1 **Termine** la construction de chaque figure. **Trace** les traits avec la règle.

Un rectangle




Un carré




.....
L'unité de longueur pour les exercices 2 et 3 est le côté d'un carreau.

2 **Trace** un rectangle avec la règle.
Ses côtés mesurent 2 unités et 6 unités.



3 **Trace** un carré avec la règle.
Ses côtés mesurent 3 unités.



4 **Trace** avec la règle trois carrés de tailles différentes.

