

# Tracer un rectangle, un carré


## Découvrons ensemble

Trace un rectangle de 6 carreaux de longueur et 4 carreaux de largeur.



Un rectangle a :  
 - 4 angles droits,  
 - des côtés opposés de même longueur.

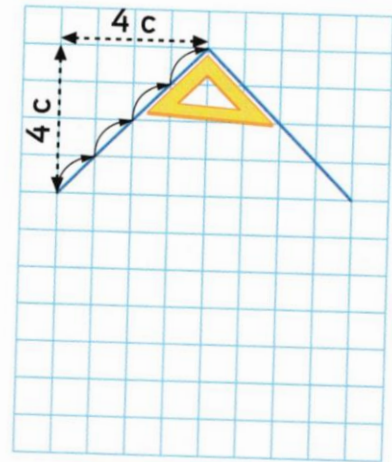
Le petit côté s'appelle la **largeur**, le grand côté s'appelle la **longueur**.



Termine le carré.



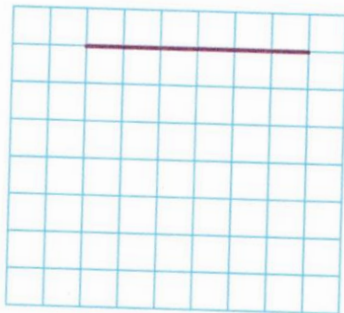
Un carré a :  
 - 4 angles droits,  
 - 4 côtés de même longueur.



## Je m'entraîne

1 Termine :

a ce carré. Un côté est déjà tracé.



b ce rectangle. 3 sommets sont donnés.

