


Meuree

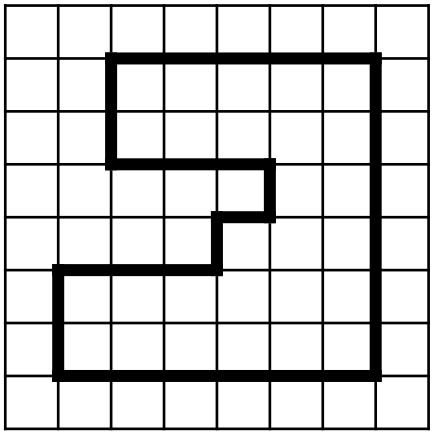
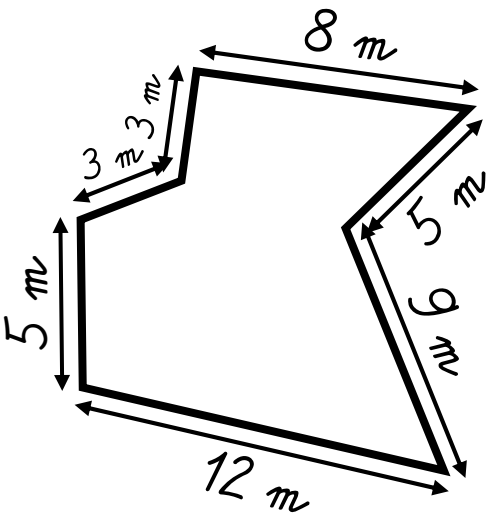
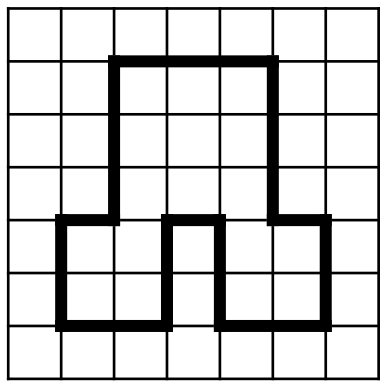
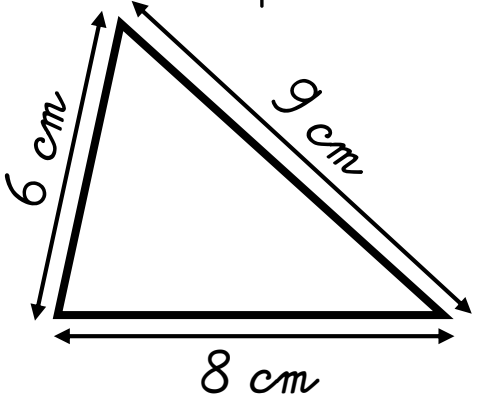
CM2

Date

Prénom



1. Calcule le périmètre de ces polygones.



P = _____
P = _____ cm


P = _____
P = _____ carreaux

P = _____
P = _____ m

P = _____
P = _____ carreaux

2. Résous ce problème dans ton cahier.

Un éleveur veut entourer un pré rectangulaire de 250 m de long et de 78 m de large avec une clôture électrique.
Quelle longueur de clôture doit-il acheter ?



3. Dans ton cahier, trace deux polygones différents de périmètre 16 carreaux !