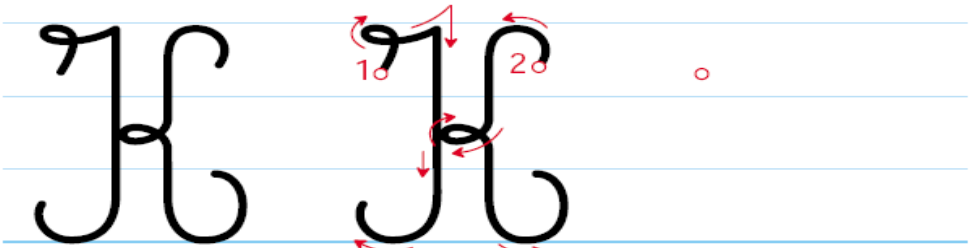


La charade du jour	<p>Mon premier est ce que font les oiseaux avec leurs ailes. Mon deuxième est l'endroit où l'on plante des tentes. On peut trouver mon tout à la Réunion.</p> <p>La solution : un volcan (volent – camp)</p>
Mathématiques Calcul mental Réviser les tables de 2 à 9	<p>Réviser <u>les tables de 2 à 9</u> : - avec la tablette: logicieleducatif.fr Les élèves connaissent déjà le fonctionnement du site. Sélectionner la classe (ce2) puis calcul puis tables de multiplication. Enfin sélectionner les tables de 2 à 9 .</p>
Dictée : Les premiers hommes.	<p>1) Les enfants doivent apprendre les mots suivants: premier, une hutte, une caverne, un outil, fabriquer (mars), sauvage, la pêche(saturne), nomade, un troupeau. 2) Dictée : Les premiers hommes vivent dans des petites huttes, des tentes et des cavernes. Ils fabriquent des outils en pierre.(fin de la dictée pour le groupe mars) Ils mangent des fruits sauvages. Ils vivent aussi de la pêche et de la chasse. Leur plus grande découverte est le feu. (fin de la dictée pour le groupe saturne) Ils sont nomades et ils se déplacent en même temps que les troupeaux qu'ils chassent.</p>
Conjugaison Le futur des verbes en -er	<p>1) Regarder la vidéo suivante sur le site lesfondamentaux.reseau-canope.fr: grammaire--> le futur. 2) Demander à l'enfant de conjuguer à l'oral les verbes : bavarder et lancer.</p>
Lecture Test sur le site Lalilo.com	<p>Sur le site lalilo.com--> connexion--> je suis un élève-->insérer le code de l'école: HBEHJT--> --> Mme Chamand--> cliquer sur le prénom de l'enfant --> Puis faire les exercices.</p>
Culture générale	<p>Regarder cette vidéo sur le site www.lumni.fr--> écrire dans la barre de recherche: L'eau dans tous ses états !</p>
Inférences	<p><i>Léo et Julie jouent au football dans le jardin. Maman enlève les mauvaises herbes dans le potager. Papa prépare un gâteau au chocolat. Poudain, nous entendons un grand bruit: la vitre de la cuisine vole en éclats.</i> <i>Qui a cassé la vitre? Comment?</i></p> <p><i>Pour son petit déjeuner, Lucie se verse un grand verre de lait. Patoche, son chat, termine sa nuit sur le canapé. Maman l'appelle dans le jardin pour l'aider à étendre le linge. Lorsque Lucie revient dans la cuisine, son verre de lait est vide.</i> <i>Que s'est-il passé?</i></p> <p>Texte 1: Les enfants ont cassé la vitre en jouant au football. Texte 2: C'est Patoche qui a bu le verre de lait.</p>
Calcul posé La multiplication	<p>1) Regarder la vidéo sur lumni: Regarder la vidéo sur lumni: ce2-->mathématiques--> la multiplication--> poser une multiplication à 1 chiffre. 2) Sur le site www.lnstitut.com, mathématiques-->calculs-->poser une multiplication--> poser une multiplication (sans virgule)--> multiplier par un nombre à un chiffre (sans retenue)-->exercice 1.</p>
Ecriture La lettre K	

	Voici le tracé de la lettre .
Problème du jour Les cahiers	<div style="border: 1px solid blue; border-radius: 15px; padding: 10px; margin-bottom: 10px;"> <p>1. Un cahier coûte 3 €. Quel est le prix de 23 cahiers ?</p> </div> <p>1) Lire l'énoncé. 2) Comme tous les cahiers coutent le même prix, quelle opération doit-on poser? 3) Ecrire l'opération. 4) Ecrire la phrase réponse.</p>
Mesures Lire l'heure de l'après-midi	Sur le site www.linstit.com , mathématiques-->mesures--> les heures-->lire les heures de l'après-midi--< exercice 1.

1) Ecriture: la lettre K

Handwriting practice for the letter 'K' on a grid background. The first row shows a large uppercase 'K' with numbered arrows indicating the stroke order: 1 for the vertical line down, 2 for the top diagonal down to the right, and 3 for the bottom diagonal down to the left. The following rows show smaller uppercase 'K's and lowercase 'k's, followed by the words 'Kevin', 'Kenya', and the sentence 'Kilou est un chien malin.' written in cursive.

2) Problème du jour

1. Un cahier coûte 3 €.
Quel est le prix de 23 cahiers ?


3) Les inférences

Léo et Julie jouent au football dans le jardin. Maman enlève les mauvaises herbes dans le potager. Papa prépare un gâteau au chocolat. Soudain, nous entendons un grand bruit: la vitre de la cuisine vole en éclats.

Qui a cassé la vitre? Comment?

Pour son petit déjeuner, Lucie se verse un grand verre de lait. Patoche, son chat, termine sa nuit sur le canapé. Maman l'appelle dans le jardin pour l'aider à étendre le linge. Lorsque Lucie revient dans la cuisine, son verre de lait est vide.

Que s'est-il passé?

<p>La charade du jour du jour</p>	<p>Mon premier se fait en marchant. Mon deuxième est un rongeur. Mon troisième est une précipitation. Mon tout s'utilise en cas d'averse. C'est le parapluie.</p>
<p>Mathématiques Calcul mental Les tables de 2 à 9</p>	<p>Réviser <u>les tables de 2 à 9</u> : - avec la tablette: logicieleducatif.fr Les élèves connaissent déjà le fonctionnement du site. Sélectionner la classe (ce2) puis calcul puis tables de multiplication. Enfin sélectionner les tables de 2 à 9.</p>
<p>Mesures Lire l'heure</p>	<p>Sur le site www.linstitut.com, mathématiques-->mesures--> les heures-->lire les heures de l'après-midi--< exercice 1.</p>
<p>Dictée : Un cheval artiste</p>	<p>1) Les enfants doivent apprendre les mots suivants: artiste, une écurie, traverser, la cour, l'atelier, travailler, un soldat(mars) tremper, une goutte (saturne)lui, fier 2) Dictée : C'est un cheval artiste. La nuit, il quitte son écurie et traverse la cour jusqu'à l'atelier où travaillent les soldats. (fin de la dictée pour le groupe mars)Il trempe sa queue dans un pot de couleur. Il fait sauter sur lui mille petites gouttes bleues. (fin de la dictée pour le groupe saturne) Il la trempe encore dans un autre pot et mille petites gouttes jaunes sautent sur lui. Il est fier !</p>
<p>Culture générale</p>	<p>Regarder cette vidéo sur le site www.lumni.fr--> écrire dans la barre de recherche: Il était une fois la vie : le cerveau.</p>
<p>Lecture Le blaireau</p>	<div style="border: 1px solid black; padding: 10px;"> <h2 style="text-align: center; color: #c0c0c0;">Le blaireau</h2> <div style="display: flex; justify-content: space-between;"> <div style="width: 45%;"> <p>Le blaireau est un animal qui vit la nuit, il passe ses journées sous terre à dormir .</p> <p>Le blaireau a un corps allongé et des courtes pattes avec cinq doigts . Il mesure 1 mètre de long , pèse jusqu'à 20 kg Son museau est long et rayé de noir, sa queue est toute petite . Il a une fourrure épaisse et de longs poils noirs . Ses grosses pattes lui servent à trouver de la nourriture et à creuser des terriers .</p> <p>Il se nourrit de vers , d'insectes , d'oiseaux , de petits animaux , de fruits et de céréales . Son museau pointu lui sert à chercher sa nourriture .</p> <p>Le blaireau est très propre . Il ne mange jamais à l'intérieur de son terrier . Il fait ses besoins dans des trous .</p> <p>La femelle met au monde de deux à six petits .</p> </div> <div style="width: 45%; text-align: center;">  <p><u>Surigne les phrases si elles sont justes :</u></p> <ol style="list-style-type: none"> 1) Le blaireau vit dans un terrier. 2) Le blaireau passe ses journées à dormir. 3) Il mesure 100 cm. 4) Il a des pattes courtes et quatre doigts. 5) La femelle peut donner naissance à 4 petits. 6) Le blaireau a une longue queue. 7) Le blaireau se nourrit uniquement de fruits . <p><u>Entoure la bonne réponse :</u></p> <p>Le blaireau est un animal VERTEBRE INVERTEBRE</p> <p>C'est un REPTILE MOLLUSQUE MAMMIFERE</p> <p>C'est un animal NOCTURNE DIURNE</p> <div style="border: 1px solid black; padding: 2px; width: fit-content; margin: 0 auto;"> <p style="font-size: small; margin: 0;">Les animaux de la forêt. Prénom : _____</p> </div> </div> </div> </div>
<p>Anglais</p>	<p>Regarder la vidéo suivante: les parties du corps en anglais.</p>
<p>Calcul posé La multiplication</p>	<p>1) Regarder la vidéo sur lumni: Regarder la vidéo sur lumni: ce2-->mathématiques--> la multiplication--> poser une multiplication à 1 chiffre. 2) Sur le site www.linstitut.com, mathématiques-->calculs-->poser une multiplication--> poser une multiplication (sans virgule)--> multiplier par un nombre à un chiffre (sans retenue)-->exercice 1.</p>
<p>Ecriture Copie: le lion</p>	<p>L'enfant lit le texte plusieurs fois pour mémoriser le maximum de mots puis le copie en changeant de couleur à chaque fois qu'il regarde le texte. Demander à l'enfant de s'appliquer quand il écrit.</p>

Le lion

Le lion est un mammifère de la famille des félins. Il mesure environ 1 m de haut et jusqu'à 2 m de longueur. Il vit environ 15 ans et pèse de 120 à 250 kg.



Problème du jour Les robes	Ambre achète 5 robes rouges à 23 € l'unité. Combien paye-t-elle en tout ? 1) Lire le problème. 2) Si nécessaire : faire dessiner les 5 robes et écrire leur prix. Les enfants constatent que les robes ont le même prix donc la multiplication est l'opération à poser. 3) Écrire l'opération puis écrire la phrase réponse.
Grammaire Le nom	1) Regarder la vidéo suivante sur le site lesfondamentaux.reseau-canope.fr : le nom et le nom propre/ nom commun. 2) Puis faire les exercices, sur le site ortholud : grammaire/les noms/ exercices avec les noms/est-ce un nom? / exercice 1 grammaire/les noms/ exercices avec les noms/ nom commun ou propre/ exercice 1 Ou la fiche ce2-exercices- le nom
Géométrie Le rectangle	1) Regarder sur lumni.fr : tracer un rectangle. 2) Construire un rectangle ABCD dont la longueur mesure 9 cm et la largeur 2 cm.

Copie

Le lion

Le lion est un mammifère de la famille des félins. Il mesure environ 1 m de haut et jusqu'à 2 m de longueur. Il vit environ 15 ans et pèse de 120 à 250 kg.



Lecture

Le blaireau

Le blaireau est un animal qui vit la nuit, il passe ses journées sous terre à dormir.

Le blaireau a un corps allongé et des courtes pattes avec cinq doigts.

Il mesure 1 mètre de long, pèse jusqu'à 20 kg. Son museau est long et rayé de noir, sa queue est toute petite. Il a une fourrure épaisse et de longs poils noirs. Ses grosses pattes lui servent à trouver de la nourriture et à creuser des terriers.

Il se nourrit de vers, d'insectes, d'oiseaux, de petits animaux, de fruits et de céréales. Son museau pointu lui sert à chercher sa nourriture.

Le blaireau est très propre. Il ne mange jamais à l'intérieur de son terrier. Il fait ses besoins dans des trous.

La femelle met au monde de deux à six petits.



Surligne les phrases si elles sont justes :

- 1) Le blaireau vit dans un terrier.
- 2) Le blaireau passe ses journées à dormir.
- 3) Il mesure 100 cm.
- 4) Il a des pattes courtes et quatre doigts.
- 5) La femelle peut donner naissance à 4 petits.
- 6) Le blaireau a une longue queue.
- 7) Le blaireau se nourrit uniquement de fruits.

Entoure la bonne réponse :

Le blaireau est un animal VERTEBRE INVERTEBRE

C'est un REPTILE MOLLUSQUE MAMMIFERE

C'est un animal NOCTURNE DIURNE

Les animaux de la forêt.
Prénom : _____

Le problème du jour

Ambre achète 5 robes rouges à 23 € l'unité.
Combien paye-t-elle en tout ?

Géométrie : le rectangle

Trace un rectangle ABCD dont la longueur mesure 9 cm et 2 cm.

Correction

Le blaireau

Le blaireau est un animal qui vit la nuit, il passe ses journées sous terre à dormir.

Le blaireau a un corps allongé et des courtes pattes avec cinq doigts.

Il mesure 1 mètre de long, pèse jusqu'à 20 kg. Son museau est long et rayé de noir, sa queue est toute petite. Il a une fourrure épaisse et de longs poils noirs. Ses grosses pattes lui servent à trouver de la nourriture et à creuser des terriers.

Il se nourrit de vers, d'insectes, d'oiseaux, de petits animaux, de fruits et de céréales. Son museau pointu lui sert à chercher sa nourriture.

Le blaireau est très propre. Il ne mange jamais à l'intérieur de son terrier. Il fait ses besoins dans des trous.

La femelle met au monde de deux à six petits.



correction

Surligne les phrases si elles sont justes :

- 1) Le blaireau vit dans un terrier.
- 2) Le blaireau passe ses journées à dormir.
- 3) Il mesure 100 cm.
- 4) Il a des pattes courtes et quatre doigts.
- 5) La femelle peut donner naissance à 4 petits.
- 6) Le blaireau a une longue queue.
- 7) Le blaireau se nourrit uniquement de fruits.

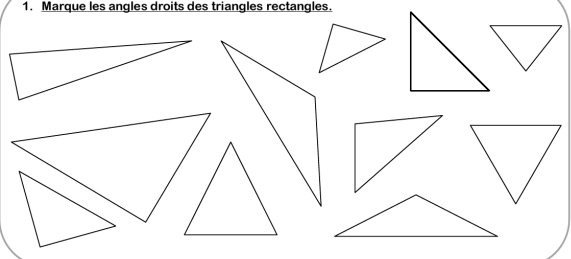
Entoure la bonne réponse :

Le blaireau est un animal **VERTEBRE** INVERTEBRE


C'est un REPTILE MOLLUSQUE **MAMMIFERE**

C'est un animal **NOCTURNE** DIURNE

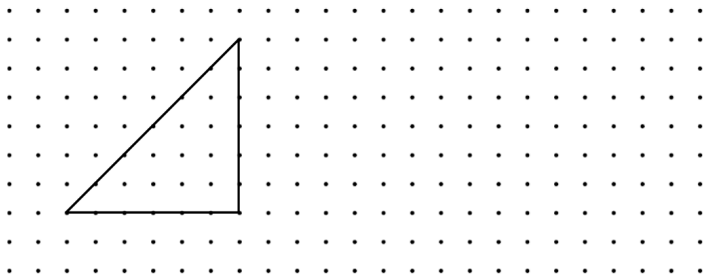
Les animaux de la forêt.
Prénom : _____

<p>La charade du jour</p>	<p>Mon premier accompagne les céréales. Mon deuxième n'est pas bas. Mon troisième est un morceau de gâteau. Mon tout est un animal tacheté . La solution : léopard(lait– haut – part)</p>
<p>Mathématiques Calcul mental Réviser les tables de 2 à 9</p>	<p>Réviser <u>les tables de 2 à 9</u> : - avec la tablette: logicieleducatif.fr Les élèves connaissent déjà le fonctionnement du site. Sélectionner la classe (ce2) puis calcul puis tables de multiplication. Enfin sélectionner les tables de 2 à 9 .</p>
<p>Dictée : les kangourous</p>	<p>1) Les enfants doivent apprendre les mots suivants: un kangourou, une queue, permettre, garder, l'équilibre, broyer (mars), transporter, une femelle(saturne), nourrir, s'abriter. 2) Dictée: Les kangourous ont une grande queue qui leur permet de garder l'équilibre quand ils sautent. Ils broient l'herbe avec leurs grosses dents aplaties. (fin de la dictée pour le groupe mars) Les femelles ont une poche sur le ventre pour transporter leurs petits.(fin de la dictée pour le groupe saturne) Les bébés s'y nourrissent et s'y abritent du danger.</p>
<p>Culture générale</p>	<p>sur le site www.lumni.fr--> écrire dans la barre de recherche: Autriche : découverte avec Scooby-Gang</p>
<p>Lecture Jeux de lecture</p>	<p>1) Sur le site ortholud, divers/jeux avec les mots/ les mots mêlés/ les animaux. 2) Puis ortholud, divers/jeux avec les mots/les lettres mélangées/ mots de 5 lettres 3) Puis ortholud, divers/jeux avec les mots/les mots coupés ou motus.</p>
<p>Anglais Le corps</p>	<p>Regarder la vidéo suivante: les parties du corps en anglais.</p>
<p>Orthographe Les accents sur la voyelle e</p>	<p>1) Relire la leçon ou lumni : Les différents accents sur le « e » : é, è et ê (31 mars). Sur le site www.linstitut.com: français--> orthographe -->lettres et sons--> le son (é) ou (è)--> exercice 5 Qu faire les exercices suivants Ecris é ou è : le ble – une eglise – le frere – la riviere – un elephant – la creme – la lumiere – la poupee – une allee – le pere – la chaumiere – un zebre –la fermiere – la beaute – le present – la bouchee – la poesie – le feminin Complète les mots avec é ou è: Le m...decin a examin... ton fr...re. Cet h...licopt...re n'est pas neuf. Veux-tu r...pondre au t...l...phone ? Pr...f...res-tu le cin...ma ou la t...l...vision ? Mets les accents qui ont été oubliés : * La mesange a chante tout l'ete. (4 accents) * La mere promene son bebe. (4 accents) * Andre mange un gâteau à la creme. (2 accents) * Une quepe m'a pique à la paupiere. (3 accents)</p>
<p>Mesures Lire l'heure</p>	<p>Sur le site www.linstitut.com, mathématiques-->mesures--> les heures-->lire les heures de l'après-midi--< exercice 2.</p>
<p>Géométrie Le triangle rectangle</p>	<p>1) Regarder la vidéo sur le site, lumni: géométrie/ les triangles/ reconnaitre un triangle rectangle + décrire un triangle rectangle+ tracer un triangle rectangle. 2) Faire les exercices suivants. 1. Marque les angles droits des triangles rectangles.</p> 

2. Reproduis ce triangle rectangle.



3. Reproduis ce triangle rectangle.




Calcul posé
La multiplication

1) Regarder la vidéo sur lumni: ce2-->mathématiques--> la multiplication--> poser une multiplication à 1 chiffre.
2) Sur le site www.linstit.com, mathématiques-->calculs-->poser une multiplication--> poser une multiplication (sans virgule)--> multiplier par un nombre à un chiffre (sans retenue)-->exercice 1.

Ecriture
Production
d'écrit

L'élève essaie d'écrire trois phrases avec les images et la banque de mots. Si vous voulez que je corrige, envoyez-moi la rédaction de votre enfant sur ma messagerie professionnelle.



verbe	émotion	Mots outils	Mots utiles
se cacher: il se cache préparer: il prépare discuter: il discute accrocher: il accroche coller: il colle	malin rusé	dans avec sur après ensuite puis derrière	poisson d'avril Le dos Un plan

Problème du jour
Les bonbons

Romane achète 5 sachets contenant chacun 24 bonbons. **Combien de bonbons a-t-elle achetés en tout ?**

1) Lire le problème.
2) Si nécessaire : faire dessiner les 5 sachets et écrire le nombre de bonbons. Les enfants constatent que les sachets contiennent le même nombre bonbons donc la multiplication est l'opération à poser.
3) Ecrire l'opération puis écrire la phrase réponse.

Lecture
Le site lalilo.com

Sur le site lalilo.com--> connexion--> je suis un élève-->insérer le code de l'école: HBEHJT--> --> Mme Chamand--> cliquer sur le prénom de l'enfant et faire les exercices.

1) Orthographe : les accents

Ecris é ou è :

le ble – une eglise – le frere – la riviere – un elephant – la creme – la lumiere –
la poupee – uneallee – le pere – la chaumiere – un zebre – la fermiere –
la beaute – le present – la bouchere – la poesie – le feminin

Complète les mots avec é ou è :

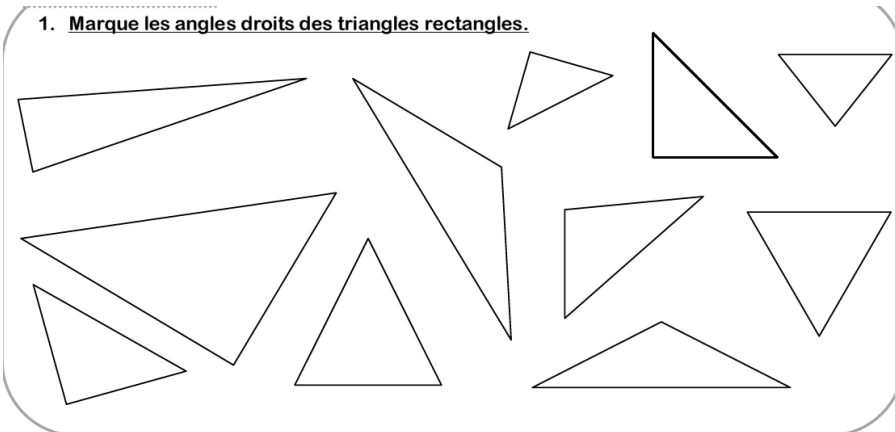
Le m_édecin a examin_é ton fr_ère. Cet h_élicopt_ère n'est pas neuf.
Veux-tu r_épondre au t_él_éphone ? Pr_éfer_{es}-tu le cin_éma ou la
t_él_évision ?

Mets les accents qui ont été oubliés :


- * La mesange a chante tout l'ete. (4 accents)
- * La mere promene son bebe. (4 accents)
- * Andre mange un gâteau à la creme. (2 accents)
- * Une guepe m'a pique à la paupiere. (3 accents)

Géométrie: le triangle rectangle

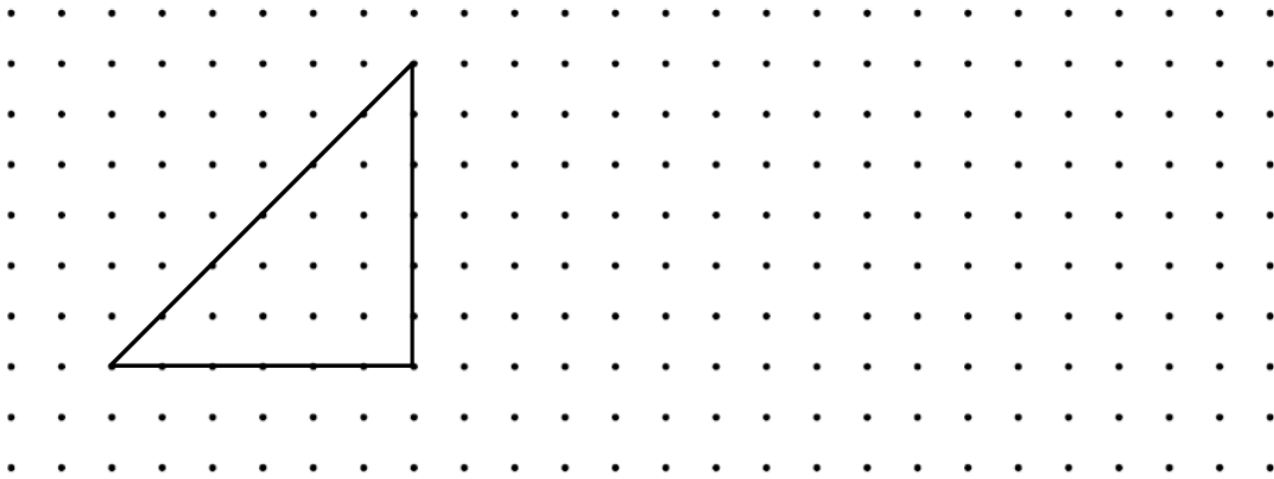
1. Marque les angles droits des triangles rectangles.




2. Reproduis ce triangle rectangle.



3. Reproduis ce triangle rectangle.



Production d'écrit



verbe	émotion	Mots outils	Mots utiles
se cacher: il se cache préparer: il prépare discuter: il discute accrocher: il accroche Coller: il colle	malin rusé	dans avec sur après ensuite puis derrière	poisson d'avril Le dos Un plan

Vendredi 24 avril 2020

Fiche parents

La charade du jour	Mon premier se fait en marchant. Mon deuxième s'agite lorsque le chien est content. Mon troisième est agréable à regarder. Mon tout est un bateau de croisière. La solution est un paquebot.
Mathématiques Calcul mental Réviser les tables de 2 à 9.	Réviser <u>les tables de 2 à 9</u> : - avec la tablette: logicieleducatif.fr Les élèves connaissent déjà le fonctionnement du site. Sélectionner la classe (ce2) puis calcul puis tables de multiplication. Enfin sélectionner les tables de 2 à 9 .
Dictée : L'éléphant	1) Les enfants doivent apprendre les mots suivants: un éléphant, content, jamais, un village, une forêt, jouant (mars), ensemble, un ruisseau(saturne), 2) Dictée: L'éléphant vivait content. Il n'allait jamais jusqu'au village. Il restait dans la forêt verte, jouant avec ses petits.(fin de la dictée pour le groupe mars) Ensemble, ils allaient boire dans le ruisseau. (fin de la dictée pour le groupe saturne)Quand le jour finissait, tous les éléphants se retrouvaient au bord du lac et ils restaient là des heures, écoutant le chant du vent.
Culture générale Les neurones	Sur le site www.lumni.fr--> écrire dans la barre de recherche: il était une fois la vie : les neurones.
Vocabulaire Les termes génériques	1) Sur le site lumni, taper dans la barre de recherche: les termes génériques. 2) Faire la fiche les termes génériques.
Mesures Lire l'heure	Sur le site www.linstitut.com , mathématiques-->mesures--> les heures-->lire les heures de l'après-midi--< exercice 2.
Problème du jour	Yanis mange 3 fruits par jour. Combien de fruits mange-t-il en tout au mois de janvier ?
Anglais Le corps	Regarder la vidéo suivante: les parties du corps en anglais.
Calcul posé La multiplication	1) Regarder la vidéo sur lumni : Regarder la vidéo sur lumni : ce2-->mathématiques--> la multiplication--> poser une multiplication à 1 chiffre. 2) Sur le site www.linstitut.com , mathématiques-->calculs-->poser une multiplication--> poser une multiplication (sans virgule)--> multiplier par un nombre à un chiffre (sans retenue)-->exercice 1.
Lecture Le chat	Ortholud--> lecture--> jeux de lecture--> questions sur un texte--> le chat.
Géométrie Le triangle rectangle	Trace un triangle rectangle avec un côté de 5 cm.
Lecture Le site lalilo.com	Sur le site lalilo.com --> connexion--> je suis un élève-->insérer le code de l'école: HBEHJT--> -->Mme Chamand--> cliquer sur le prénom de l'enfant et faire les exercices.

Vendredi 24 avril 2020

Fiche élève

Problème du jour

Yanis mange 3 fruits par jour.

Combien de fruits mange-t-il en tout au mois de janvier ?

Géométrie : le triangle rectangle

Trace un triangle rectangle avec un côté de 5 cm.