

Plan de travail en mathématiques pour les semaines à venir

Nombres :

1) Ecris les nombres en chiffres :

1 centaine 3 dizaines et 4 unités → 134

13 dizaines et 9 unités →

157 unités →

19 dizaines et 1 unité →

4u 8d

8d 12u

9d 1u

8d 2u

9d 7u

8d 17u

9d

8d 7u

2) Ecris les nombres en lettres :

cinq

six

huit

dix

soixante

cent

165 →

106 →

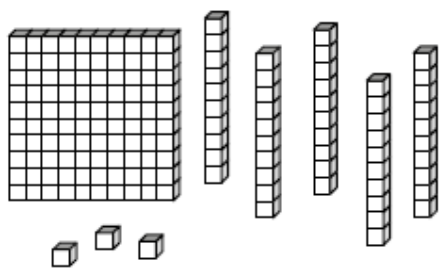
160 →

178 →

Si vous pouvez imprimer, faites les exercices sur les feuilles sauf les calculs à problèmes. Sinon recopier les exercices dans le petit cahier violet.

Faire 1 ou 2 exercices par jour selon le rythme de votre enfant.

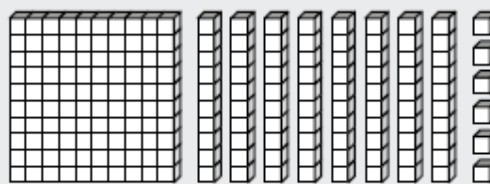
3) Observe l'exemple, puis complète :



153

$$100 + 50 + 3$$

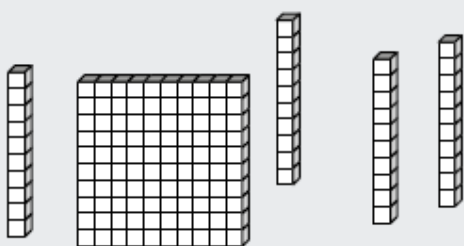
$$100 + 53$$



.....

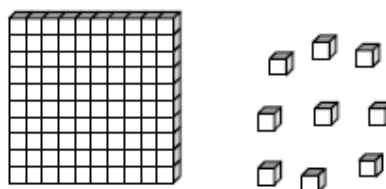
$$..... + +$$

$$..... +$$



.....

$$..... +$$

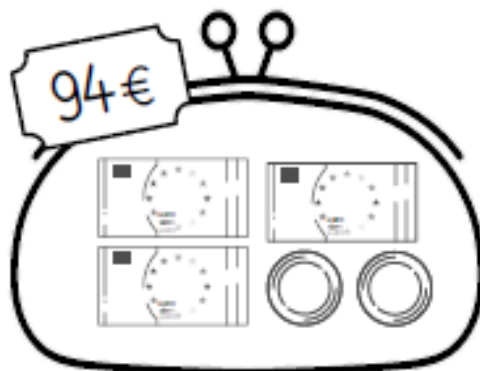
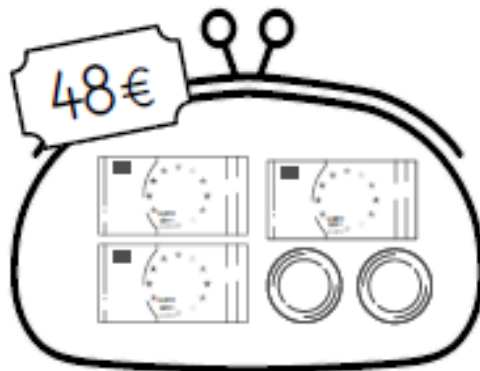
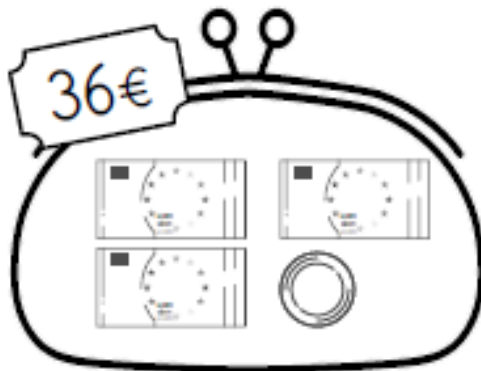
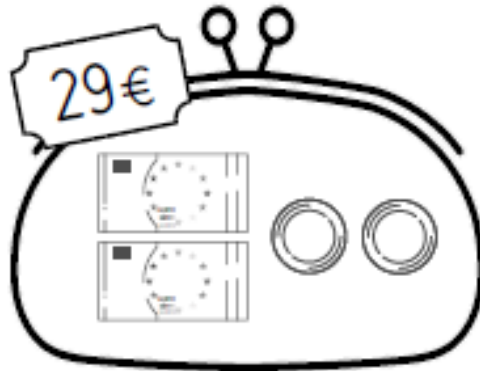
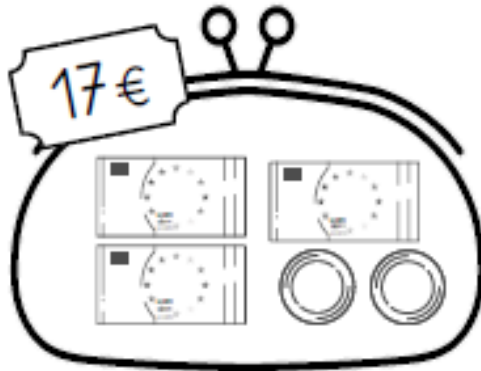


.....





$$..... +$$

Mesures :



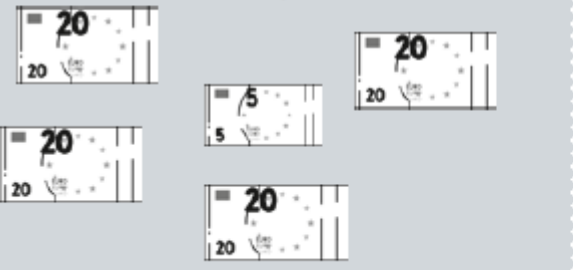

1) Ecris la valeur de chaque billet et pièce pour obtenir la somme demandée :



- 2 Dans chaque ligne, calcule la somme dépensée par chaque enfant.
Puis entoure celui des deux qui a dépensé le moins d'argent.

 Mila a dépensé 60€		 Tom a dépensé 50€
		

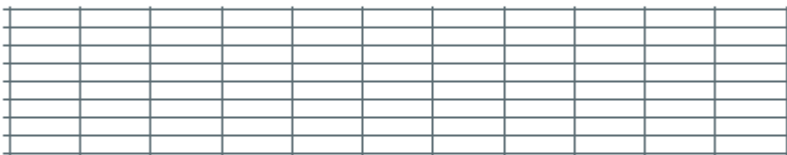
 Léo a dépensé		 Lilou a dépensé
		

 Rémi a dépensé		 Kim a dépensé
		

Problèmes :

Il y a 32 enfants dans un bus.
7 enfants montent dans le bus.

**Combien y a-t-il d'enfants
dans le bus maintenant?**



✕ Problème 2

Dans le bus, il y a 26 élèves de CP
et 37 élèves de CE1.

Combien y a-t-il d'élèves dans le bus?



