

Nom :

Date :

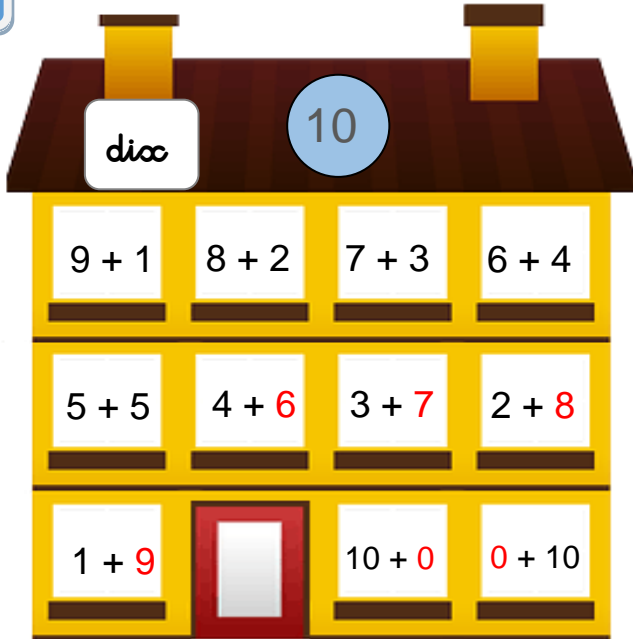
- Connaître la décomposition additive du nombre 10.

Corrigé

Décomposer le nombre 10

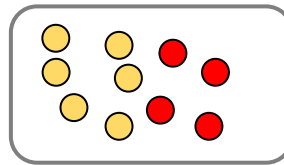
1

Complète les étiquettes.

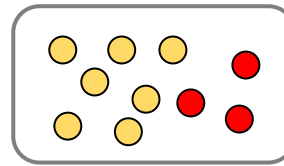


2

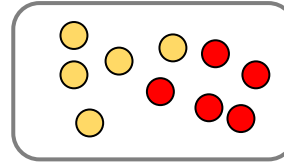
Complète pour faire 10



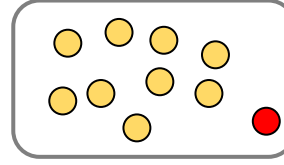
$6 + 4 = 10$



$7 + 3 = 10$



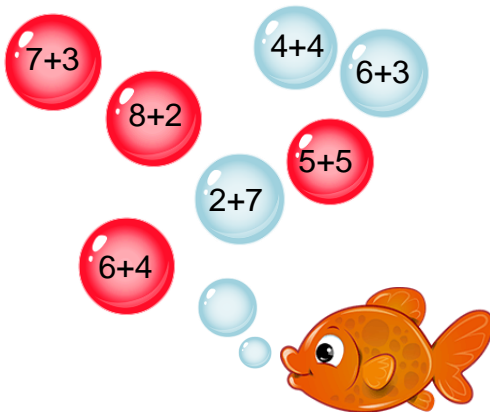
$5 + 5 = 10$



$9 + 1 = 10$

3

Colorie les bulles qui font dix.



4

Complète les additions.

$6 + 4 = 10$

$3 + 7 = 10$

$4 + 6 = 10$

$8 + 2 = 10$

$9 + 1 = 10$

$10 + 0 = 10$

$2 + 8 = 10$

$5 + 5 = 10$

$4 + 6 = 10$

$1 + 9 = 10$

5

Ecris les nombres en chiffres.

un	deux	trois	quatre	cinq	six	sept	huit	neuf	dix
1	2	3	4	5	6	7	8	9	10