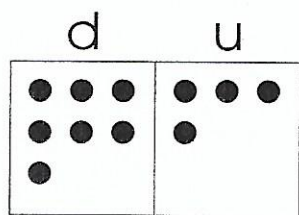
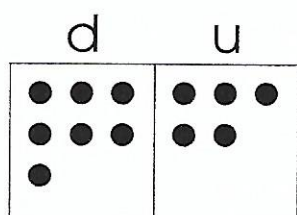
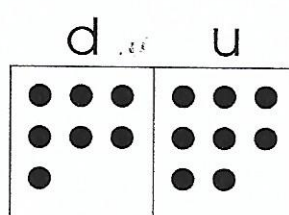
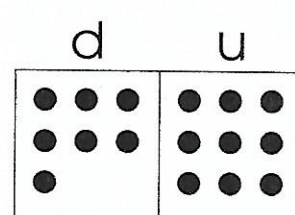


1. Ecris sous chaque tableau le nombre.









2. Complète la suite.

67 - 68 - _____ - _____ - _____ - _____ - _____ - _____ - _____ - _____

3. Range les nombres du plus petit au plus grand.

74 - 79 - 77 - 73 - 70 - 78

< < < < <

4. Complète le tableau.

avant	le nombre	après
	73	
	79	
	76	
	71	
	78	