

Table de 2

Nom: _____

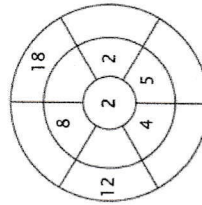
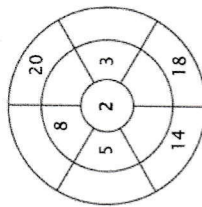
Exercice 1 :

Colorie toutes les boîtes qui sont la solution de cette table de multiplication.

16	8	16	9	18
10	14	21	4	33
17	23	19	14	6
12	3	8	25	20
12	2	4	10	2

Exercice 2 :

Complète le cercle en multipliant le chiffre au centre par l'anneau central pour obtenir les chiffres extérieurs.



Exercice 3 :

Entre le produit correct.

a) $2 \times 8 =$ _____
 d) $2 \times 5 =$ _____

b) $2 \times 6 =$ _____
 e) $2 \times 4 =$ _____

c) $2 \times 3 =$ _____
 f) $2 \times 1 =$ _____

Table de 3

Nom: _____

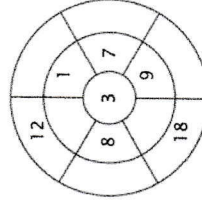
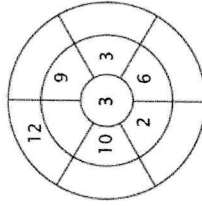
Exercice 1 :

Colorie toutes les boîtes qui sont la solution de cette table de multiplication.

24	29	9	24	28
22	30	12	9	16
18	38	5	2	11
12	1	15	21	14
17	3	31	21	8

Exercice 2 :

Complète le cercle en multipliant le chiffre au centre par l'anneau central pour obtenir les chiffres extérieurs.



Exercice 3 :

Entre le produit correct.

a) $3 \times 9 =$ _____
 d) $3 \times 8 =$ _____

b) $3 \times 5 =$ _____
 e) $3 \times 4 =$ _____

c) $3 \times 2 =$ _____
 f) $3 \times 10 =$ _____