

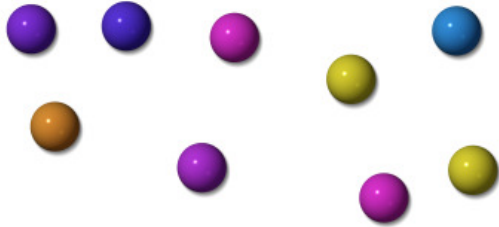


Résoudre des problèmes

Initiation (01)

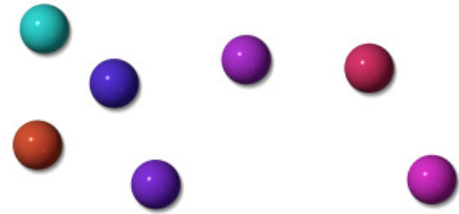
1./ Voici les billes d'Antoine et de son frère Dylan :

Les billes d'Antoine :



Nombre de billes : 9

Les billes de Dylan :



Nombre de billes : 7

- Quel enfant a le plus de billes ?

C'est Antoine qui a le plus de billes.

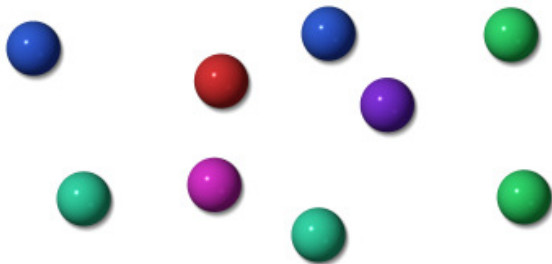
- Antoine et Dylan décident de rassembler toutes leurs billes dans un bocal. Combien ont-ils de billes en tout ?

$$9 + 7 = 16$$

Ils ont 16 billes en tout.

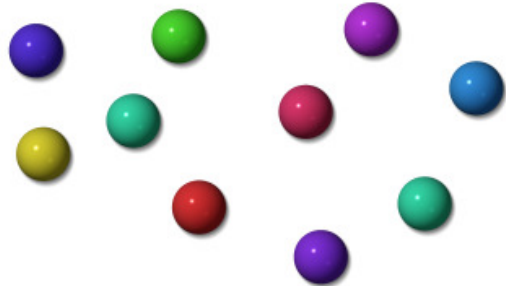
2./ Voici les billes de Kenza et de son frère Elyès :

Les billes de Kenza :



Nombre de billes : 9

Les billes d'Elyès :



Nombre de billes : 10

- Quel enfant a le moins de billes ?

C'est Kenza qui a le moins de billes.

- Kenza et Elyès décident de rassembler toutes leurs billes. Combien ont-ils de billes en tout ?

$$9 + 10 = 19$$

Ils ont 19 billes en tout.