

CE2

Travail pour le lundi 8 juin 2020

Bonjour, voici le travail pour ce lundi.

Je vous transmets également le corrigé des exercices dans un autre document. Merci de bien vouloir le consulter lorsque les exercices sont terminés.

Français / Vocabulaire :

VOC 13 Enrichir son vocabulaire : la nature et l'environnement (nouvelle leçon)

Exercice de recherche :

Cherchons



Nous vivons sur une planète qui devient de plus en plus chaude. En un siècle, la température a augmenté d'un petit degré. C'est peu, mais cela suffit pour changer beaucoup de choses. À cause de la chaleur, la calotte polaire fond et le niveau des mers s'élève. Les zones où vivent les plantes et les animaux changent. Par exemple, en France, des plantes qui aujourd'hui poussent dans le Sud, comme les vignes et les arbres fruitiers, pousseront bientôt également dans le Nord.

- **Comment se manifeste le réchauffement climatique en France ?**
- **Quels sont les effets sur la nature ?**
- **Connaissez-vous d'autres effets du réchauffement climatique ?**

Réponses : voir corrigé

Exercices :

1 * Relève dans ce texte les mots qui appartiennent à la flore et à la faune.

flore	faune

Le parc national des Pyrénées abrite une faune et une flore exceptionnelles. Pour voir la flore dans toute sa splendeur, la



meilleure période se situe entre juin et août, on peut alors admirer la violette, la gentiane mais aussi, espèce plus rare, l'edelweiss. Les migrations d'oiseaux, notamment des rapaces, s'observent au printemps et à l'automne. Le lynx est peu répandu, mais l'ours est solidement implanté. Il cohabite avec le sanglier.

2 * Recopie les listes sans intrus.



Aide-toi d'un dictionnaire.

- a. une marguerite ♦ un coquelicot ♦ un mulot ♦ un bleuet
- b. le marron ♦ la figue ♦ la noix ♦ la fouine
- c. un blaireau ♦ une musaraigne ♦ une châtaigne ♦ un campagnol

3 * Relève quatre noms de plantes.

Au bord des lacs ou des marécages, on trouve des roseaux et des joncs. Les ronces envahissent les prairies abandonnées. Des fleurs qui y poussaient, comme la primevère, se font rares.

4 ** Associe le nom des forêts aux arbres qui la constituent.

- | | | | |
|---------------|-----------------------|-----------------------|------------------|
| chênaie | <input type="radio"/> | <input type="radio"/> | oliviers |
| châtaigneraie | <input type="radio"/> | <input type="radio"/> | chênes |
| verger | <input type="radio"/> | <input type="radio"/> | châtaigniers |
| oliveraie | <input type="radio"/> | <input type="radio"/> | pins |
| pinède | <input type="radio"/> | <input type="radio"/> | arbres fruitiers |

Réponses : voir corrigé

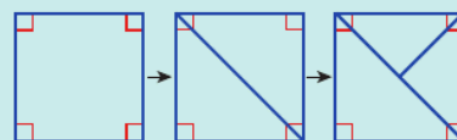
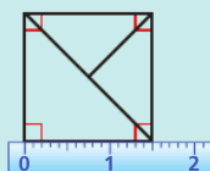
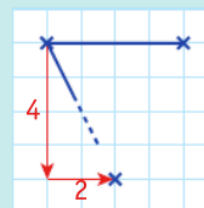
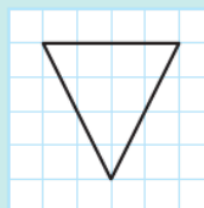
Mathématiques / Géométrie :

Géom 12 : Reproduire des figures à partir d'un modèle (suite)

Relire la leçon.


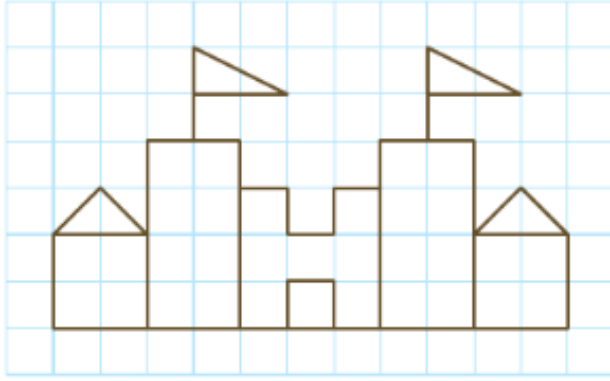
Je retiens

- Pour **reproduire une figure** sur du **papier quadrillé** ou du **papier pointé**, on place d'abord les sommets en comptant les carreaux. Ensuite, on trace les segments à la règle.
- Pour **reproduire une figure** sur du **papier uni**, on effectue les tracés au fur et à mesure en utilisant les indications du modèle.

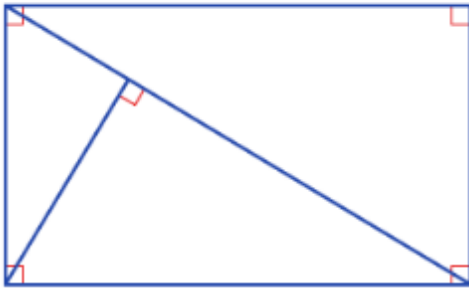


Exercices :

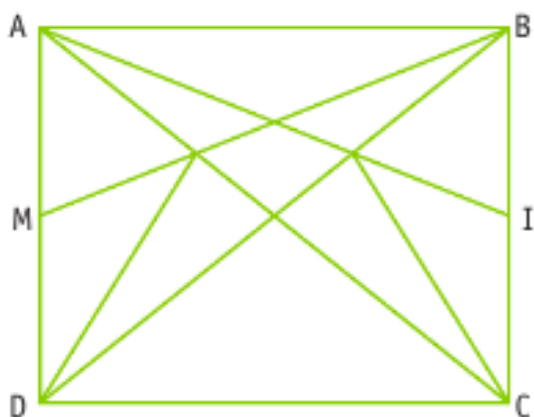
3 * Reproduis la figure.



4 * Reproduis la figure.



5 ✂ Reproduis la figure en t'aidant des indications.



ABCD est un rectangle. $AB = 5 \text{ cm}$; $BC = 4 \text{ cm}$.
M est le milieu de [AD]. I est le milieu de [BC].

Français / Lecture compréhension :

Lire le document « L'Australie » sur la page suivante et répondre aux questions.




Géographie

L'Australie

L'Australie est un État fédéral situé en Océanie, qui comprend l'Australie proprement dite (la plus grande île du monde), la Tasmanie et d'autres îles.

Sa capitale est Canberra mais Sydney est la plus grande ville. La langue officielle est l'anglais.



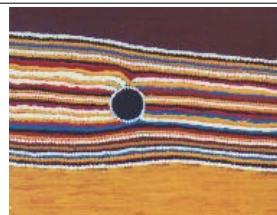
L'Australie est un pays immense, le sixième plus grand pays du monde avec ses 7 686 850 km², ce qui est presque plus grand que l'Europe. La majeure partie du pays est recouverte d'un désert aride ; les seules zones habitables sont les côtes, notamment la côte Est. La couleur rouge du sol de l'Australie est due à sa haute teneur en fer.

Le roi ou la reine du pays, la même que celle du Royaume-Uni, ne gouverne pas le pays. Les Australiens élisent un Premier ministre.

La monnaie du pays est le dollar australien.

L'Australie fut découverte en 1606 par les Européens. Les aborigènes vivaient surtout de chasse et de pêche.

Il y a environ 20 millions d'habitants en Australie. Les Australiens vivent principalement dans des grandes villes comme Sydney (4,5 millions d'habitants), Melbourne (3,7 millions), Perth (1,5 million) ou encore Brisbane.



La peinture aborigène décrit des histoires qui se passent au temps de la création du monde. Les aborigènes appellent ce temps lointain "le temps du Rêve".

<http://jakadi eklablog.com>

Du fait de son isolement géographique, ce pays possède une faune et une flore uniques.



kangourou



koala



émeu



diable de Tasmanie

L'ornithorynque est un mammifère pondant des œufs, muni d'aiguillons venimeux, à la mâchoire cornée ressemblant au bec d'un canard, à la queue évoquant un castor.



Sur le drapeau australien, figurent l'Union Jack (le drapeau du Royaume Uni) ainsi que la constellation de la Croix du Sud (c'est un ensemble d'étoiles qu'on ne peut voir que dans l'hémisphère Sud).

1. Cite trois animaux australiens.
2. Qu'est-ce que la Croix du Sud ?
3. Quelle est la monnaie de l'Australie ?
4. Quel est le nom du mammifère qui pond des œufs ?
5. Comment s'appelle la ville la plus peuplée d'Australie ?
6. Pourquoi le sol est-il rouge en Australie ?

LA CARTE DES VILLES FRANÇAISES

Date: _____

A Les villes en France

1 Complète la carte des villes françaises.

- a. Entoure le nom de la capitale de la France.
- b. Souligne le nom de ta ville ou de la ville la plus proche de chez toi.



B**Les grandes villes**

- 2 Dans le tableau ci-contre, colorie les cases des villes de plus de 300 000 habitants.
- 3 Retrouve-les sur la carte et souligne leur nom.
- 4 En utilisant les points cardinaux, dis où ces villes se trouvent.
- a. Dunkerque : au _____ de la France ;
- b. Perpignan : au _____ de la France ;
- c. Brest : à l'_____ de la France ;
- d. Strasbourg : à l'_____ de la France ;
- e. Bordeaux : au _____ - _____ de la France.

Commune	Population
Paris	2 240 621
Marseille	852 516
Lyon	496 343
Toulouse	453 317
Nice	343 629
Nantes	291 604
Strasbourg	274 394
Montpellier	268 456
Bordeaux	241 287
Lille	228 652

- 5 Relie chaque ville à la mer ou à l'océan sur lequel elle se trouve.

- | | |
|-------------|-----------------------|
| Marseille • | • la mer Méditerranée |
| Bayonne • | • l'océan Atlantique |
| Le Havre • | • la Manche |
| Lorient • | |
| Cannes • | |

- 6 Coche les bonnes réponses.

- a. Strasbourg se trouve près de l'Allemagne l'Espagne
- b. Lille se trouve près de la Belgique l'Italie
- c. Perpignan se trouve près de l'Espagne l'Allemagne
- d. Nice se trouve près de la Belgique l'Italie

JE RETIENS

- ➔ Les plus grandes villes de France sont, dans l'ordre, _____ , _____ , _____ et _____ .
- Je sais les placer sur la carte de France.
- La grande ville la plus proche de chez moi s'appelle _____