

Travail pour le lundi 15 juin 2020

Bonjour, voici le travail pour ce lundi.

Je vous transmets également le corrigé des exercices dans un autre document. Merci de bien vouloir le consulter lorsque les exercices sont terminés.

Français / Vocabulaire :

VOC 13      **Enrichir son vocabulaire : la nature et l'environnement**      (suite)

Exercices :

**5 \* Complète les phrases avec les mots de la liste.**

*vallée ♦ colline ♦ lac ♦ fleuves*

- a. D'ici, on domine toute la ...
- b. Les ... prennent leur source en montagne et se jettent dans la mer.
- c. Pierre a eu du mal à gravir la ... à vélo.
- d. On a fait le tour du ... en barque.

**6 \*\* Recopie les mots en associant les synonymes.**

recycler ♦ déchet ♦ réduire ♦ réutiliser ♦  
ordures ♦ diminuer

**7 \*\* Complète chaque phrase avec le sujet qui convient.**

*Les énergies fossiles ♦ Les énergies renouvelables ♦  
L'énergie nucléaire*

- a. ... permettent de fabriquer de l'électricité à partir de l'eau, du soleil, du vent, de la chaleur du sous-sol.
- b. ... sont extraites du sous-sol et sont les vestiges d'êtres vivants.
- c. ... utilise l'énergie contenue dans la matière pour produire de l'électricité.

**8 \*\* Recopie les phrases en remplaçant le pronom *elle* par des mots plus précis.**

*L'eau à usage domestique* ♦ *L'eau salée* ♦

*L'eau douce* ♦ *L'eau à usage industriel*

- a. **Elle** contient très peu de sel.
- b. **Elle** représente 97,5 % de l'eau de la Terre : mers, océans...
- c. **Elle** est utilisée dans les habitations et pour les animaux d'élevage.
- d. **Elle** est utilisée par les papeteries, les usines...

Réponses : voir corrigé


**Mathématiques / Géométrie :**

**Géom 13 : Utiliser la règle graduée et l'équerre : droites parallèles et perpendiculaires**  
(nouvelle leçon)

Exercice de recherche :

**Cherchons**

Karim et Paolo tracent des droites ; ils voudraient observer leur croisement.



- Quel est le problème de Karim ?  
Que veut dire « des droites parallèles » ?
- Observe les droites de Paolo. Que veut dire « des droites perpendiculaires » ?

Réponses : voir corrigé

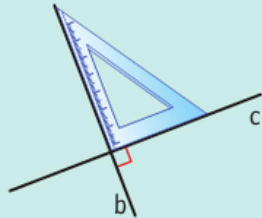
Leçon :  
Lire la leçon.

## Je retiens

- Une **droite** est une **ligne constituée de points alignés**, qui n'a **ni début ni fin**, et peut être **prolongée** à volonté.  
*Ex. : Les points A, B et C sont sur la droite d ; ils sont alignés.*



- Deux droites sont **perpendiculaires** quand elles se coupent en formant un **angle droit**.



*Ex. : Les droites b et c sont perpendiculaires.*

- Deux droites sont **parallèles** lorsqu'elles présentent exactement la **même direction**. Elles ne se croisent jamais car elles ont toujours le même écartement.




*Ex. : Les droites f et g sont parallèles.*

Exercices :

- 1** \* Entoure les droites qui sont perpendiculaires.



Aide-toi de ton équerre !



- 2** \* Observe puis indique combien de mikados sont perpendiculaires au mikado rayé noir.



mikados sont perpendiculaires au mikado rayé noir.

**3** ✨ Prolonge les droites et entoure celles qui sont perpendiculaires.



Réponses : voir corrigé

**Français / Lecture compréhension :**

Lire le document « Le Canada » sur la page suivante et répondre aux questions.



# Le Canada

Le Canada est le deuxième plus grand pays du monde par sa superficie de 9 984 670 km<sup>2</sup>. Il fait partie de l'Amérique du Nord. Sa capitale est Ottawa mais la plus grande ville est Toronto. Les langues officielles sont l'anglais et le français. Il y a 35 millions d'habitants.



Un navigateur français, Jacques Cartier découvre en 1534 ce qu'on appellera plus tard le Canada. Aujourd'hui, la plus grande province du Canada, le Québec, parle toujours le français.

Le hockey est un passe-temps national, et de loin le sport le plus populaire au pays.



Le Castor du Canada est l'animal emblème du Canada. Autres animaux caractéristiques : le caribou (cerf) et l'orignal (élan) qui peut atteindre 500 kilogrammes.



Le Canada est le premier producteur mondial de sirop d'érable (sirop produit à partir de la sève d'érable). La récolte a lieu au printemps.



1. Cite deux animaux du Canada.
2. Qui a découvert le Canada ?
3. Quelle est la plus grande ville du Canada ?
4. Quelles sont les couleurs du drapeau canadien ?
5. Quel est le sport le plus pratiqué au Canada ?
6. A quelle époque récolte-t-on le sirop d'érable ?



Le drapeau canadien

# LA CAMPAGNE EN FRANCE

Date : \_\_\_\_\_

## A

### Six paysages ruraux




A



B



C



D



E



F

1 Relie chaque légende à la photo correspondante.

- |                             |           |
|-----------------------------|-----------|
| des cultures sous serre •   | • Photo A |
| une étable •                | • Photo B |
| un silo à grain •           | • Photo C |
| un hameau •                 | • Photo D |
| un village •                | • Photo E |
| une moissonneuse-batteuse • | • Photo F |

## B

### L'organisation de l'espace

#### 2 Complète les définitions.

a. **Rural** : ce qui concerne  
la \_\_\_\_\_

b. **Urbain** : ce qui concerne  
la \_\_\_\_\_



#### 3 Observe le paysage G et coche les bonnes réponses.

a. Les maisons sont :  regroupées dans un village  dispersées dans la campagne

b. Le village est installé :  sur la rivière  près de la rivière  loin de la rivière

c. Le village est installé :  près de la route  loin de la route

d. Les arbres sont :  dispersés  regroupés

e. Les champs se trouvent :  autour du village  au milieu du village

#### 4 À ton avis, pourquoi des personnes qui travaillent en ville décident-elles d'habiter à la campagne ?

---

---

---

### JE RETIENS

→ Les paysages ruraux français sont transformés : on ne voit pas seulement la nature, mais aussi

---

Dans certaines campagnes, les maisons sont dispersées. Dans d'autres, elles sont regroupées  
en \_\_\_\_\_.