

Lundi 18 mai

Écrire la date dans le cahier

Lecture : **révision** des sons . Lire les fiches de sons jointes P20; P21; P22; P23

Faire les exercices dans le fichier "Pilotis" p: 58-59

Lecture : découverte du nouvel album à lire en plusieurs épisodes "Une maman pour Choco". Ne pas photocopier la fiche jointe . Faire dans le cahier directement la fiche BCD du livre. A partir de cette première de couverture du livre demander à votre enfant de faire des hypothèses sur le livre qu'on va lire: "De qui ça va parler? De quoi? Où l'histoire peut-elle se passer?"

Dictée de mots : dans le cahier

une ombre - une ardoise - le chemin (pour le mot "**chemin** " demander à votre enfant avant qu'il n'écrive de vous rappeler toutes les façons de faire "**in**" puis lui dire de quel "**in**" il s'agit pour "chemin)

Mathématiques: les nombres jusqu'à 70 . (fiche à la suite) Les exercices 1 et 2 peuvent se faire directement dans le cahier et le 3 peut se faire à l'oral uniquement. (nombres pour la dictée: **63 ; 15; 70; 51; 37; 29; 67; 13; 46; 64**)

Mathématiques: Problème (à la suite ; à faire à l'oral. Il s'agit de voir si l'enfant comprend bien la situation proposée et arrive à comprendre quelles sont les questions pertinentes pour le problème. Selon le niveau de votre enfant en lecture vous pouvez lui demander de lire seul ou vous pouvez lire avec lui. L'important là c'est de voir sa compréhension de la situation)

Mathématiques: calcul . La soustraction comme Picbille . Avec le matériel Picbille .

$65 - 4 = \dots\dots$ $67 - 7 = \dots\dots$ $36 - 8 = \dots\dots$ $70 - 8 = \dots\dots$

Anglais : Visionner simplement le dessin animé proposé. Il s'agit avant tout d'immersion dans la langue anglaise, pour s'habituer aux sonorités , entendre et reconnaître des mots déjà vus. Même si on n'a pas tout compris ça n'est pas grave du tout.

<https://www.lumni.fr/video/a-colorful-encounter#containerType=program&containerSlug=dimitri>

Arts : courts-métrages du festival de Films pour enfants 2020.

J'ai inscrit la classe à ce festival. Il s'agit simplement de visionner les différents petits films proposés et de choisir celui qu'on a préféré. Les enfants me communiqueront ensuite leur choix c'est moi qui m'occupe de communiquer les résultats. J'espère que cela plaira aux enfants.

<https://festival2020.films-pour-enfants.com/films-pour-enfants-festival-2020-cycle2.html>

Les nombres jusqu'à 70

1. Écris les nombres dictés.

.....


.....

2. Dessine le nombre de jetons demandé à la façon de Picbille.


54	70	67
63	50	61

3. Combien y a-t'il de jetons ? Écris la réponse.



■ ■ ■ ■ ■ ■ ■ ■ ■ ■




■ ■ ■ ■ ■ ■ ■ ■ ■ ■



■ ■ ■ ■ ■ ■ ■ ■ ■ ■



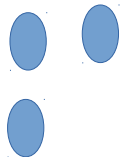
■ ■ ■ ■ ■ ■ ■ ■ ■ ■



■ ■ ■ ■ ■ ■ ■ ■ ■ ■



■ ■ ■ ■ ■ ■ ■ ■ ■ ■



P20



m	⇒	ou	mou
v	⇒	ou	vou
r	⇒	ou	rou
l	⇒	ou	lou
s	⇒	ou	sou
mou		sou	vou
lour		rou	vrou
oul		ouv	our

P21

rou	mou	sou	vou
lou	sour	lour	vour
ous	our	oul	ouv
	vrou	vlou	
il est lourd			mourir
elle roule			un moule
sous			il est sourd
ouvrir			il a voulu
une souris			un ours


©laclassedameline

P22

u ou - lo lou - oul our -
 mur mou - lur lour -
 marou moular

la rue une roue -
 la moule un moule -
 mourir mûrir -
 c'est lourd il roule

P23



p ⇒ a	pa	pa	papa
p ⇒ i	pi	pi	une pile
p ⇒ o	po	po	un pot
p ⇒ u	pu	pu	le pull
p ⇒ e	pe	pe	la pelure
p ⇒ ou	pou	pou	une poule
ap	ip	up	oup

©laclassedameline

Keiko Kasza


Une maman pour Choco



lutin poche de l'école des loisirs

Une maman pour Choco

FICHE BCD



Titre :

Auteur :


Illustrateur :

Editeur :

Trouver les questions pertinentes pour une situation

Consigne: J'observe bien l'image, je lis puis je barre les questions auxquelles je ne peux pas répondre avec ce qu'on me propose ici.




SITUATION 1 : Les dinosaures




- a) Combien y a-t-il de dinosaures ?
- b) Que mangent les dinosaures ?
- c) Lequel a pondu le plus d'œufs ?
- d) A quelle époque vivaient les dinosaures ?
- e) Combien y a-t-il d'œufs en tout ?

SITUATION 2 : La pêche

Pierre et Marie sont allés à la pêche. Voici ce qu'ils ont eu.

			
Marie	12	26	24
Pierre	7	19	28



- a) Qu'a pêché Marie ?
- b) Quel âge Pierre a-t-il ?
- c) Combien de dents possède-t-il ?
- d) Qui a pêché 26 moules ?
- e) Combien d'oursins ont-ils pêchés en tout ?
- f) Pierre est-il le frère de Marie ?