

CE1

Plan de travail semaine 5

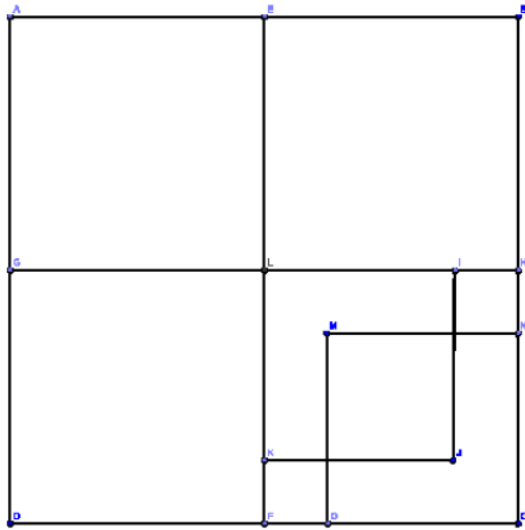
Mes activités de travail <i>Estimation temporelle</i>		Lundi 20 avril	Mardi 21 avril	Jeudi 23 avril	Vendredi 24 avril
<b>SUPER HEROS DE CALCULS</b> cliquez sur ce titre pour allez sur le site	10 minutes	- Calcul autour de 100. - Doubles ou moitiés.	- Ajouter 8 ou 9. - Doubles ou moitiés.	- Ajout ou retrait de dizaines et de centaines. - Nombres jusqu'à 999.	- Soustraire des unités, des dizaines ou des centaines entières. - Additions et soustractions à trous.
<b>DEFI MATHS</b>	15 minutes	Les carrés	Remplir le bac	La pesée	Les masques
<b>LE FACE à FACE</b>	25 minutes	Questions sur le texte	Questions sur le texte	Questions sur le texte	Questions sur le texte
<b>SANTE-VOUS SPORT!</b>	Libre	MOTS SPORT du jour: TORTUE	MOTS SPORT du jour: BONHOMME	MOTS SPORT du jour: POLLY / ZOO	MOTS SPORT du jour: REVES
<b>LES FONDAMANTAUX</b>	5 minutes	<a href="#">Lire l'heure (1/2)</a>	<a href="#">Lire l'heure (2/2)</a>	<a href="#">De l'heure aux minutes (1/2)</a>	<a href="#">De l'heure aux minutes (2/2)</a>
<b>JOURNAL DE BORD (FAIRE DE LA GRAMMAIRE)</b>	30 minutes	Adèle la petite tortue	Drôle de petit bonhomme	Polly au zoo	Mes rêves
<b>QUELLE HISTOIRE</b>	5 minutes	<a href="#">Albert EINSTEIN</a>	<a href="#">Johannes GUTENBERG</a>	<a href="#">Louis PASTEUR</a>	<a href="#">Marie CURIE</a>
<b>LECTURE (Fluence)</b>	30 minutes	Adèle la petite tortue	Drôle de petit bonhomme	Polly au zoo	Mes rêves
<b>LE DEBROUILLE-TEST</b>	10 minutes	Défi n°1	Défi n°2	Défi n°3	Défi n°4

L'adresse du blog

<http://bloc-note.ac-reunion.fr/9740224a/>

# FICHE ACTIVITÉS 1 - DÉFIS MATHÉMATIQUES

## Les carrés



Combien de carrés voit-on sur cette figure ?

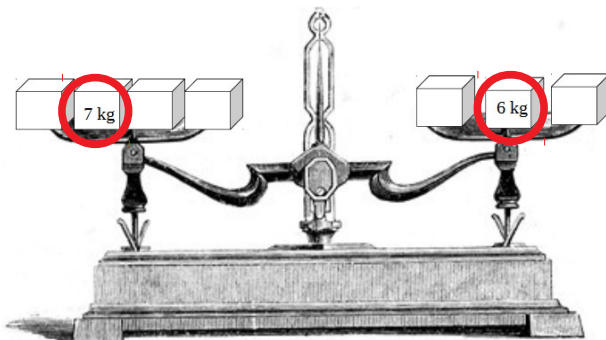
## Remplir le bac

Avec 5 verres, je remplis une bouteille. Avec 6 bouteilles, je remplis un bac.

Combien de verres faut-il verser pour remplir un bac ?



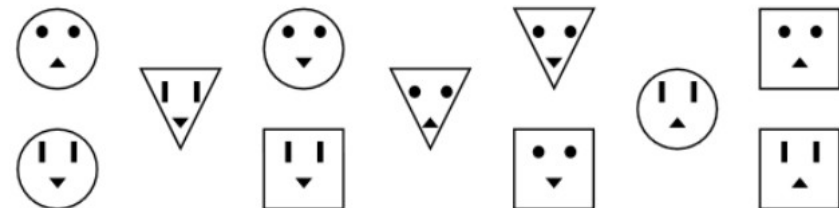
## La pesée



Placez les poids de 1kg, 2kg, 3kg, 4kg et 5kg sur les objets pour que la balance soit en équilibre. Attention un poids n'est utilisé qu'une seule fois.


## Les masques

Claude m'a montré aujourd'hui sa collection de masques géométriques. C'est une belle collection, mais il la trouve incomplète. D'après lui, il ne lui manque plus qu'un seul masque. Dessiner le masque que recherche Claude pour compléter sa collection.



## FICHE ACTIVITÉS 2 - Journal de bord

Adèle la petite tortue



### FAIRE DE LA GRAMMAIRE



Écris quelques phrases pour expliquer ce que font Adèle et Raoul quand ils sont sortis du jardin. Imagine ce qui peut leur arriver. Tu peux les faire parler.

#### Grille de correction

- J'ai imaginé les aventures des personnages.
- J'ai fait un dialogue.
- J'ai pensé aux majuscules et aux points.

Drôle de petit bonhomme



### FAIRE DE LA GRAMMAIRE



Raconter comment la vieille dame fabrique bonhomme de pain d'épices. Pour cela, écrire d phrases avec les groupes de mots et les verb proposés :

*La vieille dame prépare une pâte de pain d'épices.*

*Elle l'étale sur la table.*

*Elle découpe une forme de bonhomme.*

*des raisins secs- des yeux- une cerise- un nez- un grand sourire  
des grains de café- les boutons de son habit - place- déposer-  
dessine- enfonce*

#### Grille de correction

- J'ai raconté comment la vieille dame a fait le bonhomme de pain d'épice.
- J'ai utilisé les mots proposés.
- J'ai pensé aux majuscules et aux points.



## FAIRE DE LA GRAMMAIRE



texte 13

Continue le dialogue entre Polly et le loup.

## Grille de correction

- J'ai écrit un dialogue entre Polly et le loup.
- J'ai écrit plusieurs phrases.
- J'ai respecté les règles du dialogue.
- J'ai pensé aux majuscules et aux points.



## FAIRE DE LA GRAMMAIRE



texte 15

Ecris quelques phrases pour dire à quel métier tu rêves. Commence ton texte par :

*Parfois, la nuit, je rêve. Je suis...*

## Grille de correction

- J'ai trouvé un métier.
- J'ai expliqué pourquoi ce métier me fait rêver.
- J'ai pensé à la majuscule et au point.

## FICHE ACTIVITÉS 3 - DEBROUILLE - TEST

DEFI n°1 (semaine 5):

Bonjour, je m'appelle Hélios. Et toi ? J'apporte de la lumière et de la chaleur tous les jours sur la Terre même si je suis à des millions de kilomètres. Je suis rond et jaune.

Qui suis-je ?

DEFI n°2 (semaine 5):

Talos est rangé dans une trousse ou une boîte. Il a une pointe et un crayon au bout de ses deux tiges. Il aide à tracer des cercles pour dessiner un soleil ou un ballon.

Qui est Talos ?

DEFI n°3 (semaine 5):

Aria est partout autour de toi. Tu en inspires et en rejettes beaucoup tous les jours et même la nuit ! Souffle sur ta main. Tu le sens ? C'est lui !

Qui est Aria ?

DEFI n°4 (semaine 5):

Quand on fait cuire Suzette, elle durcit et devient tout blonde ! Elle sent bon ! On la retourne puis on la dépose dans une assiette où elle est pliée avec du chocolat ou de la confiture.

Qui est cette délicieuse Suzette ?