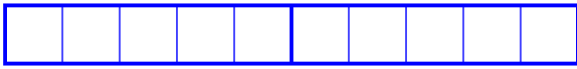


Compléments à 10

Je complète les boîtes pour avoir **10** à chaque fois puis j'écris le calcul correspondant.



$$0 + \dots = 10$$



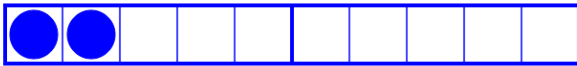
$$7 + \dots = 10$$



$$1 + \dots = 10$$




$$8 + \dots = 10$$




$$2 + \dots = 10$$



$$9 + \dots = 10$$



$$3 + \dots = 10$$



$$10 + \dots = 10$$



$$4 + \dots = 10$$



$$5 + \dots = 10$$



$$6 + \dots = 10$$

- Pour s'exercer voici des exercices en ligne : (adresse à copier et coller dans la barre d'adresse de son navigateur internet):

<https://www.logicieleducatif.fr/math/calcul/comp10.php>

Le travail en ligne peut se faire au début avec la fiche précédente sous les yeux puis s'entraîner à le faire sans la fiche et le plus rapidement possible.