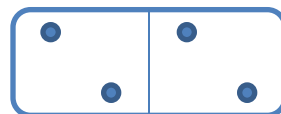
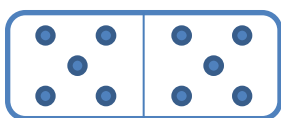


CALCULS : les doubles

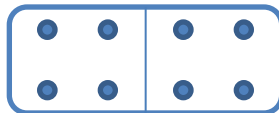
1 Colorie de la même couleur le domino et son résultat :



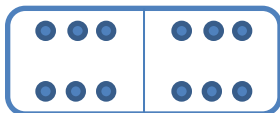
8

4

6

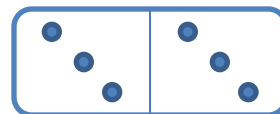


12



10

2



2 Colorie les égalités justes et barre celles qui sont fausses :

$$2 + 2 = 4$$

$$4 + 4 = 8$$

$$3 + 3 = 6$$

$$5 + 5 = 9$$

$$2 + 2 = 5$$

$$1 + 1 = 2$$

$$3 + 3 = 5$$

$$4 + 4 = 10$$

$$5 + 5 = 10$$

Problème :

Jérémy est un gourmand. Il a d'abord pris 4 sucettes dans la boîte à bonbons puis il est revenu prendre 4 carambars.
Combien a-t-il mangé de bonbons en tout ?

dessin ou calcul :

phrase réponse :
