

PRÉNOM

DATE

FICHE

27⁽¹⁾
CE1

NOM

Problème


Reconnaître une situation additive,
soustractive ou impossible à résoudre

Consigne : Lis les problèmes de la fiche 27 (2) et indique le signe que tu utilises :

+
BLEU

-
ORANGE



On ne peut pas savoir.
JAUNE



NOMBRE DE CASES
30


NOMBRE D'ERREURS
.....

ÉVALUATION 
...../30

ÉVALUATION 
Coloriage 

Aide

Problème additif



Combien y a-t-il de fruits
dans la corbeille ?

$3 + 2$

Problème soustractif

Maman a acheté 10 œufs.

Elle en a utilisés 2.

Combien en reste-t-il ?

$10 - 2$



Reconnaitre une situation additive, soustractive ou impossible à résoudre

27⁽²⁾

CE 1

1. 9 oiseaux étaient dans la cage, 5 se sont envolés. Combien d'oiseaux reste-t-il dans la cage ?
2. 5 poussins ont éclos dimanche et 3 poussins ont éclos le lendemain. Combien de poussins ont éclos en tout ?
3. Hervé mesure 1 m. Sa sœur Gabrielle a 2 ans. Combien mesure Gabrielle ?
4. Léo a dessiné 3 triangles rouges et Nina a dessiné 5 triangles verts. Combien de triangles ont été dessinés en tout ?
5. Lucie a acheté une boîte de 12 œufs. Elle a utilisé 7 œufs pour préparer un gâteau. Combien d'œufs reste-t-il ?
6. Raphaël, Éric et Romain jouent aux billes. Raphaël marque 5 points, Éric 7 points. Combien de points marque Romain ?
7. 8 élèves sont inscrits au basket. 10 ont choisi le handball. Combien d'élèves sont inscrits aux activités sportives ?
8. Ce matin, le jardinier a planté 4 sapins et 5 pommiers. Cet après-midi, il a planté 9 cerisiers. Combien le jardinier a-t-il planté d'arbres fruitiers ?
9. L'équipe de foot de Jean doit jouer 11 matches ; 6 ont déjà été disputés. Combien reste-t-il de matches à jouer ?
10. Marc a 19 timbres français et 8 timbres anglais. Combien a-t-il de timbres au total ?
11. Au zoo, il y a 11 singes à la ménagerie et 26 oiseaux dans la volière. Combien peut-on voir d'animaux ?
12. Théo achète un maillot à 15 € et des chaussures de foot à 32 €. Combien ses parents vont-ils dépenser ?
13. Madison est inscrite pour 12 séances de piscine. Elle a déjà fait 7 séances. Combien de fois doit-elle encore aller à la piscine ?
14. Au marché, Luc achète un poulet de 1 kg. Quel est son prix ?
15. Un dictionnaire pèse 2 kg. Combien de pages compte-t-il ?
16. 41 passagers sont installés dans un bus de 64 places. À la station, 2 personnes descendent. Combien y a-t-il maintenant de passagers dans le bus ?
17. Un ouvrier est payé 10 € de l'heure. Combien d'heures travaille-t-il chaque jour ?
18. Pierre a 9 perruches dans sa volière. Ce matin, 2 se sont échappées. Combien de perruches reste-t-il dans la volière ?
19. Pour son anniversaire, Léa a reçu une boîte de 24 crayons de couleur. Elle ne trouve plus que 17 crayons dans sa boîte. Combien Océane a-t-elle perdu de crayons ?
20. La maîtresse a commandé 25 cahiers, 6 classeurs et 8 colles. Combien d'élèves a-t-elle ?
21. 21 concurrents ont pris le départ du cyclo-cross. Au cours du 1^{er} tour de circuit, 6 concurrents sont tombés et ont abandonné. 8 autres concurrents sont tombés au cours du 2^e tour. Combien de concurrents sont tombés pendant les 2 premiers tours ?
22. La fermière ramasse 10 œufs de poules et 8 œufs de canes. Combien a-t-elle de coqs dans sa basse-cour.
23. Paul mesure 131 cm, Samira mesure 135 cm. Quelle est leur différence ?
24. Sonia et Rachel ramassent des champignons dans la forêt. Sonia en a trouvé 18 et Rachel 3 de plus. Combien de champignons ont été ramassés ?
25. Magali a un billet de 5 € et 2 pièces de 2 €. Combien a-t-elle d'argent dans sa tirelire ?
26. Jérémie ouvre son livre à la page 37 puis lit 2 nouvelles pages avant de refermer son livre. À quelle page est-il arrivé ?
27. La tortue veut aller goûter aux salades. Elle parcourt d'abord 6 mètres, puis s'arrête, essouffée. Elle reprend ensuite son chemin et parcourt encore 19 mètres. Quelle est la longueur parcourue au total ?
28. Jacques regarde un dessin animé qui dure 5 minutes puis une émission pendant 10 minutes. À quelle heure se couche-t-il ?
29. Pendant le match de basket, 18 points ont été marqués par Léo et Odile. Léo a marqué 11. Combien de points a marqué Odile ?
30. Lola prend 5 madeleines dans un paquet de 20. Combien reste-t-il de madeleines dans le paquet ?