


Nombres et quantités: de 0 à 199**1** Ecris les nombres manquants:

183 186




..... 126



189 192

117 120



.....
.....
.....
.....
.....
.....

155
.....
.....
.....
.....
.....

149
.....
.....
.....
.....
.....

2 Colorie les nombres identiques :

cent - quatre - vingt - quatre

123

 $100 + 80 + 4$ $100 + 20 + 3$ $100 + 9$

109

 $100 + 40 + 9$

cent - neuf

cent - quarante - neuf

184

149

cent - vingt - trois

3 Complète :

182	$100 + 80 + 2$
146	
187	
141	

	$100 + 40 + 5$
	$100 + 90 + 3$
	$100 + 50 + 7$
	$100 + 10 + 9$

Nombres et quantités : de 0 à 199



1 Complète le tableau:

nombre avant	nombre	nombre après
	145	
108		
		161
197		

2 Complète avec $<$, $>$ ou $=$:

3 15

165 195

110 101

119 91

90 109

167 176

98 185

141 114

111 88

3 Relie les nombres à leur place sur la droite graduée

99

112

108

134

127

100

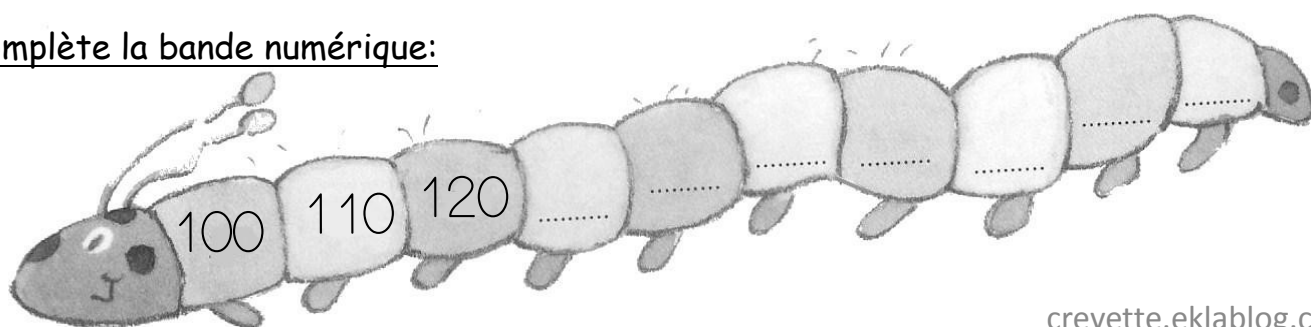
110

120

130

140

4 Complète la bande numérique:



Nombres et quantités : de 0 à 199



1 Relie les nombres identiques :

125

cent - quatre - vingt - cinq

124

cent - vingt - cinq

185

cent - quatre

104

cent - cinquante - cinq

155

cent - vingt - quatre

105

cent - cinq

150

cent - cinquante

2 Compte en groupant par 10, puis par 100: