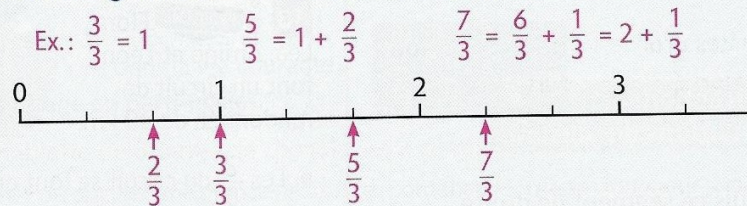


NUMERATION – SEMAINE 2

Je retiens : Repérer, placer et encadrer des fractions simples sur une demi-droite graduée.

Je retiens

- Sur une **demi-droite graduée**, on peut **repérer et placer des fractions**.

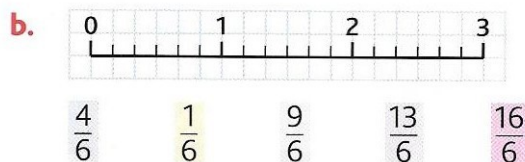
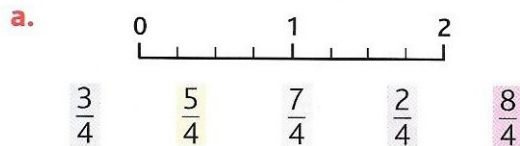


- On peut aussi **encadrer des fractions** entre deux nombres entiers consécutifs.

Ex.: $0 < \frac{2}{3} < 1$ $1 < \frac{5}{3} < 2$ $2 < \frac{7}{3} < 3$

Exercices 1 et 2 :

4 * Reproduis ces demi-droites graduées et place les fractions proposées.



5 * Reproduis cette demi-droite graduée et place les fractions proposées.

