

Vendredi 24/04

Bonjour chers parents et chers enfants,
J'espère que tout va bien pour vous !

Je n'ai pas encore mis les recettes et les « land art » que j'ai reçu sur le blog, désolée, je le ferai ce weekend ! Cela permettra aux autres de m'envoyer également leurs productions.

Comme vous l'avez remarqué j'ai oublié de vous donner le bilan à remplir pour les semaines du 06/04 et du 13/04, désolée également, je vous le donne aujourd'hui. Cela dit, vous n'êtes pas obligé d'utiliser ce tableau, vous pouvez me l'écrire sous forme d'un petit texte comme le font déjà certains.

Bon weekend, Portez- vous bien !

■ Lecture : « Les doigts rouges »

CORRECTION de « Je comprends » p 194

1/ Les 3 personnages principaux de ce roman sont Ricky, son frère Georges et sa sœur Sophie.

2/ Bruno Ségura bien qu'absent physiquement est très présent dans ce roman car l'histoire tourne autour de sa disparition.

3/ De la I 53 à 61 : Vers 11h, Ricky voit son frère sortir de la grange avec un liquide rouge sur ses mains.

4/et 5/ Il soupçonne alors Georges d'avoir tué Bruno Ségura car le liquide rouge ressemblait à du sang et que Georges avait déjà menacé Bruno de le tuer s'il touchait encore une fois à Sophie (I 63, 64)

6/ En fait ce qui s'était vraiment passé pendant la nuit c'est que Georges avait repeint un vélo en rouge pour l'anniversaire de Ricky et qu'il l'a transporté dans un grand sac en plastique noir avec sa sœur vers la cuisine pour que Ricky ne découvre pas son cadeau avant l'heure.

7/ Bruno Ségura a eu un accident de moto et s'est tué contre un arbre (I 189). Il n'a pas été assassiné par Georges .

.

■

■

- **Dictée** : Sur le site habituel : <https://www.lnstitut.com/exercices-maths-francais-accueil.html>
Cliquer sur **Français** , **dictée** , exercice 1, dans la barre grise en haut choisissez **Histoire, La vie de l'homme de Cro-magnon (partie 2)**
Et écrire la dictée en suivant les consignes.

- **Numération :**

- ❖ **CM1 « les fractions » :**

- 1/ regarder la vidéo « comparer des fractions »

- <https://www.youtube.com/watch?v=VQQ5vMDslpE>

- 2/ sur le site habituel <https://www.lnstitut.com/exercices-maths-francais-accueil.html>

- dans **Mathématiques** , **Numération**, **Les fractions** , **comparaison**
faire **exercice 3 et 5** (4 séries dans chacun)

- ❖ **Joran et Camille « Les nombres de 0 à 99 »**

Faire dans le fichier de maths : « Les nombres de 100 à 169 » (2 pages) et « les nombres de 100 à 179 » (1page). Pour trouver les pages , regarder dans le sommaire.

- **Problèmes: « Méthodologie : les informations en tableaux ou graphiques »**

- ❖ **CE2**

-Faire les pages 86 et 87 du fichier de maths .

Je mets la photo des pages pour Nathan BOYER qui n'a pas le fichier.

- **LVR** : je vous donnerai l'activité dans la matinée.
- **Anglais** : A revoir sur la page d'avant

Méthodologie : les informations en tableaux ou graphiques

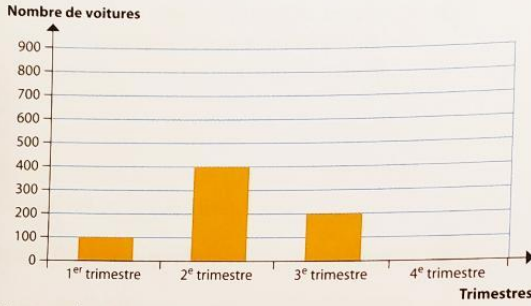
Compétence : Exploiter des données numériques présentées sous forme de tableaux ou de graphiques pour résoudre des problèmes.

Découvrir

ÉNONCÉ

Un vendeur d'automobiles compte ses ventes de l'année. Quel est le nombre de voitures vendues dans l'année ?

Graphique des ventes



Ventes du 4^e trimestre

Mois	Octobre	Novembre	Décembre
Nombre de ventes	72	110	18



• **1^{re} étape** : Utilise le graphique pour connaître les ventes de voitures à chaque trimestre.

1^{er} trimestre :

2^e trimestre :

3^e trimestre :

• **2^e étape** : Utilise le tableau pour calculer la donnée qui n'est pas dans le graphique.

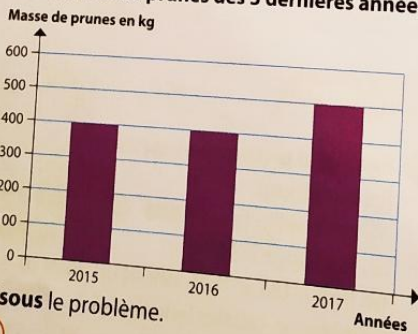
• **3^e étape** : Résous le problème.

Appliquer

Le verger produit des pêches, des cerises et des prunes. Quelle masse totale de fruits a été récoltée en 2017 ?

• **Observe** le graphique.

Production de prunes des 3 dernières années



• **Complète** le tableau.



Masse en kg	2017
pêches	150
cerises	200
prunes

• **Résous** le problème.

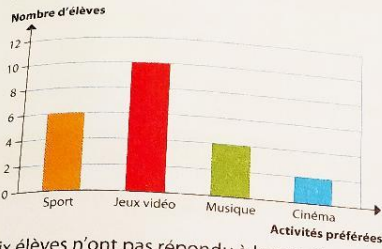


Calcul mental : Trouver le nombre pensé.

86 quatre-vingt-six

Parcours A

A1 Les élèves de la classe de CE2 ont indiqué leur activité préférée.



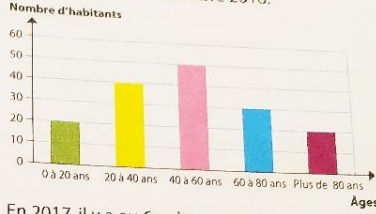
Six élèves n'ont pas répondu à la question. Combien d'élèves y a-t-il dans cette classe de CE2 ?

.....

.....

Parcours B

B1 Voici le graphique de la population d'un village au 31 décembre 2016.

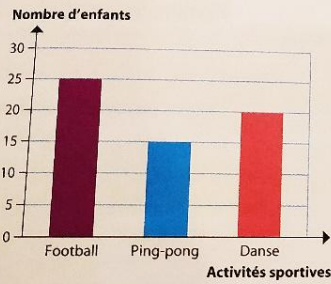


En 2017, il y a eu 6 naissances et 2 décès d'habitants âgés de 98 et 100 ans dans le village. Quel est le nombre d'habitants fin 2017 ?

.....

.....

A2 Le mercredi après-midi, les enfants du village peuvent participer à des activités sportives et culturelles.



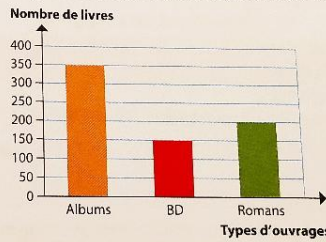
Activités culturelles	Nombre d'enfants
Peinture	8
Chorale	12
Poterie	10

Combien d'enfants participent à une activité le mercredi après-midi ?

.....

.....

B2 Dans la médiathèque de l'école, il y a des albums, des bandes dessinées et des romans. Il y a également des livres documentaires.



Types de documentaires	Nombre
Animaux sauvages	35
Histoire	98
Géographie	45

Combien de livres y a-t-il au total dans cette médiathèque ?

.....

.....

Pour ce weekend :

- **Conjugaison :**
- ❖ **Joran et Camille :** réviser « **Le présent des verbes** » que vous avez déjà travaillés.
- ❖
- ❖ **Les autres :** réviser « **L'imparfait des verbes** » des 3 groupes et des verbes « avoir » et « être »

Vous pouvez évidemment faire les exercices en ligne sur le site habituel pour vous entraîner !