

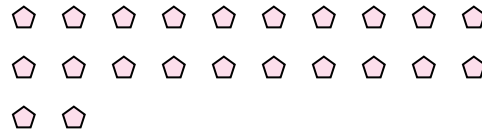


Utilisez les formes pour répondre aux questions.

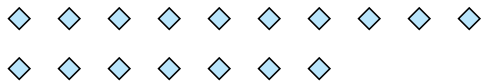
Ex) Il y a 15 formes ci-dessous. Combien de groupes de 6 pouvez-vous faire? Combien en restera t-il?




1) Il y a 22 formes ci-dessous. Combien de groupes de 8 pouvez-vous faire? Combien en restera t-il?



2) Il y a 17 formes ci-dessous. Combien de groupes de 8 pouvez-vous faire? Combien en restera t-il?




3) Il y a 10 formes ci-dessous. Combien de groupes de 3 pouvez-vous faire? Combien en restera t-il?




4) Il y a 17 formes ci-dessous. Combien de groupes de 4 pouvez-vous faire? Combien en restera t-il?



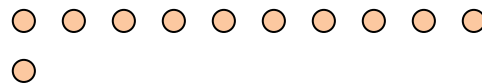
5) Il y a 23 formes ci-dessous. Combien de groupes de 6 pouvez-vous faire? Combien en restera t-il?



6) Il y a 23 formes ci-dessous. Combien de groupes de 9 pouvez-vous faire? Combien en restera t-il?



7) Il y a 11 formes ci-dessous. Combien de groupes de 2 pouvez-vous faire? Combien en restera t-il?



8) Il y a 21 formes ci-dessous. Combien de groupes de 5 pouvez-vous faire? Combien en restera t-il?



9) Il y a 17 formes ci-dessous. Combien de groupes de 9 pouvez-vous faire? Combien en restera t-il?



Réponses

Ex. 2

Ex. 3

1. \_\_\_\_\_

1. \_\_\_\_\_

2. \_\_\_\_\_

2. \_\_\_\_\_

3. \_\_\_\_\_

3. \_\_\_\_\_

4. \_\_\_\_\_

4. \_\_\_\_\_

5. \_\_\_\_\_

5. \_\_\_\_\_

6. \_\_\_\_\_

6. \_\_\_\_\_

7. \_\_\_\_\_

7. \_\_\_\_\_

8. \_\_\_\_\_

8. \_\_\_\_\_

9. \_\_\_\_\_

9. \_\_\_\_\_