

FICHIER CORRIGE

**JOUR 3 SEMAINE 2 P5****CALCUL MENTAL**

•  $12/3= 4$

$24/2 = 12$

$16 / 8=2$

Correction : \_\_\_\_\_  
\_\_\_\_\_**JOGGING D'ECRITURE***Explique ce qui te met en colère ?***Exemple : Je n'apprécie pas les bavardages et le manque de respect en classe.****DICTEE**

« Vous avez devant vous, le cirque le plus grand du monde ! dit le présentateur. Il y a chez nous, les lions les plus méchants, les éléphants les plus savants et les singes les plus adroits. Nous avons aussi les numéros les plus nouveaux. Nos places ont les prix les plus bas ! On a même quelques entrées à offrir»

Corrige tes erreurs ici : \_\_\_\_\_  
\_\_\_\_\_  
\_\_\_\_\_  
\_\_\_\_\_  
\_\_\_\_\_  
\_\_\_\_\_

# CONJUGAISON : le passé simple

## EXERCICES

1 - Souligne les verbes du 1<sup>er</sup> groupe conjugués au passé simple.

Martin éternua et chercha un mouchoir dans sa poche. Julie et sa sœur se promenèrent au bord du canal et arrivèrent vers 16 heures à l'écluse. J'entrai dans la classe et saluai le maître et les enfants. L'émission commença à 20 heures et nous mangeâmes peu après.

2 Trouve un groupe sujet qui convient.

Le **jeune garçon** regarda en direction de l'école.

**Je** mangeai comme un goulu.

L'**animal** resta caché derrière le buisson.

Tous les dimanches de septembre, **les quatre amis** se retrouvèrent pour la chasse.

**Nous** rangeâmes notre chambre dès que possible.

Le **voisin** pénétra dans la maison en l'absence des propriétaires.

3 Complète le tableau au passé simple.

	je	elle	nous	ils
bavarder	bavardai	bavarda	bavardâmes	bavardèrent
sonner	sonnai	sonna	sonnâmes	sonnèrent
lancer	lançai	lança	lançâmes	lancèrent

4 Conjugué les verbes au passé simple.

Papa (scier) **scia** une planche pour me fabriquer une étagère. Il (raboter) **rabota** et (poncer) **ponça** toutes les faces. Il (réaliser) **réalisa** des trous pour les supports. Papa et Maman (placer) **placèrent** cette étagère dans ma chambre. Mon cousin (arriver) **arriva** et (trouver) **trouva** qu'elle était jolie.

Correction :

---



---



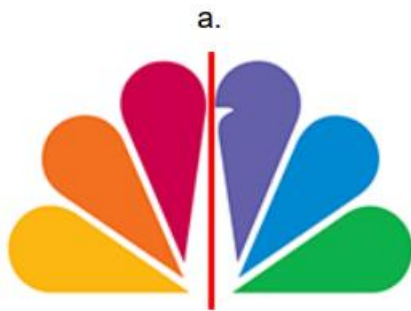
---

# GEOMETRIE : la symétrie

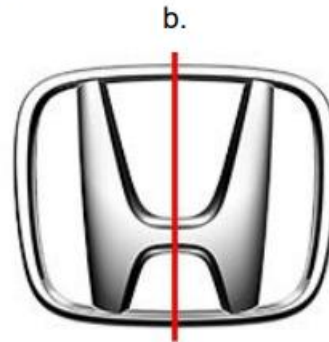
Leçon : lis bien la leçon, puis entraîne toi en faisant les exercices.

## La symétrie axiale

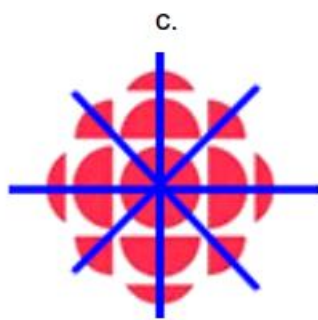
**1** Quelles figures ont les bons axes de symétrie ?



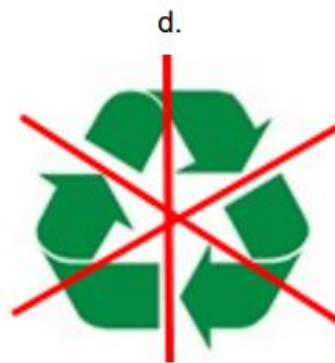
Non



Oui




Oui



Non

**2** Trace les axes de symétrie des figures ci-dessous.



Correction :

---

---

---

---

---

---

## ***Lecture compréhension***

# **Le Caravage, huile sur toile, 1596**

1/ Comment s'appelle ce type de document ?

Il s'agit d'un tableau et plus précisément d'une huile sur toile.

2/ Que font-ils ?

Ils jouent aux cartes.

3/ Quelle figure géométrique pourrais-tu dessiner en reliant les trois têtes.

Un triangle

4/ Indique ce que regarde :

- Le personnage de gauche : Le personnage de gauche regarde son jeu.
- Le personnage du milieu : Le personnage du milieu regarde le jeu du personnage de gauche.
- Le personnage de droite : Le personnage de droite regarde le joueur en face de lui.

5/ Observe les mains de chaque personnage :

- Que font celles du personnage de gauche ? Elles tiennent les cartes.
- Que font celles du personnage du milieu ? Elles indiquent le chiffre 3.
- Que font celles du personnage de droite ? Elles tirent une carte de sa poche arrière.

6/ Voici plusieurs titres possibles : Quel est celui qui te semble convenir le mieux ?

- a. *Jeux de mains, jeux de vilains*
- b. *Les joueurs de cartes*
- c. *Le tricheur*
- d. *Le jeu du Jonquet*

*Les joueurs de cartes* pourrait convenir mais ce titre n'indique pas qu'il y a de la tricherie.  
Les personnages ne jouent pas au jonquet.

*Jeux de mains, jeux de vilains* est un proverbe qui signifie qu'il ne faut pas se battre.

---