

ROUTINES MATHÉMATIQUES – Les longueurs

MESURE

Colorie la mesure qui te semble la bonne.



15 cm

50 m



3 cm

2 m



1 cm

2 m



10 cm

10 m

MESURE

Colorie la mesure qui te semble la bonne.



5 cm

50 cm



3 cm

1 m



10 cm

90 cm




2 cm

25 m

piscine

MESURE

Mesure la longueur de chaque segment.



MESURE

Trace les segments demandés.



5 cm

8 cm

4 cm 5 mm

6 cm 5 mm

ROUTINES MATHÉMATIQUES – Les longueurs

Colorie la mesure qui te semble la bonne.



15 cm

50 m



3 cm

2 m



1 cm


2 m



10 cm

10 m

Mesure la longueur de chaque segment.



Trace les segments demandés. Au millimètre près !!



5 cm 2 mm

8 cm 6 mm

4 cm 4 mm

6 cm 8 mm

Fais les conversions demandées. Tu peux utiliser le tableau de conversions.



5 m =500..... cm

107 m =10 700..... cm

3 cm =30..... mm

634 dm =63 400..... mm

42 dam =4 200..... dm

5 km =5 000..... m

64 m =64 000..... mm

45 hm =45 000..... dm

MESURE

MESURE

MESURE

MESURE

ROUTINES MATHÉMATIQUES – Les longueurs

Colorie la mesure qui te semble la bonne.



15 cm

50 m



3 cm

2 m



1 cm


2 m



10 cm

10 m

Mesure la longueur de chaque segment.



Fais les conversions demandées. Tu peux utiliser le tableau de conversions.



5 m = cm

107 m = dam

3 cm = mm

634 dm = hm

42 dam = dm

5 km = m

64 m = mm

45 hm = km

Trace les segments demandés. Au millimètre près !!



5 cm 2 mm

8 cm 6 mm

4 cm 4 mm

6 cm 8 mm

MESURE

MESURE

MESURE

MESURE

ROUTINES MATHÉMATIQUES – L'heure

Écris l'heure du matin:



..... 5h00



..... 8h30



..... 5h15



..... 2h45

Écris l'heure du matin:



..... 5h00



..... 8h15



..... 10h45



..... 7h30

MESURE

MESURE

MESURE

MESURE

ROUTINES MATHÉMATIQUES – L'heure

Écris l'heure du matin:



www.micetf.fr

..... h



www.micetf.fr

..... h



www.micetf.fr

..... h



www.micetf.fr

..... h

Écris l'heure de l'après-midi:



www.micetf.fr

..... h



www.micetf.fr

..... h



www.micetf.fr

..... h



www.micetf.fr

..... h

MESURE

MESURE

MESURE

MESURE

ROUTINES MATHÉMATIQUES – L'heure

Écris l'heure du matin et de l'après-midi:



5h00

.....

17h00

.....



8h30

.....

20h30

.....



5h15

.....

17h15

.....



2h45

.....

14h45

.....

Écris l'heure du matin et de l'après-midi:



5h00

.....

17h00

.....



8h15

.....

20h15

.....



10h45

.....

22h45

.....



7h30

.....

19h30

.....

MESURE

MESURE

MESURE

MESURE