

MATHEMATIQUES 1

Calcul mental N°1

1.44.....

2.72.....

3.38.....

4.65.....

5.84.....

6.98.....

7.23.....

8.36.....

9.49.....


10.60.....

Score : / 10

Calcul : addition itérée et multiplication


Réponds aux questions en t'aidant des dessins. Pour cela, tu dois faire une addition puis une multiplication en complétant les cases en dessous.

Combien y-a-t-il de roues ?



$$/ + 4 + 4 + 4 = 4 \times 3 = 12$$

Combien y-a-t-il de pattes ?



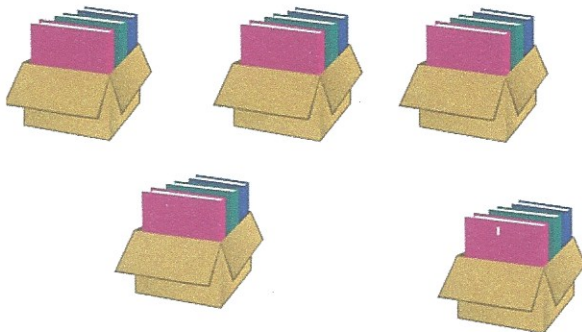
$$4 + 4 + 4 + 4 = 4 \times 4 = 16$$

Combien y-a-t-il d'euros ?



$$2 + 2 + 2 + 2 + 2 = 2 \times 5 = 10$$

Combien y-t-il de livres ?



$$3 + 3 + 3 + 3 + 3 = 3 \times 5 = 15$$

Combien y-a-t-il d'œufs ?




$$10 + 10 + 10 + 10 = 10 \times 4 = 40$$

Combien y-a-t-il de fenêtres ?



$$5 + 5 + 5 = 5 \times 3 = 15$$

Combien y-a-t-il de pétales ?



$$8 + 8 + 8 = 8 \times 3 = 24$$

Combien y-a-t-il de chaussures ?



$$2 + 2 + 2 + 2 + 2 = 2 \times 5 = 10$$

Pour aller plus loin :

<https://www.jeuxmaths.fr/exercice-de-math-additioniteree.html>

<https://www.youtube.com/watch?v=fe5Aa5tOhhM>

MATHEMATIQUES 2

Calcul mental N°2

1. 52.....

2. 37.....

3. 61.....

4. 21.....

5. 80.....

6. 11.....

7. 44.....

8. 73.....

9. 45.....

10. 90.....

Score : / 10

Calcul posé

Pose et effectue les calculs suivants.

$436 + 81 + 9 = \underline{526}$

$$\begin{array}{r} \textcircled{1} \textcircled{1} \\ 436 \\ + 81 \\ + 9 \\ \hline 526 \end{array}$$

$76 + 630 + 118 = \underline{824}$

$$\begin{array}{r} \textcircled{1} \\ \textcircled{1} 76 \\ + 630 \\ + 118 \\ \hline 824 \end{array}$$

$237 + 755 = \underline{992}$

$$\begin{array}{r} \textcircled{1} \\ 237 \\ + 755 \\ \hline 992 \end{array}$$

$825 + 17 + 39 = \underline{881}$

$$\begin{array}{r} \textcircled{2} \\ 825 \\ + 17 \\ + 39 \\ \hline 881 \end{array}$$

$756 + 180 + 23 = \underline{959}$

$$\begin{array}{r} \textcircled{1} \\ 756 \\ + 180 \\ + 23 \\ \hline 959 \end{array}$$

$89 + 235 = \underline{324}$

$$\begin{array}{r} \textcircled{1} \\ \textcircled{1} 89 \\ + 235 \\ \hline 324 \end{array}$$

$675 - 334 = \underline{341}$

$$\begin{array}{r} 675 \\ - 334 \\ \hline 341 \end{array}$$

$796 - 182 = \underline{614}$

$$\begin{array}{r} 796 \\ - 182 \\ \hline 614 \end{array}$$

$966 - 356 = \underline{610}$

$$\begin{array}{r} 966 \\ - 356 \\ \hline 610 \end{array}$$

MATHEMATIQUES 3

Calcul mental N°3

1. 20 2. 16 3. 14 4. 25 5. 50
6. 6 7. 45 8. 35 9. 20 10. 8

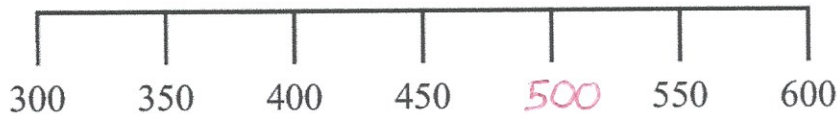
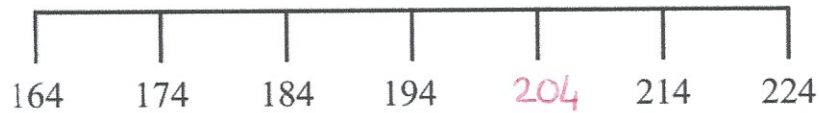
Score : / 10

Nombres

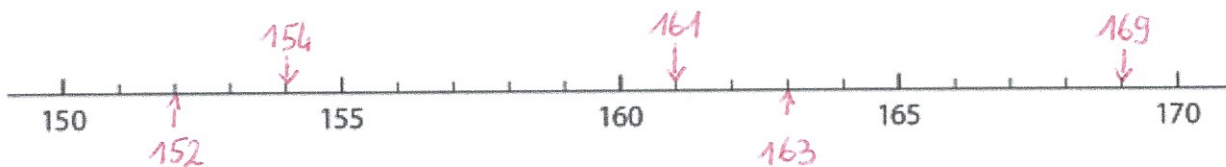
1. Ecris en lettres les nombres suivants.

- 435 : quatre-cent-trente-cinq
289 : deux-cent-quatre-vingt-neuf
800 : huit-cents
315 : trois-cent-quinze
761 : sept-cent-soixante-et-un

2. Complète les files numériques suivants.



161 152 163 154 169



800 670 750 704 689

