

VENDREDI 17 AVRIL 2020

CALCUL MENTAL :

Le double de 22 : **44**

Le double de 2 500 : **5 000**

Le double de 50 : **100**

Le double 3 400 : **6 800**

Le double de 550 : **1 100**

Le double de 5 300 : **10 600**

Le double de 600 : **1 200**

Le double de 123 : **246**

Le double de 1 200 : **2 400**

Le double de 10 000 : **20 000**

ORTHOGRAPHE :

Exercice 1 : Écris les noms au pluriel.

Un chacal → **Des chacals**

Un travail → **Des travaux**

Un animal → **Des animaux**

Un bal → **Des bals**

Un festival → **Des festivals**

Un oral → **Des oraux**

Un portail → **Des portails**

Un bocal → **Des bocaux**

Un corail → **Des coraux**

Un vitrail → **Des vitraux**

Exercice 2 : Écris les phrases au pluriel. Fais attention aux accords.

Exemple : la voiture bleue roule très vite. → Les voitures s bleues s roulent nt très vite.

1 – Il se cache pour effrayer un chat. → **Ils se cachent pour effrayer des chats.**


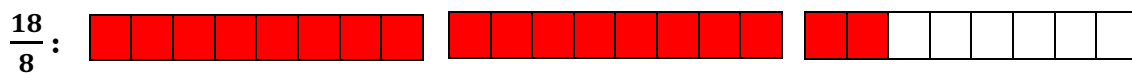
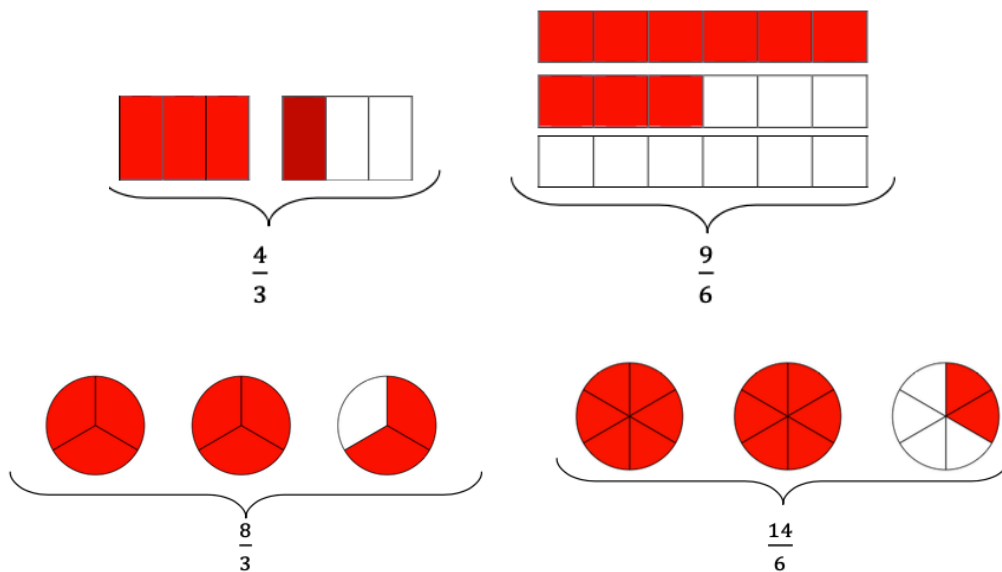
2 – Le patineur fait une acrobatie. → **Les patineurs font des acrobaties.**

3 – Elle adore manger une tartine beurrée. → **Elles adorent manger des tartines beurrées.**

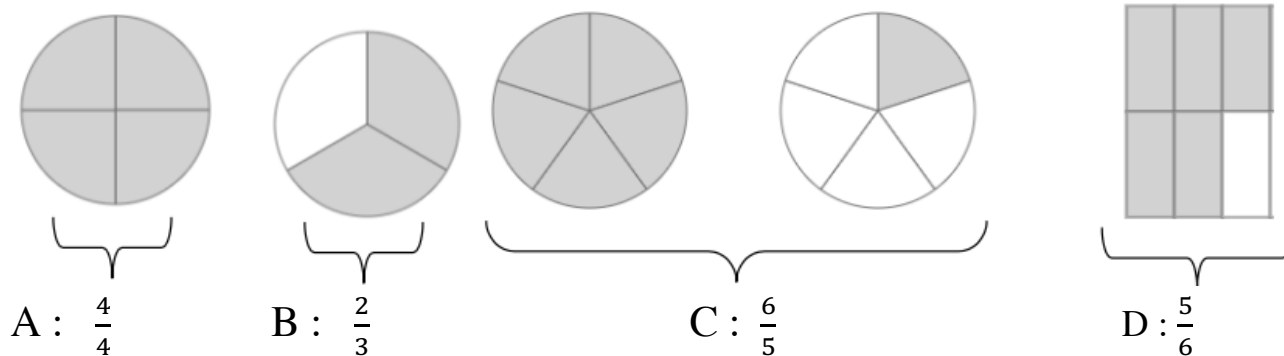
4 – Le gendarme surveille la voiture. → **Les gendarmes surveillent les voitures.**

NUMÉRATION :

Exercice 1 : Représente ces fractions.

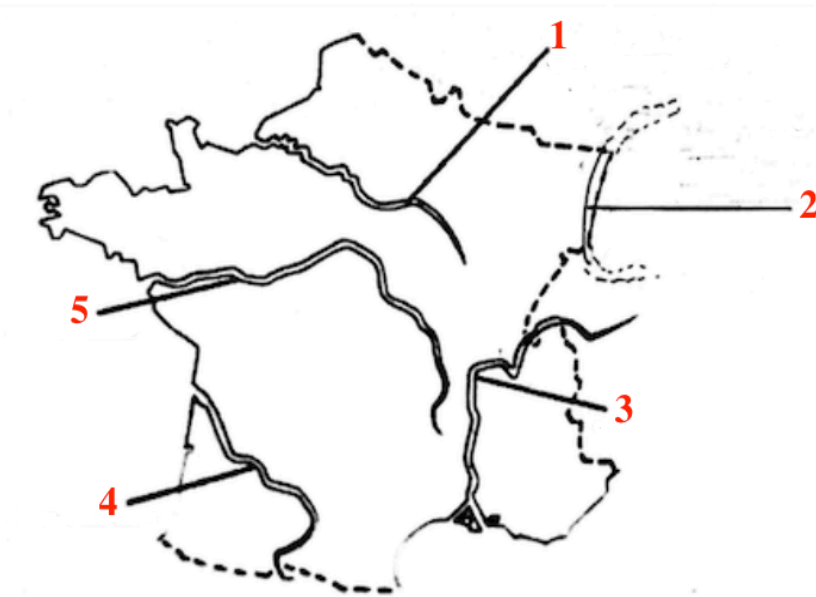


Exercice 2 : À quelles fractions correspondent les parties grisées ?
 Pour écrire la barre de fraction sur ordinateur vous pouvez utiliser « / ».



GÉOGRAPHIE : Les fleuves et les montagnes de France.

Exercice 1 : À l'aide de la carte ci-dessous nomme les cinq principaux fleuves français.



1 – La Seine

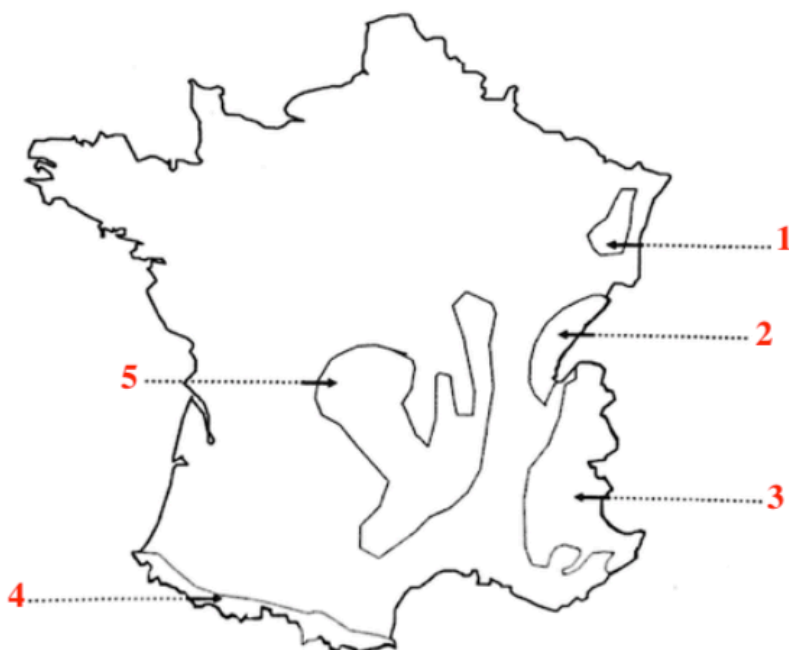
2 – Le Rhin

3 – Le Rhône

4 – La Garonne

5 – La Loire

Exercice 2 : À l'aide de la carte ci-dessous, nomme les montagnes françaises.



1 – Les Vosges

2 – Le Jura

3 – Les Alpes

4 – Les Pyrénées

5 – Le Massif Central