

**JOUR 3 SEMAINE 5****CALCUL MENTAL**

- La moitié de 10 \_\_\_\_\_
- La moitié de 20 \_\_\_\_\_
- La moitié de 30 \_\_\_\_\_
- La moitié de 100 \_\_\_\_\_
- La moitié de 200 \_\_\_\_\_
- La moitié de 50 \_\_\_\_\_

Bonus pour ceux qui le souhaitent :

- $10/2=$  \_\_\_\_\_
- $20/2=$  \_\_\_\_\_
- $30/3=$  \_\_\_\_\_

Correction : \_\_\_\_\_  
\_\_\_\_\_

**JOGGING D'ECRITURE**

*Parle de ton activité préférée.*

\_\_\_\_\_  
\_\_\_\_\_

**DICTEE**

« Les forgerons gaulois travaillent avec habileté le bronze et le fer et fabriquent toutes sortes d'outils et d'armes. Ils savent aussi faire de très belles boucles de ceinture en or ainsi que de splendides bracelets et colliers. »

Corrige tes erreurs ici : \_\_\_\_\_  
\_\_\_\_\_

**CONJUGAISON : PASSE COMPOSE**

Leçon : *Relis bien la leçon, puis entraîne toi en faisant les exercices.*

**Le PASSÉ COMPOSÉ avec l'auxiliaire AVOIR**

**Le PASSÉ COMPOSÉ avec l'auxiliaire AVOIR :**  
 Passé composé = un temps du **PASSÉ** composé de **2 parties**

<b>Formation</b> : AVOIR au <b>présent</b> + VERBE au <b>participe passé</b>		
J'	ai	chanté
Tu	as	fini
Il/elle/on	a	voulu
Nous	avons	eu
Vous	avez	été
Ils/elles	ont	fait

**Attention !**  
 ✓ L'auxiliaire « avoir » bloque l'accord entre le sujet et le participe passé.  
 Ex : - elle a mangé~~x~~ => **pas de marque du féminin** ;  
 - ils ont fini~~x~~ => **pas de marque du pluriel**

Les participes passés :

- **Verbes en -er** :  
chanter => chanté
- **Verbes en -ir** : finir => fini
- **Les autres verbes** :  
 être => été ; avoir => eu ;  
 voir => vu ; pouvoir => pu ;  
 faire => fait ; venir => venu ;  
 vouloir => voulu ;  
 dire => dit ; prendre => pris

**EXERCICES**

**1 Entoure les verbes conjugués au passé composé.**

as couru – aimer – ai jeté – blanchit – avons accompli – apparaissaient – ont confondu – arriverez – fleuris – a apporté – avez faibli – plaire – ai cru – éclaircira – quittions – avez battu – ont raconté

**2 Quel est le participe passé de ces verbes ? Exemple : acheter=> j'ai acheté**

- |       |   |       |         |   |       |         |   |       |
|-------|---|-------|---------|---|-------|---------|---|-------|
| être  | ⇒ | ..... | pouvoir | ⇒ | ..... | voir    | ⇒ | ..... |
| faire | ⇒ | ..... | manger  | ⇒ | ..... | vouloir | ⇒ | ..... |
| dire  | ⇒ | ..... | agir    | ⇒ | ..... | prendre | ⇒ | ..... |
| aller | ⇒ | ..... | avoir   | ⇒ | ..... | venir   | ⇒ | ..... |

**3 Relie les pronoms personnels sujet aux verbes correspondant.**

- |              |                |
|--------------|----------------|
| Je/j' •      | • avons prévu  |
| Tu •         | • a parlé      |
| Il/elle/on • | • avez cueilli |
| Nous •       | • ont fini     |
| Vous •       | • ai lu        |
| Ils/elles •  | • as bu        |

**4 Conjugue ces verbes au passé composé.**

- |                       |                    |
|-----------------------|--------------------|
| réussir ⇒ Tu .....    | vouloir ⇒ On ..... |
| demander ⇒ Elles..... | faire ⇒ Vous ..... |
| prendre ⇒ Nous .....  | dire ⇒ Ils .....   |
| voir ⇒ J'.....        | pouvoir ⇒ Il ..... |

Correction :

---



---



---



---



---



---



---



---

## GEOMETRIE : LES MESURES DE DUREES

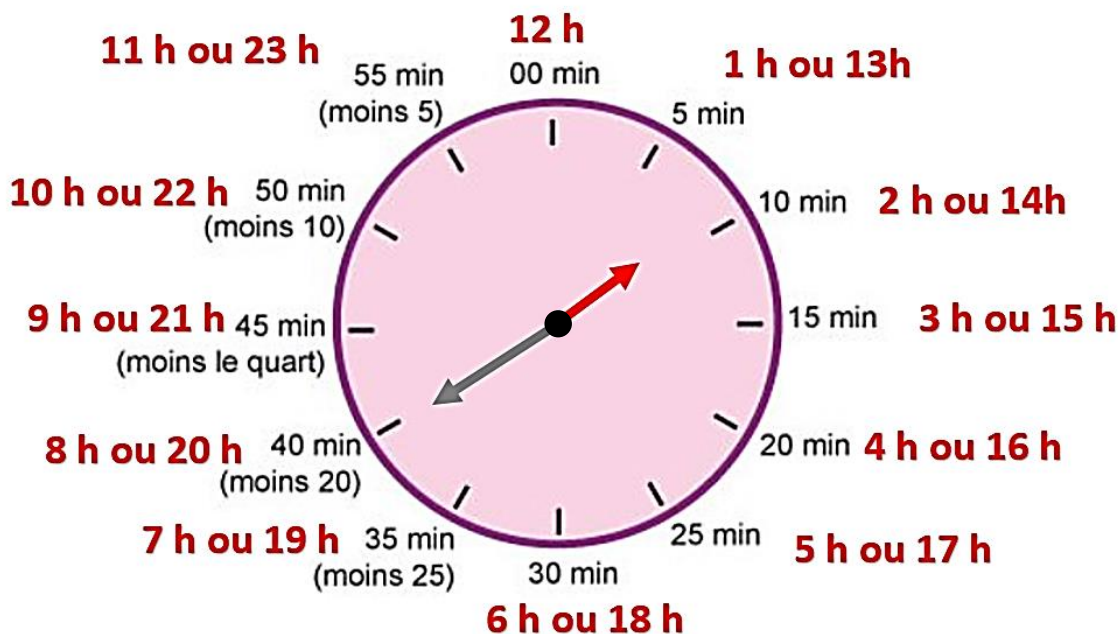
Leçon : lis bien la leçon, puis entraîne toi en faisant les exercices.

### Comment lire l'heure ?

La **flèche rouge** indique les heures :

- De 0 à 12 h : c'est le matin
- 12h à 24 h c'est l'après-midi

La flèche noire indique les minutes :



### Exemple :

- La flèche rouge n'est pas encore sur 2h ou 14h
- La flèche grise est sur 40 min

⇒ On lira :


- 1h 40 min ou 13h 40 min

### ➤ Qu'est-ce- qu'une durée ?

Une **durée** est **le temps qui s'écoule** entre deux instants donnés.

## ➤ Les différentes unités de durées

### Les différentes unités de mesure régulières :



- ✚ La seconde
- ✚ La minute = 60 secondes
- ✚ L'heure = 60 minutes = 3600 secondes
- ✚ Le jour = 24 heures = 1440 minutes = 86 400 secondes
- ✚ La semaine = 7 jours = 168 heures = 10 080 minutes = 604 800 secondes

### Les autres unités sont irrégulières :

- Le mois fait environ 4 semaines, soit 28 à 31 jours.
- L'année fait 365 ou 366 jours.

## ➤ Comment effectuer des conversions ?

Les unités de mesure du temps ne fonctionnent pas de 10 en 10. On ne peut donc pas utiliser de tableau de conversion. Il faut effectuer des calculs.

### • Des minutes en secondes :

$$1 \text{ minute} = 60 \text{ secondes} \rightarrow 2 \text{ minutes} = 2 \times 60 = 120 \text{ secondes}$$

$$3 \text{ minutes} = 3 \times 60 = 180 \text{ secondes} \quad \text{etc...}$$

### • Des secondes en minutes

$$157 \text{ secondes} = 120 + 37$$

$$= (2 \times 60) + 37$$

$$= 2 \text{ minutes et } 37 \text{ secondes}$$

### • Des heures en minutes

$$1 \text{ heure} = 60 \text{ minutes} \rightarrow 2 \text{ heures} = 2 \times 60 = 120 \text{ minutes}$$

$$3 \text{ heures} = 3 \times 60 = 180 \text{ minutes} \quad \text{etc...}$$

**EXERCICES**

# Les mesures de durées

**1** Écris les heures de ces horloges de deux manières différentes. (matin et après-midi).



.....

.....

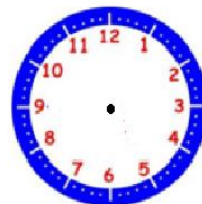
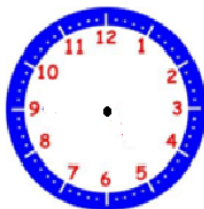

.....

**2** Dessine la grande aiguille en bleu et la petite aiguille en rouge en fonction de l'heure indiquée.

16 :25

11 :40

21 :50



**3** Convertis en heures et minutes.

135 min = ..... h ..... min

108 min = ..... h ..... min

205 min = ..... h ..... min

320 min = ..... h ..... min

**4** Convertis dans l'unité demandée .

3 h 10 min = ..... min

1 h 25 min = ..... min

Correction :

---

---

---

---

---

**DEVOIRS :**

**Mathématiques**

- Relis la leçon « les mesures de durées. »

**Français**

- Relis la leçon sur le « passé composé ».
- Apprends les mots pour la dictée de demain:  
« Les légumes ; les fruits ; la santé ; le jardin ; au moins »