

CORRIGÉ JOUR 2 SEMAINE 5**CALCUL MENTAL**

- $400 \times 30 = \underline{12\ 000}$
- $22 \times 30 = \underline{660}$
- $5 \times 300 = \underline{1\ 500}$
- $33 \times 30 = \underline{990}$
- $60 \times 100 = \underline{6\ 000}$
- $14 \times 30 = \underline{420}$

Bonus pour ceux qui le souhaitent :

- $6/3 = \underline{2}$
- $8/4 = \underline{2}$
- $44/2 = \underline{22}$

Correction : _____

JOGGING D'ECRITURE

Raconte ce que tu aimes faire pendant les récréations.

Exemple : j'aime jouer aux cartes, dessiner, parler avec mes amis.

AUTODICTEE

A toi de jouer

Corrige tes erreurs ici : _____

GRAMMAIRE : L'ATTRIBUT DU SUJET

Leçon : *Relis bien la leçon d'hier, puis entraîne toi en faisant les exercices.*

EXERCICES

① Encadre les attributs du sujet présents dans ces phrases. Souligne les sujets.

Ce meuble sculpté est très ancien. Ce gâteau est mon dessert préféré.

Etait-elle seule dans cette grande maison ? Le professeur de violon est Ralph.

② Coche uniquement les phrases qui contiennent un attribut du sujet. Souligne en rouge le verbe et en bleu l'attribut du sujet :

Tu sembles fatigué aujourd'hui.

Nous prendrons un café à la terrasse de ce café.

Lucas a déchiré le cahier de son frère.

Tu as l'air surpris par l'annonce de sa disparition.

Hier soir, le spectacle a été original et drôle.

Progressivement, le nuage semble menaçant.



③ Souligne les attributs du sujet dans les phrases quand il y en a.

La plus haute montagne du monde reste l'Everest.

Ses os demeurent fragiles malgré les médicaments.

Les petits oiseaux sont perchés sur la branche.

Le plateau de fromage est resté au milieu de la table.

Des centaines de spectateurs applaudiront le jeune chanteur.

Ces poissons ont-ils l'air dangereux ?

Cette saison, le vainqueur d'échecs du club est Thomas.

④ Complète chaque phrase avec un attribut de la nature indiquée ; fais les accords nécessaires :

Son pommier a l'air grand . (adjectif)

Les chevaux sont des animaux nobles . (groupe nominal)

Le téléphone portable reste cher. (adjectif)

La rose semble fanée. (participe-passé)

⑤ Dans ce texte, souligne les verbes d'état en rouge et les attributs en bleus.

Sophie est espiègle. Elle est rousse avec de longues nattes et son occupation principale consiste à faire les pires bêtises. Elle semble sérieuse pour son entourage mais devient terrible pour ceux qui la taquent. Sophie est une fillette au grand cœur et ses camarades sont tristes à l'idée qu'elle quitte l'école à la fin de l'année.



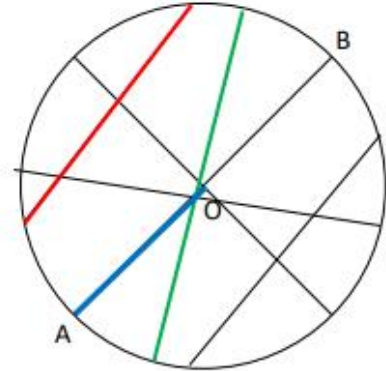
Correction :

GÉOMETRIE : LE CERCLE, LE DISQUE

Leçon : Relis bien la leçon d'hier, puis entraîne toi en faisant les exercices.

EXERCICES**1 Colorie en :**


- Bleu : un rayon
- Vert : un diamètre
- Rouge : une corde




Tracer des cercles.

3 Trace des cercles

Trace un cercle de centre O et de rayon $R=3$ cm




Trace un cercle de diamètre 4 cm .



Lecture

Compréhension



- a) Ce texte est un documentaire.
- b) Aristote, Archimède, Albert Einstein, Galilée, Isaac Newton, Marie Curie, Louis Pasteur et Alan Turing.
- c)

	Archimède	Marie Curie	Louis Pasteur	Alan Turing
Découverte des bactéries			X	
C'est un mathématicien (ne).	X			X
Il ou elle a inventé Enigma				X
Il ou elle a reçu un prix Nobel		X		
Calcul du nombre Pi	X			
Il ou elle a ouvert la voie à l'intelligence artificielle				X
Découverte du radium		X		
Il ou elle est chimiste		X	X	
Il ou elle est physicien(ne)	X	X		

Grammaire / Vocabulaire

Il y a de nombreuses réponses possibles pour le a) :

- 3 GN (dét + Nom) : nos vies – la science – la qualité – les progrès....
 - 2 GN (dét + nom + adj.) : leur travail acharné – leurs grandes découvertes – la vie quotidienne....
 - 2 GN (dét + nom + compl. du nom) : quelques scientifiques de renom - - les lois des leviers....
- b) Le GN « l'importance de l'hygiène » est COD.

Correction :
