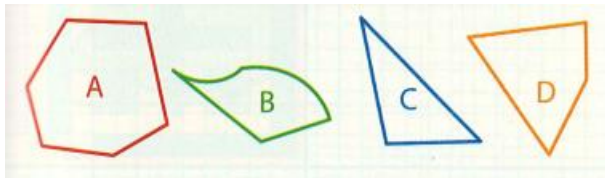
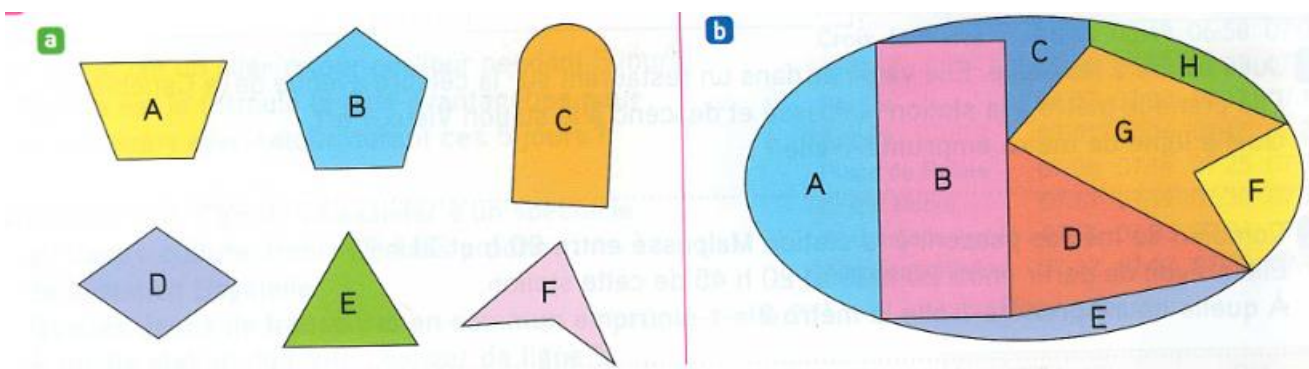


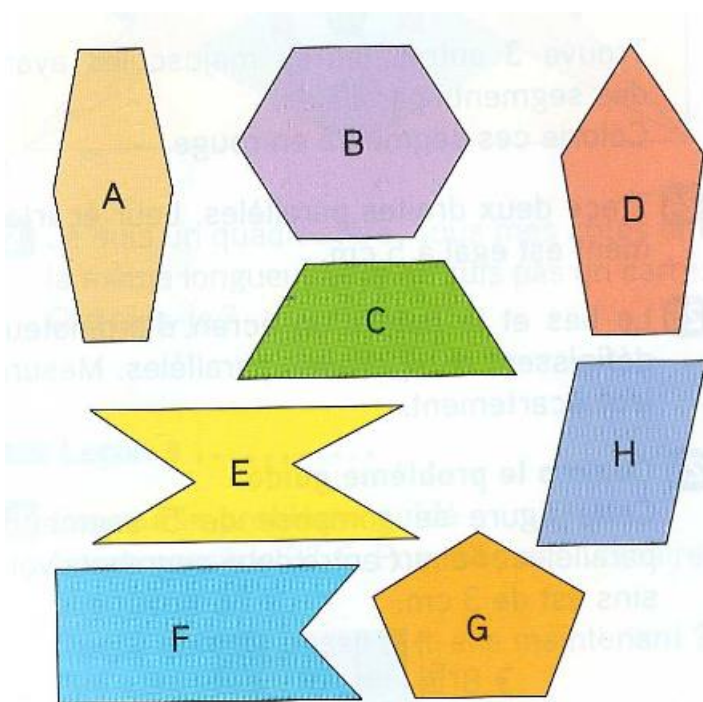
- a. Je suis un polygone à 2 diagonales.
- b. Je ne suis pas un polygone.
- c. Je suis un polygone à 3 côtés.
- d. Je suis un polygone à 6 angles.



**Exercice 11 : Quelles figures sont des polygones ? Nomme-les**



**Exercice 12 : Nomme ces quadrilatères en utilisant les mots : quadrilatère, pentagone, hexagone.**



**Exercice 13 : La France est souvent nommée par le nom d'un polygone. Lequel ?**