






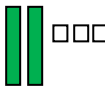

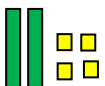







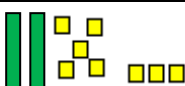







NC 13

LES NOMBRES DE 20 à 29

20	vingt			2 dizaines 0 unité	$20 + 0$
21	vingt - et - un			2 dizaines 1 unité	$20 + 1$
22	vingt - deux			2 dizaines 2 unités	$20 + 2$
23	vingt - trois			2 dizaines 3 unités	$20 + 3$
24	vingt - quatre			2 dizaines 4 unités	$20 + 4$
25	vingt - cinq			2 dizaines 5 unités	$20 + 5$
26	vingt - six			2 dizaines 6 unités	$20 + 6$
27	vingt - sept			2 dizaines 7 unités	$20 + 7$
28	vingt - huit			2 dizaines 8 unités	$20 + 8$
29	vingt - neuf			2 dizaines 9 unités	$20 + 9$

Je vérifie que j'ai bien compris !

1/ Ecris le nombre d'animaux.

		
.....

2/ Relie les points de 0 à 29.

