

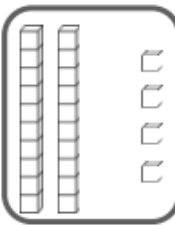
Nombres et calculs

Aide-toi de la leçon NC 13 pour faire les exercices suivants.

1 Écris les nombres en chiffres ou en lettres :

24	
	vingt-sept
	treize
29	

2 Compte, complète l'étiquette et relie :



●

vingt-quatre

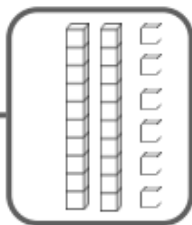
quatorze

dix-huit


vingt-six

vingt-huit

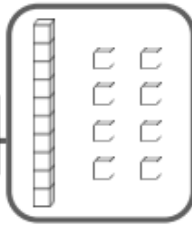
trente-six



●





●



●

3 Range les nombres dans l'ordre décroissant : 14 22 10 26 8



4 Complète les perles blanches des colliers des nombres :

20

●

●

24

●

●

32

●

●

37