


Qui est-ce qu'une montagne ?

Observe ce paysage et place les mots suivants :

versant - vallée - ville - sommets - voie de communication - forêt



Observe cette photo. Quelle est l'activité principale des hommes ici ?



L'agriculture

Le tourisme

La pêche

Quels aménagements ont été réalisés par l'homme pour cette station de ski ?


Qui est-ce que le littoral ?

Observe ces photographies et légende chaque type de littoral :




côtes à falaises - côtes sablonneuses - côtes découpées







Relie chaque port à son activité principale.



● Loisirs

● Pêche

● Commerce

Cet immeuble construit par l'homme a dû être évacué. Pourquoi ?

