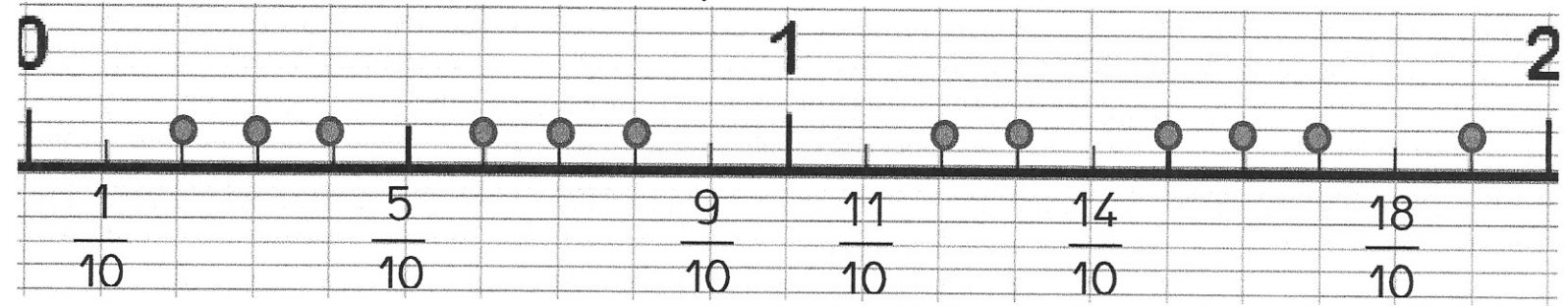


# Numération CM1 : des fractions aux nombres décimaux (1)

## 1- Indique les fractions manquantes



Quelle fraction est égale à 1 ?  $\frac{\dots}{10}$

Quelle fraction est égale à 2 ?  $\frac{\dots}{10}$

## 2 - Indique les fractions manquantes, au-dessus et en-dessous de la ligne.

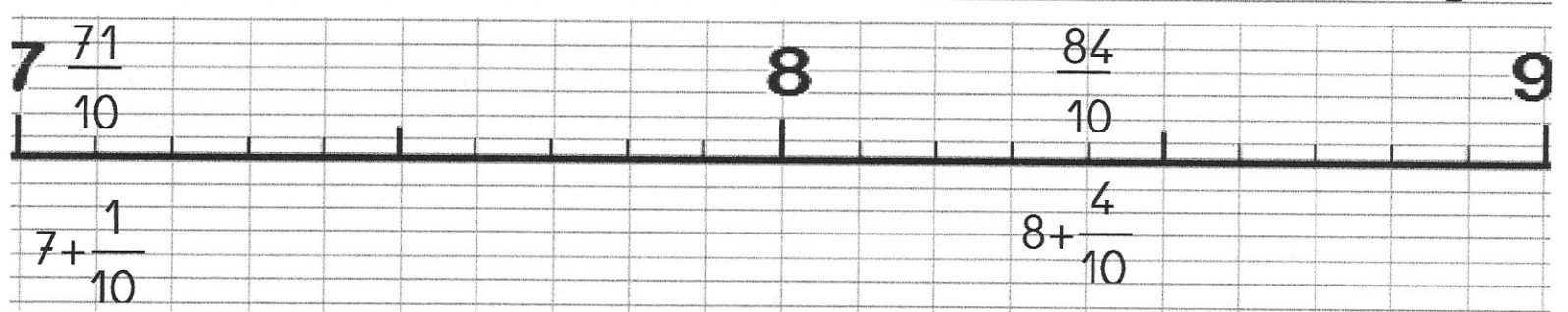
$$\frac{11}{10}$$

$$\frac{13}{10}$$

$$\frac{16}{10}$$



## 3 - Indique les fractions manquantes, au-dessus et en-dessous de la ligne.



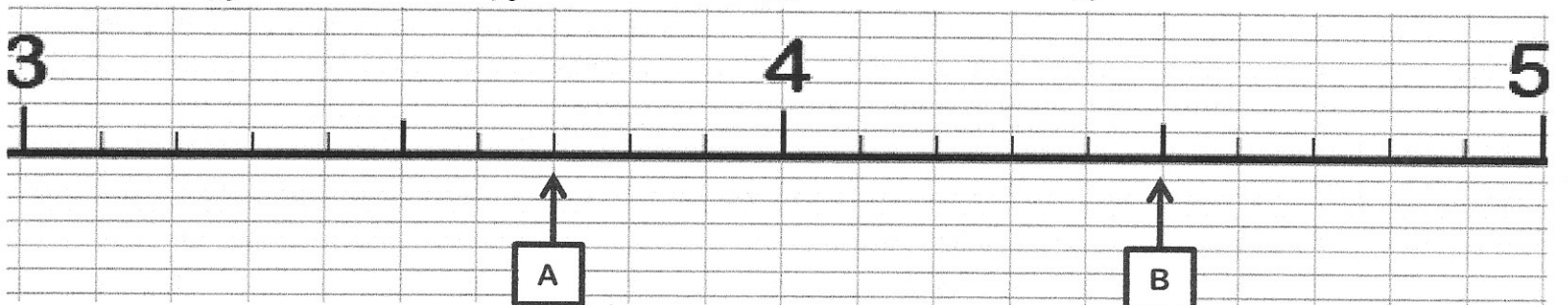
## 4 - Ecris les fractions données en face de leur repère sur la ligne graduée :

$$\frac{32}{10}$$

$$3 + \frac{9}{10}$$

$$\frac{48}{10}$$

$$4 + \frac{2}{10}$$



Pour chacun des repères A et B, donne 2 écritures différentes.