




Prénom :


date :

Fiche n°3



1 Consigne: Entoure le jeton qui a le plus grand nombre dans chaque paquet.



2 Consigne: Entoure le jeton qui a le plus petit nombre dans chaque paquet.



3 Consigne: Relie les collections au nombre qui correspond. (=)



30

40

36

4 Consigne: Compare et complète avec les signes $<$, $>$ ou $=$.



37

....

29

34

....

14

63

....

36

51

....

60

53

....

38

24

....

42