



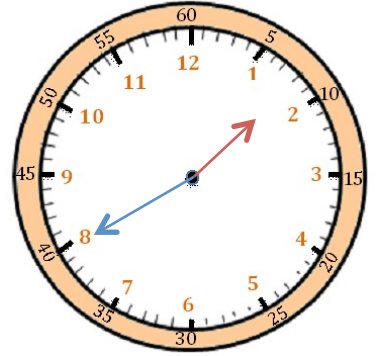
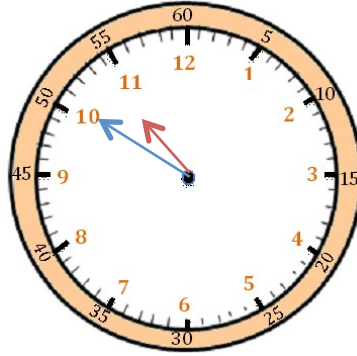
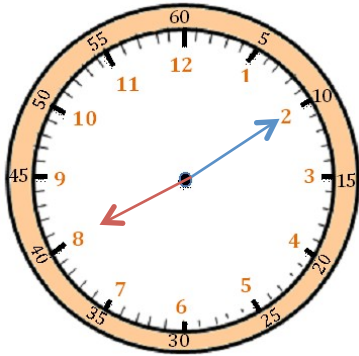
Mesures

Fiche 9

Les heures

1

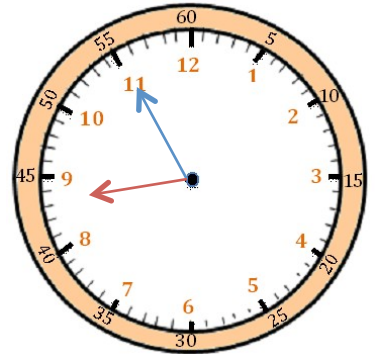
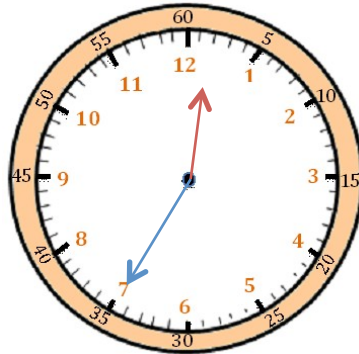
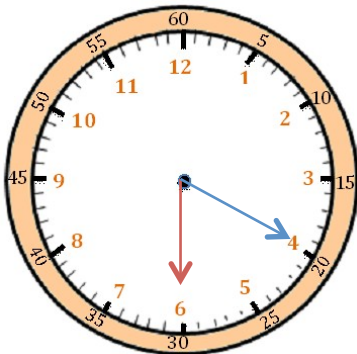
J'écris les heures indiquées sur ces horloges. Nous sommes l'après-midi.



Il est ___ h et ___ min. Il est ___ h et ___ min. Il est ___ h et ___ min.

2

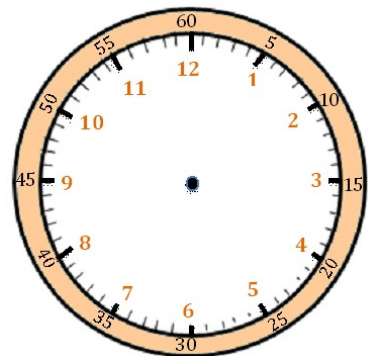
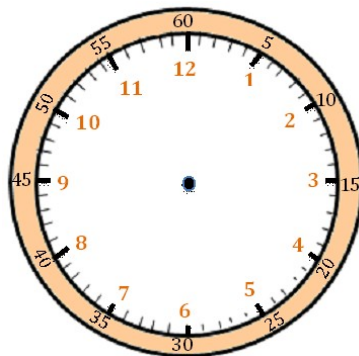
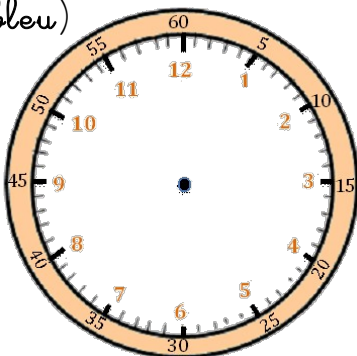
J'écris les heures indiquées sur ces horloges. Nous sommes le matin.



Il est ___ h et ___ min. Il est ___ h et ___ min. Il est ___ h et ___ min.

3

Je place les aiguilles selon les heures indiquées. (heures en rouge, minutes en bleu)



Il est 18 h 45 min.

Il est 14 h 25 min.

Il est 21 h 50 min.