


# Mardi 2 juin

Aujourd'hui au programme, de la lecture, la suite de l'album Rouge !, des mathématiques et un bricolage pour la fête des mères !

domaine	matériel	temps
 Questionner le monde	Calendrier + cahier	10 min

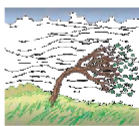
Montre la date à tes parents à partir du [calendrier](#) et recopie-la sur ton cahier.

domaine	matériel	temps
 lecture	La fiche	10 min

am am      em em



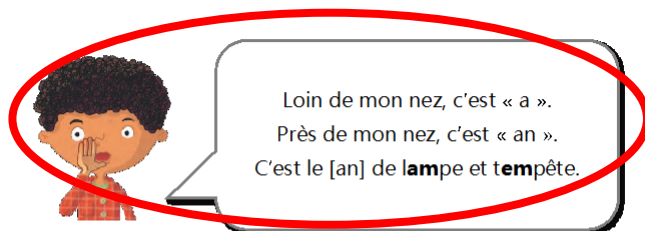
une lampe



une tempête

tam	pam	ram	vam	cam	bam
vem	tem	mem	sem	rem	lem
cram	tram	jam	trem	cham	fram
lam	pren	chan	man	pran	cran

Leçon am, em



am	am	em
une ampoule	une chambre	le temps
un tambour	un champion	le printemps
une rampe	un vampire	novembre
une lampe	un tampon	décembre
des jambes	un campeur	ensemble
du jambon	un bambin	trembler

Ma saison préférée, c'est l'automne ! Je me déguise en vampire pour Halloween et mon frère en fantôme.

J'aime quand le vent souffle dans les branches et emporte les feuilles mortes en novembre.

En décembre, j'adore les fêtes de fin d'année que nous fêtons tous ensemble autour d'un grand sapin rempli de boules et de guirlandes.


Le blog de  Chat noir

Lis les mots et les phrases que tu peux.


Choisis deux mots et écris une ou deux phrases avec ces mots.

domaine	matériel	temps
 exercices	Ton fichier Pilotis	10 min

Fais les activités de la page 113 pour apprendre à bien écrire les mots en am/em

domaine	matériel	temps
 dictée	Ton cahier	20 min

Maintenant nous allons faire une dictée de mots. Relis bien les mots de la fiche du **am** et du **em**.

domaine	matériel	temps
 lecture	Ton cahier	20 min

Ecoute l'épisode 4 de l'histoire « Rouge » à partir de ce [lien](#). Dans ton cahier fais deux colonnes : une pour les animaux et une pour les plantes. Range les mots en-dessous dans la bonne colonne.

un lapin	un pic-vert	des vers
la salade	des limaces	un rossignol
un taureau	une fraise	une cerise
l'herbe	une pomme	un chêne

Mathématiques	matériel	temps
 chaque jour compte	Ton cahier et le modèle de la fiche <a href="#">ici</a>	10 min

## Écris toutes les façons de faire 89



Tu peux t'aider de la fiche. Elle est aussi sur le blogue.

Complète ou dessine:

en lettres.

dizaines et  unités

+ 1:

- 1:


dessine


Ex: 30 + 4

dessine

0	1	2	3	4	5	6	7	8	9
10	11	12	13	14	15	16	17	18	19
20	21	22	23	24	25	26	27	28	29
30	31	32	33	34	35	36	37	38	39
40	41	42	43	44	45	46	47	48	49
50	51	52	53	54	55	56	57	58	59
60	61	62	63	64	65	66	67	68	69
70	71	72	73	74	75	76	77	78	79
80	81	82	83	84	85	86	87	88	89
90	91	92	93	94	95	96	97	98	99

0 10 20 30 40 50 60 70 80 90 100

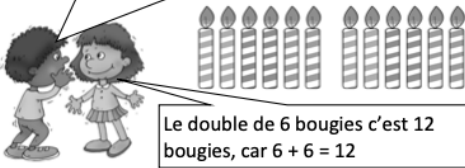

 Pour les abaques, à droite on dessine les unités et au milieu les dizaines. Par exemple pour 25 : **25**

Mathématiques	matériel	temps
 exercices	Ton petit fichier tirobot Je réussis en calcul au cP	10 min

### Activité 1

Maintenant nous allons revoir les doubles. Tu peux revoir la leçon [ici](#)

Si je veux le double de bougies, j'ajoute la même quantité de bougies.



Le double de 6 bougies c'est 12 bougies, car  $6 + 6 = 12$

$1 + 1 = 2$  ➤ 2 est le double de 1

$2 + 2 = 4$  ➤ 4 est le double de 2

$3 + 3 = 6$  ➤ 6 est le double de 3

$4 + 4 = 8$  ➤ 8 est le double de 4

$5 + 5 = 10$  ➤ 10 est le double de 5

$6 + 6 = 12$  ➤ 12 est le double de 6


$7 + 7 = 14$  ➤ 14 est le double de 7

$8 + 8 = 16$  ➤ 16 est le double de 8

$9 + 9 = 18$  ➤ 18 est le double de 9

$10 + 10 = 20$  ➤ 20 est le double de 10

Maintenant fais les activités de la page 34 dans ton petit fichier.

Mathématiques	matériel	temps
 calcul	déplacement sur quadrillage	10 min

Nous allons retravailler le déplacement sur un quadrillage. Choisis ton parcours, le point de vue conducteur puis démarre l'activité à partir de ce lien :

[déplacement sur quadrillage](#)

domaine	matériel	temps
		Autant que tu veux !

Tu peux commencer la carte pour la fête des mères, c'est dimanche prochain, le 7... Je t'envoie aussi un poème à apprendre. Demande à quelqu'un de t'aider si c'est trop compliqué.