

Correction des exercices du jeudi 4 juin et du vendredi 5 juin 2020

Jeudi 4 juin 2020

Écriture

Écris cette phrase en attaché dans ton cahier.

N'oublie pas la majuscule au début de la phrase et le point à la fin.

Arthur va vers le taureau et fait le clown sous son nez.

Arthur va vers le taureau et fait le clown sous son nez.

Mathématiques

- Tu fais du calcul mental.

Compte de 5 en 5 jusqu'à 80 sur le tableau des nombres :

0, 5,

10, 15,

20, 25,

30, 35,

40, 45,

50, 55,

60, 65,

70, 75,

80

- Tu fais les exercices suivants. Écris uniquement les réponses sur ton cahier.

1) Écris les nombres qui manquent sur ton cahier.

49	50	51	52	53	54	55	56	57	58	59
----	----	----	----	----	----	----	----	----	----	----

2) Écris le nombre qui est juste avant et le nombre qui est juste après le nombre donné.

4	5	6
50	51	52
52	53	54
55	56	57
58	59	60

3) Écris en lettres.

N'oublie pas de mettre le tiret entre les 2 mots du nombre.

52 : cinquante - deux

56 : cinquante - six

4) Écris en chiffres.

cinquante- et- un : 51.....

cinquante - sept : 57.....

Vendredi 5 juin 2020

Lecture

- Exercice : mets les mots en ordre pour former une phrase.

dans le pré	Un taureau	broute	•
3	1	2	4

Un taureau broute dans le pré .

n'a pas peur	des taureaux	Arthur	•
2	3	1	4

Arthur n'a pas peur des taureaux .

joue	Gafi	avec le taureau	au torero	•
2	1	4	3	5

Gafi joue au torero avec le taureau .

Dictée

Dictée de phrase.

Faire compter les mots de la phrase avec le doigt : il y a 5 mots.

Elle a vu un crocodile .
1 2 3 4 5

Mathématiques

- Tu fais du calcul mental.

Compte de 5 en 5 jusqu'à 90 sur le tableau des nombres :

0, 5,

10, 15,

20, 25,

30, 35,

40, 45,

50, 55,

60, 65,

70, 75,

80, 85,

90

- Tu fais les exercices suivants.

Exercice 1 : groupe par 10.

Compte par 10. Dès que tu as 10, tu fais un paquet ou une dizaine.

Écris ensuite sur ton cahier combien il y a de dizaines et combien il y a d'unités.

Écris enfin le nombre total d'objets ou d'animaux.



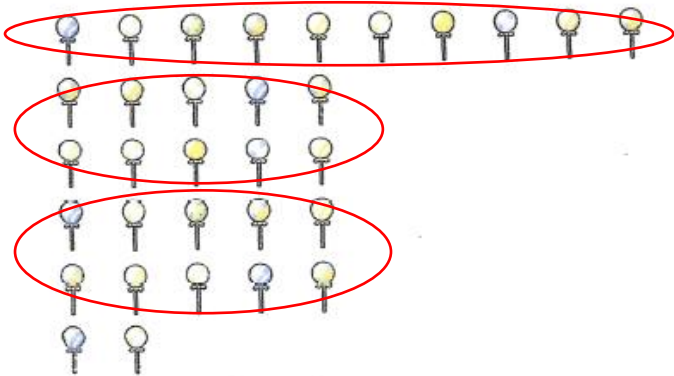
d	u
5	3

C'est le nombre : 53




d	u
1	1

C'est le nombre : 11



d	u
3	2

C'est le nombre : 32



d	u
4	7

C'est le nombre : 47

Exercice 2 : dessine les paquets de 10 et les billes toutes seules.

Lis d'abord le nombre qui est écrit dans le petit tableau dizaine/ unité.

Dis ensuite à tes parents combien il y a de dizaines et d'unités.

Dessine les paquets de 10 et les billes toutes seules.



Attention : on met toujours 10 billes dans un paquet de 10.



d	u
1	9




d	u
2	5



d	u
3	6



d	u
4	7



d	u
3	3



d	u
0	8