

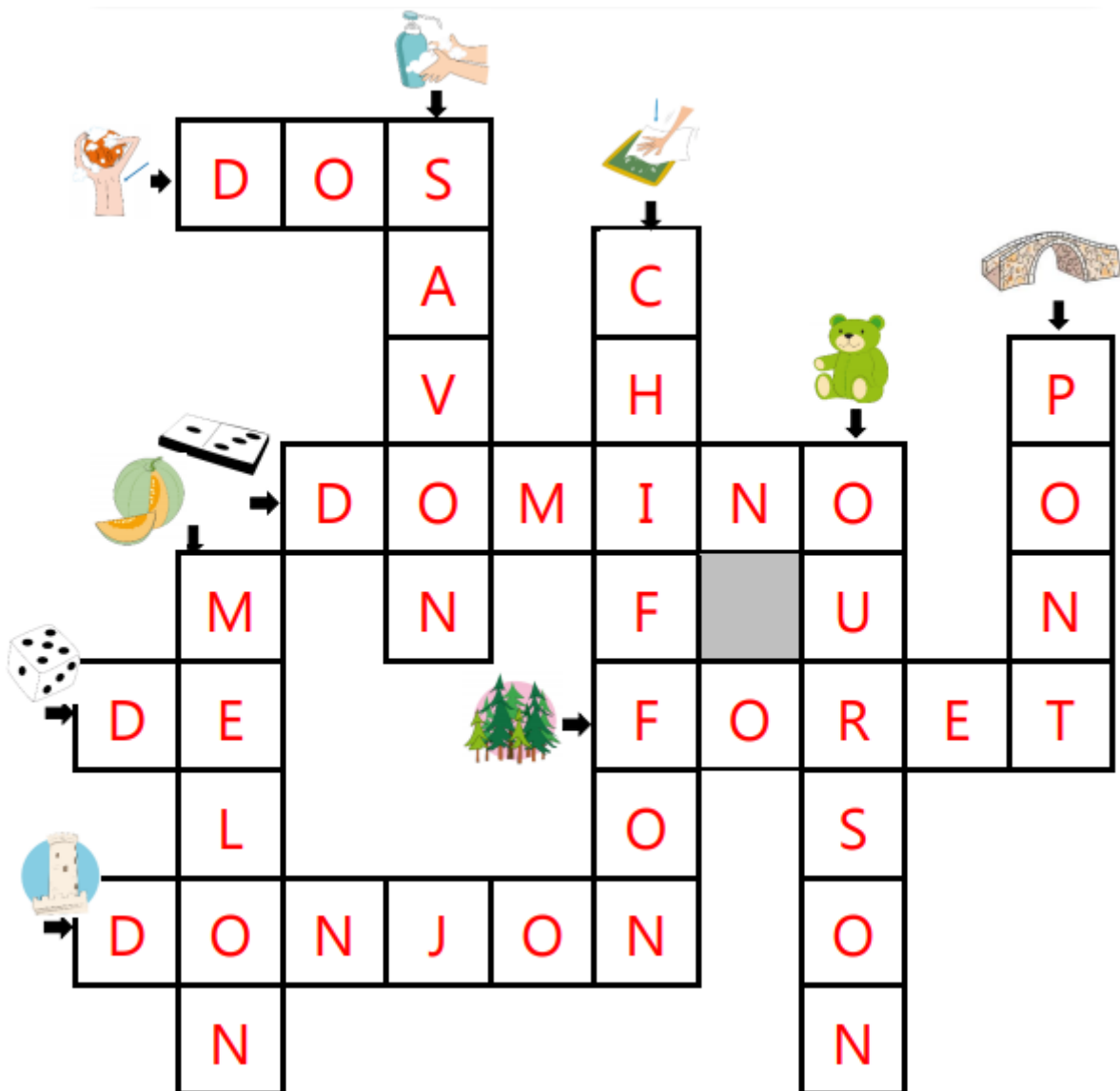
Vendredi 19 juin 2020

Correction

La date en anglais : « Friday, the 19th of June »


Mots fléchés (1)

OURSON – MELON – SAVON – DE – DONJON  
PONT – CHIFFON – DOS – DOMINO – FORET



Mots fléchés (2)

PYRAMIDE – PYJAMA – SALADE – JUPE  
JUDO – DOUCHE – JOUER – JOUE – RADIS



Mathématiques :

Le petit sudoku

**9**

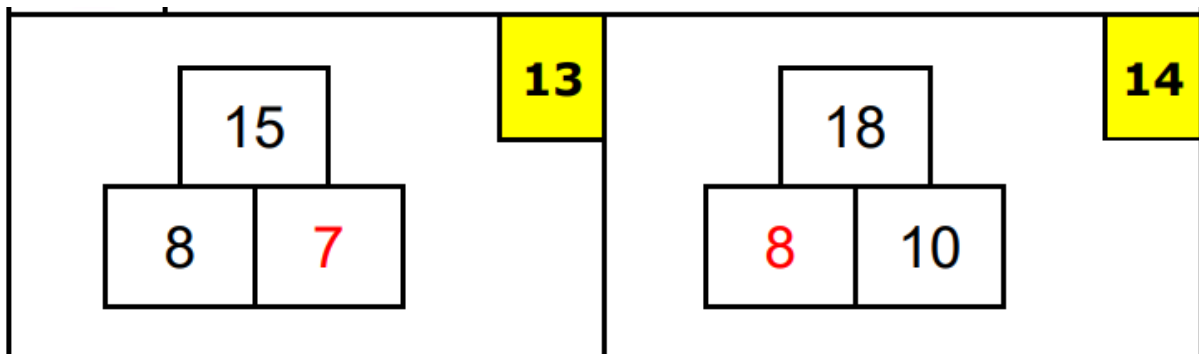
1	2	4	3
4	3	1	2
2	1	3	4
3	4	2	1

**10 : 2 solutions**

4	2	3	1
3	1	4	2
2	3	1	4
1	4	2	3

3	2	4	1
4	1	3	2
2	3	1	4
1	4	2	3

La pyramide



<div style="border: 1px solid black; width: 100px; height: 100px; margin: 0 auto; display: flex; flex-direction: column; align-items: center; justify-content: center;"> <div style="border: 1px solid black; width: 60px; height: 40px; margin-bottom: 5px;">12</div> <div style="border: 1px solid black; width: 100%; height: 40px; display: flex; justify-content: space-around;"> <span style="color: red; font-size: 24px;">7</span> <span style="font-size: 24px;">5</span> </div> </div>	15	<div style="border: 1px solid black; width: 100px; height: 100px; margin: 0 auto; display: flex; flex-direction: column; align-items: center; justify-content: center;"> <div style="border: 1px solid black; width: 60px; height: 40px; margin-bottom: 5px;">14</div> <div style="border: 1px solid black; width: 100%; height: 40px; display: flex; justify-content: space-around;"> <span style="color: red; font-size: 24px;">8</span> <span style="font-size: 24px;">6</span> </div> </div>	16
--	----	--	----



Mathématiques :

À toi de jouer ! Complète les phrases.

	HORODATOR ★	3
---	-------------	---

 Il est....h	 Il est....h	 Il est....h
--	--	--

Il est <b>4h</b>	Il est <b>11h</b>	Il est <b>2h</b>
------------------	-------------------	------------------

 Il est 5 h	 Il est 11 h	 Il est 6 h
---	--	---

## Résolution de problèmes

### Situation 1)

Lucie a apporté 24 bonbons. Les enfants ont mangé 21 bonbons.

Combien reste-t-il de bonbons ?

$$24 - 21 = 3$$

Il reste 3 bonbons.

### Situation 2)

Mamie a eu 4 nouveaux chats. Cela lui en fait 9 au total.

Combien avait-elle de chats avant ?

$$\dots + 4 = 9$$

$$5 + 4 = 9$$

Elle avait 5 chats avant.

### Situation 3)

Léo a 9 billes et Antoine en a 12. Ils mettent leurs billes ensemble pour tout donner à leur petit frère.

Combien de billes reçoit-il ?

$$9 + 12 = 21$$

Il reçoit 21 billes.