


Vendredi 12 juin 2020

Correction

Mots fléchés



Mathématiques :

Le petit sudoku

				<b>7</b>					<b>8</b>
3	2	4	1		1	4	2	3	
1	4	2	3		2	3	1	4	
4	1	3	2		3	2	4	1	
2	3	1	4		4	1	3	2	



La pyramide

		<b>11</b>			<b>12</b>
11			13		
8	.3.		.5	8	

## Mathématiques :

### - Fichier Picbille : fiche 113

Rappelle-toi : L'horloge donne l'heure grâce à deux aiguilles. La grande aiguille indique les minutes, la petite aiguille indique les heures.

	
Il est <b>4 heures</b> car la petite aiguille vise le « 4 » et la grande indique le « 12 » qui représente « 0 » minute.	Il est <b>7h30</b> car la petite aiguille est après le 7 et avant le 8 et la grande aiguille est sur le 6 qui représente 6 fois 5 minutes, c'est-à-dire 30 minutes (une demi-heure)

Pour l'instant, les exercices portent sur l'heure pile et l'heure et demie.

À toi de jouer ! Complète les phrases.

	<b>HORODATOR ★</b>	<b>1</b>
		
Il est... <b>9</b> ..h	Il est.. <b>3</b> ..h	Il est... <b>7</b> ..h

	<h1>HORODATOR ★</h1>	<h1>2</h1>
 <p>Il est...<b>8</b>..h</p>	 <p>Il est..<b>5</b>..h</p>	 <p>Il est..<b>12</b>..h</p>

	<h1>HORODATOR ★</h1>	<h1>7</h1>
 <p>Il est..<b>2</b>..h..<b>30</b>min</p>	 <p>Il est..<b>7</b>..h..<b>30</b>min</p>	 <p>Il est..<b>12</b>..h..<b>30</b>min</p>

Les additions posées en colonnes.

$$68 + 23 = 91$$

$$\begin{array}{r}
 \textcircled{1} \\
 6 \quad 8 \\
 + \quad 2 \quad 3 \\
 \hline
 9 \quad 1
 \end{array}$$

$$32 + 25 + 26 = 83$$

①

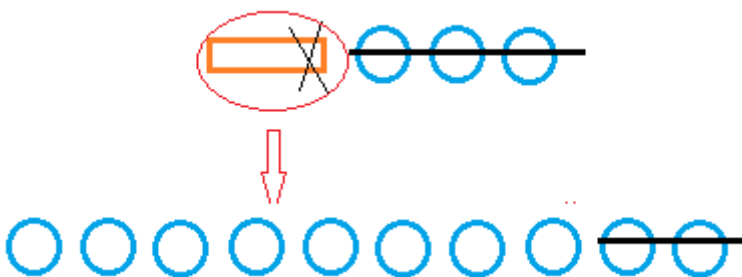
$$\begin{array}{r} 32 \\ + 25 \\ + 26 \\ \hline 83 \end{array}$$

$$52 + 5 + 12 = 69$$

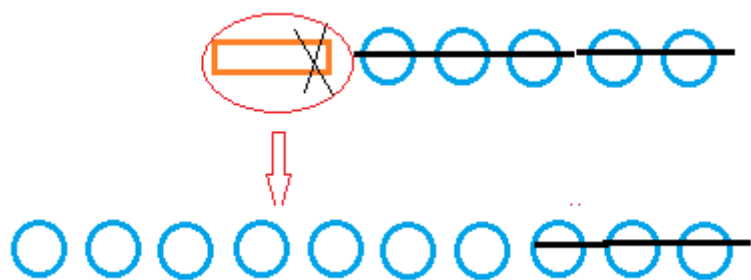
$$\begin{array}{r} 52 \\ + 5 \\ + 12 \\ \hline 69 \end{array}$$

La soustraction

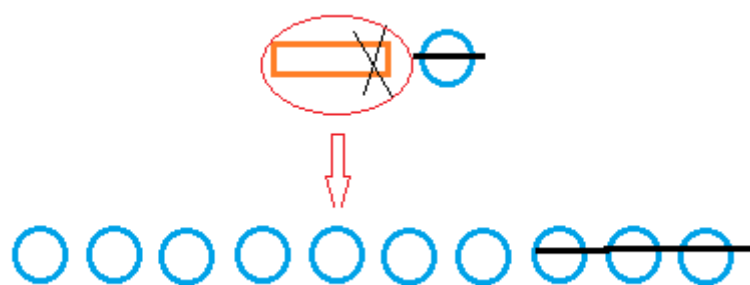
$$13 - 5 = 8$$



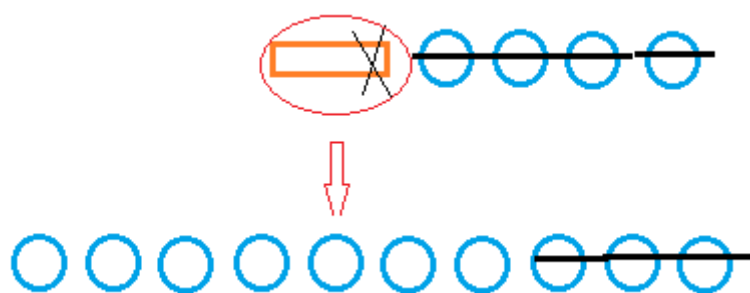
$15-8=7$



$11-4=7$

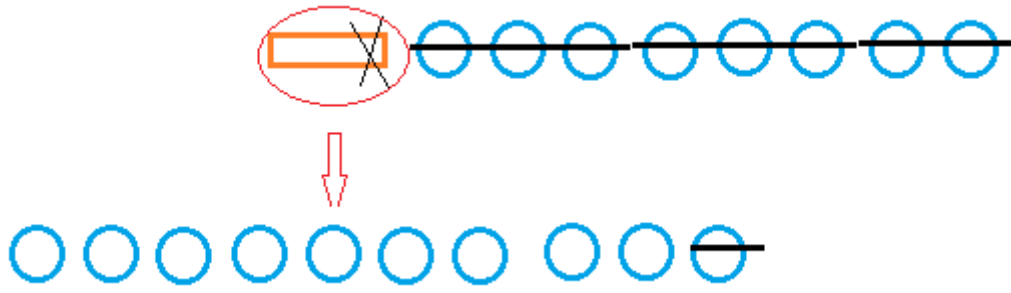


$14-7=7$

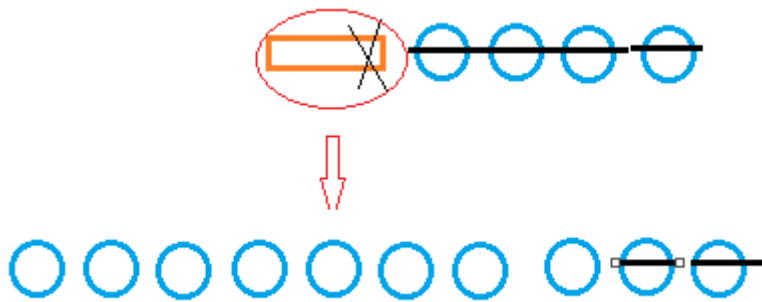


$17-4=13$

$18-9=9$



$14-6=8$



$13-9=4$

