


# Mardi 16 juin

Aujourd'hui au programme, de la lecture, la suite de l'album Rouge !, des mathématiques.

domaine	matériel	temps
 Questionner le monde	<u>Calendrier</u> + cahier	10 min


Montre la date à tes parents à partir du calendrier et recopie-la sur ton cahier.

domaine	matériel	temps
 lecture	La fiche	10 min

Aujourd'hui nous allons faire le son z quand il s'écrit avec la lettre s



une maison

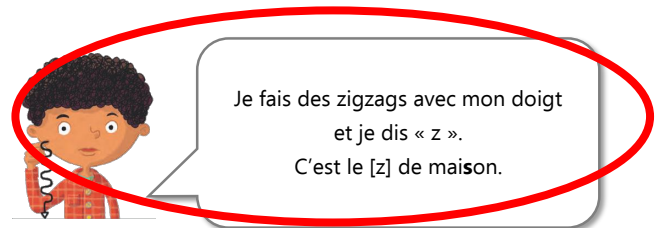


cousin

coussin

asi	usa	isi	osa	usi	isé
ase	use	ose	ise	osé	usé
oise	ouse	aise	ési	isi	asi
asin	euse	ésor	osez	usez	ousin

Leçon s = z



Je fais des zigzags avec mon doigt et je dis « z ». C'est le [z] de maison.

ase	ose	ise
un vase	une rose	une valise
une case	une chose	une chemise
une base	il ose	grise
ouse	aise	euse
la pelouse	une fraise	une coiffeuse
jalouse	une chaise	généreuse

Faisons un tour dans la maison des contes !...

Les trois petits cochons construisent une maison en paille, en bois et en briques pour résister au loup. Boucle d'Or visite la maison des trois ours et y sème le désordre avant de s'enfuir !

Hansel et Gretel découvrent un trésor dans la maison de pain d'épice.

Mais connaissez-vous la maison de l'ogre ?...

Le blog de  Chat noir

Lis tout ce que tu peux dans la fiche.

Fais le dessin des phrases.

domaine	matériel	temps
 exercices	Ton fichier Pilotis	10 min

Écoute la dictée et fais-la dans ton cahier.

Fais les activités des pages 118 et 119 pour apprendre à bien lire et écrire les mots en s.

domaine	matériel	temps
 lecture	Ton cahier + <u>lien</u>	20 min

Ecoute l'épisode 6 de l'histoire « Rouge » à partir de ce lien et lis la fiche de lecture.

Complète les phrases avec les mots de l'histoire


picore - idée - assez - bonnet

La mamie a tricoté un .....

Un rossignol ..... le bonnet.

La petite fille en a .....

La mamie a une .....

Mathématiques	matériel	temps
 chaque jour compte	Ton cahier et le modèle de la fiche <u>ici</u>	10 min

Écris toutes les façons de faire 98



Tu peux t'aider de la fiche. Elle est aussi sur le blogue.

Complète ou dessine:

en lettres:

\_\_\_\_\_ dizaines et \_\_\_\_\_ unités

+ 1: \_\_\_\_\_

- 1: \_\_\_\_\_

dessine

Ex: 30 + 4

dessine

0	1	2	3	4	5	6	7	8	9
10	11	12	13	14	15	16	17	18	19
20	21	22	23	24	25	26	27	28	29
30	31	32	33	34	35	36	37	38	39
40	41	42	43	44	45	46	47	48	49
50	51	52	53	54	55	56	57	58	59
60	61	62	63	64	65	66	67	68	69
70	71	72	73	74	75	76	77	78	79
80	81	82	83	84	85	86	87	88	89
90	91	92	93	94	95	96	97	98	99

0 10 20 30 40 50 60 70 80 90 100

Pour les abaques, à droite on dessine les unités et au milieu les dizaines. Par exemple pour 25 : **25**

Mathématiques	matériel	temps
exercices	Ton petit fichier tirobot Je réussis en calcul au cP	10 min

### Activité 1

Maintenant tu vas faire une dictée de nombres : choisis les nombres entre 80 et 99.

<https://www.clicmaclasse.fr/activites/dictee/nombres.html>

Mathématiques	matériel	temps
exercices	Ton grand fichier tirobot Je réussis en grammaire au cP	10 min

Tu vas maintenant apprendre à lire l'heure. Regarde bien la leçon [ici](#).

Puis relis la leçon en-dessous et fais les activités juste après :

Il est <b>4 heures</b> car la petite aiguille vise le « 4 » et la grande indique le « 12 » qui représente « 0 » minute.	Il est <b>7h30</b> car la petite aiguille est après le 7 et avant le 8 et la grande aiguille est sur le 6 qui représente 6 fois 5 minutes, c'est-à-dire 30 minutes (une demi-heure)

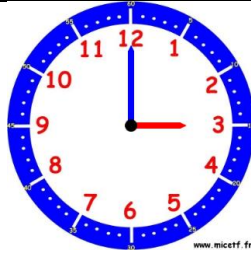


# HORODATOR ★

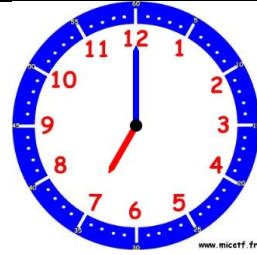
1



Il est.....h



Il est.....h



Il est.....h



# HORODATOR ★

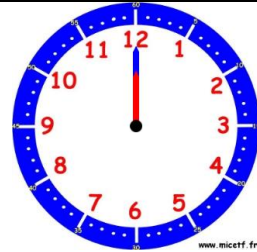
2



Il est.....h



Il est.....h



Il est.....h



# HORODATOR ★

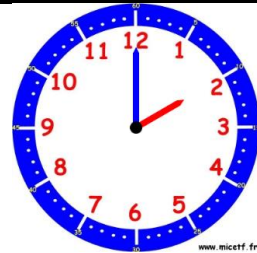
3



Il est.....h



Il est.....h



Il est.....h