


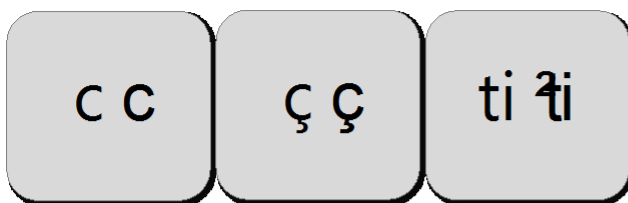
Vendredi 5 juin

Aujourd'hui au programme, de la lecture, la suite de l'album Rouge !, des mathématiques et de la cuisine.

domaine	matériel	temps
 Questionner le monde	Calendrier + cahier	10 min

Montre la date à tes parents à partir du [calendrier](#) et recopie-la sur ton cahier.

domaine	matériel	temps
 lecture	La fiche	10 min



un citron

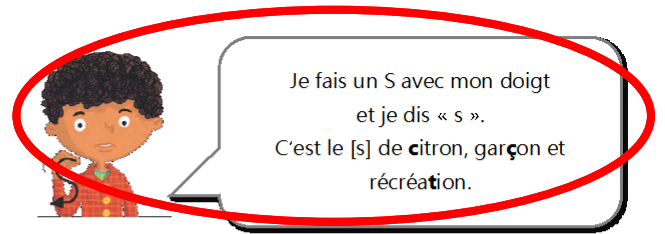


un garçon



la récréation

ce	ci	cé	cy	cen	ceau
ça	çan	ço	çoi	çon	çu
cir	cil	cin	cyn	cym	ces
tie	tia	tion	tiel	tien	tial



ce-ci

une glace
le pouce
la police
les vacances
une saucisse
une cicatrice

ç

une leçon
un maçon
un glaçon
une façade
un français
il a reçu

ti

une addition
une invention
la natation
la patience
une acrobatie
les initiales

En vacances au bord de la mer, Julie campe avec ses parents près de l'océan.

Soudain, Julie s'aperçoit que son chien a disparu ! Elle se fait beaucoup de souci pour lui.


Alors, elle part à sa recherche et l'aperçoit devant la charcuterie, en compagnie d'un garçon inconnu. Celui-ci lui raconte que le chien a voulu voler une saucisse ! Julie remercie ce garçon.

Lis les mots et les phrases que tu peux.


Choisis deux mots et écris une ou deux phrases avec ces mots.

domaine	matériel	temps
 exercices	Ton fichier Pilotis	10 min

Fais les activités de la page 115 pour apprendre à bien lire et écrire les mots en c/ç/ti.

domaine	matériel	temps
 dictée	Ton cahier	20 min


Maintenant nous allons faire une dictée de mots. Relis bien les mots de la fiche du **c ; ç, ti**

domaine	matériel	temps
 lecture	Ton cahier + lien	20 min

Ecoute l'épisode 5 de l'histoire « Rouge » à partir de ce [lien](#). Dans ton cahier recopie les phrases qui sont vraies.



- Le taureau tape du pied.
- La mamie tricote une écharpe.
- La mamie tricote un gros collant.
- Un pic-vert pique la petite fille.

Mathématiques	matériel	temps
 chaque jour compte	Ton cahier et le modèle de la fiche ici	10 min

Écris toutes les façons de faire 89



Tu peux t'aider de la fiche. Elle est aussi sur le blogue.

Complète ou dessine:

en lettres.

_____ dizaines et _____ unités

+ 1: _____

- 1: _____

dessine


Ex: 30 + 4

dessine

Complète ou dessine


Pour les abaques, à droite on dessine les unités et au milieu les dizaines. Par exemple pour 25 :

25

Mathématiques	matériel	temps
 exercices	Ton petit fichier tirobot Je réussis en calcul au cP	10 min

Activité 1

Maintenant nous allons revoir la famille des 70 et 70. Fais les activités de la page 44.

Mathématiques	matériel	temps
 exercices	Ton grand fichier tirobot Je réussis en grammaire au cP	10 min

Pour revoir comment tracer à la règle fais les activités de la page 21. Attention à bien tracer dans l'ordre des nombres

domaine	matériel	temps
		Autant que tu veux !

Sur la page suivante tu trouveras une recette de gâteau pour la fête des mères. Quand le gâteau est cuit sors-le du moule et découpe -le en forme de cœur.








GÂTEAU AU CHOCOLAT









Ingrédients :

					
200 g de chocolat	125 g de beurre	4 oeufs	200 g de sucre	100 g de farine	1 sachet de levure

Ustensiles :

						
2 saladiers	2 cuillères en bois	1 couteau	1 moule	1 verre doseur	1 micro-ondes	1 four

Préparation :

1		Casse le chocolat en petits morceaux dans un saladier.
2		Coupe le beurre en petits dés et ajoute-le au chocolat. Fais fondre au micro-ondes.
3		Dans un saladier, mélange les oeufs et le sucre. Puis ajoute la farine et la levure.
4		Verse le chocolat et le beurre fondus dans la préparation et mélange.
5		Beurre le moule et verses-y le mélange.
6		Fais cuire à 180°C pendant 25 minutes.