


Lundi 18 mai

Bonjour, bonjour ! Et voilà c'est la reprise, courage !

Aujourd'hui au programme : le calendrier, du français, des mathématiques et une histoire en musique !

domaine	matériel	temps
 Questionner le monde	Calendrier + cahier	10 min

Nous sommes au mois de mai, c'est donc un nouveau mois : le 5^{ème} de l'année.

Montre à tes parents la date et recopie-là sur ton cahier.

Ensuite réponds aux questions :

Recopie sur ton cahier. Complète le tableau avec le mois avant et le mois après comme dans l'exemple.

avril	mai	juin
août	septembre	
octobre		



Les mois de l'année

Dans un an , il y a 12 mois



- 01 -janvier
- 02 -février
- 03 -mars
- 04 -avril
- 05 -mai
- 06 -juin
- 07 -juillet
- 08 -août
- 09 -septembre
- 10 -octobre
- 11 -novembre
- 12 -décembre

domaine	matériel	temps
 lecture	La fiche	10 min

Attention nouveau son ! Voici les lettres **er** et **ez** qui font le son é comme dans **rocher** ou **nez**.

er er ez ez

é



Je vois, je dis

un rocher un rocher

un panier	un escalier	le goûter	un cahier
un calendrier	rêver	un évier	le dîner
un pompier	un boucher	un berger	un boulanger
se laver	un policier	le déjeuner	danser
un sanglier	le clocher	manger	le nez

Je lis des syllabes

- ver ber mer rer ner cher der ler
- chez nez vez lez mez bez rez dez

Je manipule des sons

- Nommer les mots illustrés.
- Supprimer au début de mot le son proposé et trouver un autre mot.

- → ?
 - → ?
 - → ?

Je lis des mots

ler/lez aller vous allez dîner vous dînez	cher/chez gaucher marcher vous marchez chez	ier/iez droitier janvier février vous trieux	ied un pied nu-pieds cloche-pied
--	--	---	--

Je lis un texte

Nous jouons à deviner un métier :
 « Vous assurez la sécurité de tous.
 Vous portez un uniforme.
 Vous donnez des amendes ou vous menez
 des individus au commissariat. Qui êtes-vous ? »



Lis les syllabes et les mots. Explique bien les mots à tes parents. Si tu ne sais pas tu peux m'envoyer un message.

domaine	matériel	temps
écriture	Ton cahier	10 min

Choisis deux mots dans la fiche et écris deux phrases avec. Dis-les d'abord à l'oral à tes parents puis écris-les dans ton cahier.


domaine	matériel	temps
exercices	Ton cahier	20 min

Lis et recopie les phrases sur ton cahier. Puis compte les phrases et les mots.

Il est neuf heures. Ma sœur met sa casquette. Elle part au karaté.

Il y a phrases.

Il y a mots.

domaine	matériel	temps
 lecture	Ton cahier	20 min

Tu peux écouter le début de l'histoire « Rouge » à partir de ce [lien](#).
Lis ensuite la fiche de lecture.

✪ Je lis les mots

rouge - mamie - petite - jolie - une robe - la couleur
la joue - des rideaux - tricoter - une fille - un rosier

✪✪ Je lis des mots outils

il - bien - même - sa - pour - et - surtout
il - bien - même - sa - pour - et - surtout

✪✪✪ Je lis le texte 1


Il était une fois,
tout au fond d'un bois,
une bien jolie petite mamie.



Elle avait les joues **rouges**,
un très beau rosier **rouge**,
une ravissante robe **rouge**
et même des rideaux **rouges**.

C'était sa couleur adorée.

Cette petite mamie passait ses journées
à tricoter, tricoter,
surtout pour sa petite fille.



Mathématiques	matériel	temps
 chaque jour compte	Ton cahier et le modèle de la fiche ici	10 min

Écris toutes les façons de faire 46 (groupe 1) ou 73 (groupe 2)



Tu peux t'aider de la fiche. Elle est aussi sur le blogue.

Complète ou dessine:

en lettres.

Soixante-treize

7 dizaines et 3 unités

+ 1: 74

- 1: 72

dessine

Ex: 30 + 4

70 + 3

dessine

7


Mathématiques	matériel	temps
exercices	Ton cahier + lien ici	10 min

Tu vas refaire une dictée sur les nombres de 60 à 79. Il faut vraiment savoir les écrire correctement.

Le lien pour faire la dictée est [ici](#). Tu peux en faire d'autres en plus si tu veux.

Mathématiques	matériel	temps
calcul		10 min

Maintenant tu vas calculer des doubles. Tu peux revoir la leçon sur la fiche du 30/04/



Les doubles

Pour l'entraîner :

$2 + 2 = 4$

$3 + 3 = 6$

$4 + 4 = 8$

$5 + 5 = 10$

$1 + 1 = 2$

$6 + 6 = 12$

$8 + 8 = 16$

$0 + 0 = 0$

$10 + 10 = 20$

$9 + 9 = 18$

Mathématiques

matériel

temps




problème

Ton cahier

10 min

1 Tirobot a 6 bonbons. Il en a mangé 4.
Combien de bonbons a-t-il maintenant ?

Ta recherche




Ta phrase réponse

Il a bonbons maintenant.



Pour résoudre un problème :

- Tu racontes l'histoire : tu peux demander à ta famille de faire les personnages !
- Si tu as besoin tu fais un dessin.
- Tu écris l'opération avec le résultat.
- Tu écris la phrase qui donne la réponse.



Il a 4 bonbons maintenant.